

**BÀI: CÁC SỐ TRONG PHẠM VI 1000****CHƯƠNG 4: CÁC SỐ TRONG PHẠM VI 1000, PHÉP CỘNG PHÉP TRỪ TRONG PHẠM VI 1000****MÔN: TOÁN – CÁNH DIỀU - LỚP 2****BIÊN SOẠN: BAN CHUYÊN MÔN LOIGIAIHAY.COM****Câu 1.****Viết các số:** bốn trăm, năm trăm, sáu trăm, bảy trăm, tám trăm, chín trăm, một nghìn.**Phương pháp:**

Viết các số theo yêu cầu của bài toán.

**Cách giải:**

Bốn trăm: 400

Năm trăm: 500

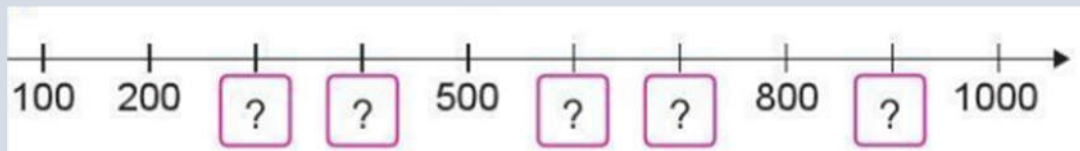
Sáu trăm: 600

Bảy trăm: 700

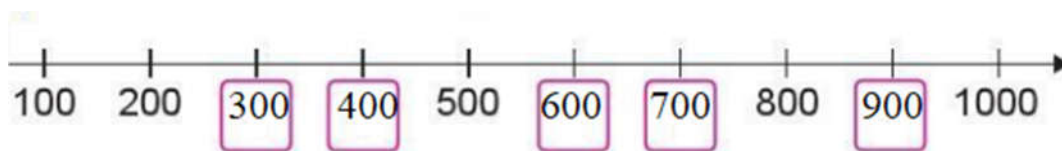
Tám trăm: 800

Chín trăm: 900

Một nghìn: 1000

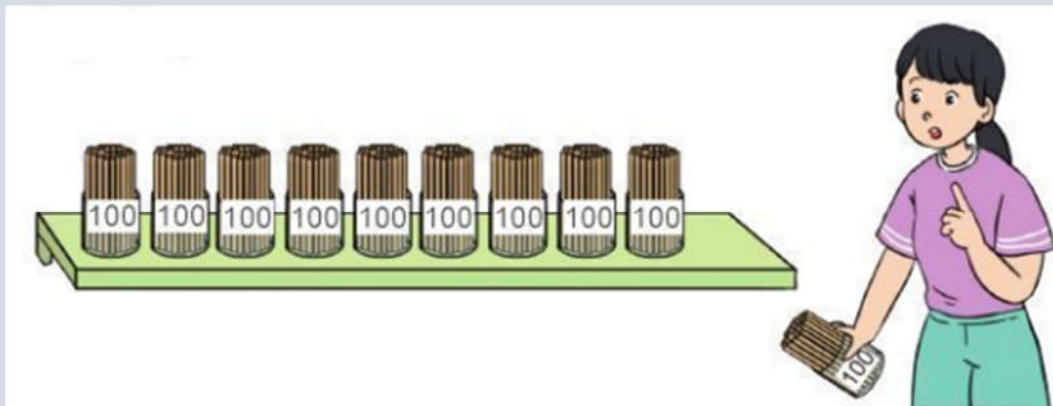
**Câu 2.****Số?****Phương pháp:**

Quan sát tia số rồi viết tiếp các số còn thiếu vào ô trống.

**Cách giải:**

## Bài 3.

Chị Mai muốn mua 800 ống hút làm bằng tre. Chị Mai cần lấy mấy hộp ống hút?

**Phương pháp:**

Quan sát hình vẽ, mỗi hộp gồm 100 ống hút, từ đó ta tính được số hộp chị Mai cần mua.

**Cách giải:**

Mỗi hộp có 100 ống hút nên chị Mai cần lấy 8 hộp để có 800 ống hút.

## Bài 4.

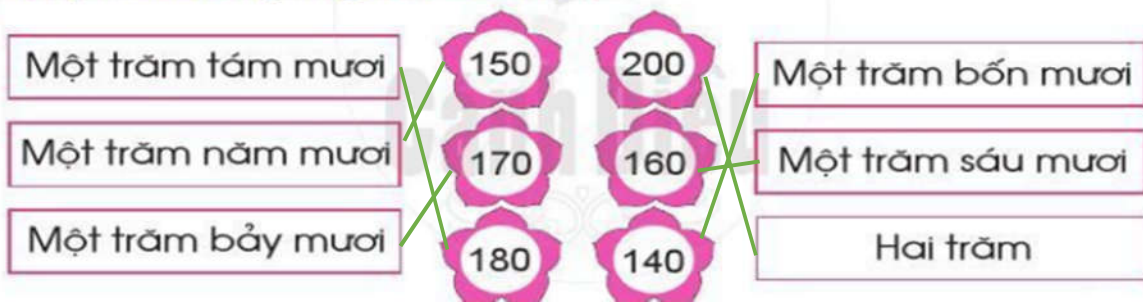
Chọn số tương ứng với cách đọc:

Một trăm tám mươi	150	200	Một trăm bốn mươi
Một trăm năm mươi	170	160	Một trăm sáu mươi
Một trăm bảy mươi	180	140	Hai trăm

**Phương pháp:**

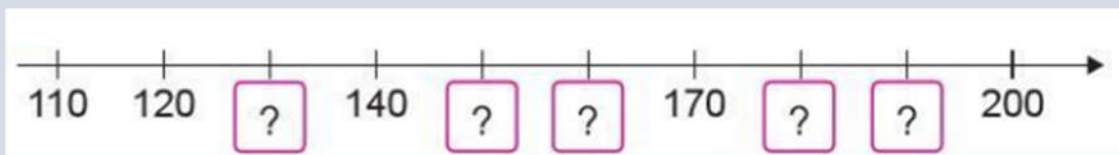
Nối các số với cách đọc tương ứng.

Cách giải:



Bài 5.

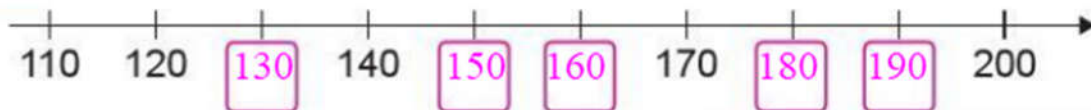
Số?



Phương pháp:

Quan sát tia số ta thấy, 2 số liên tiếp trên vạch chia hơn kém nhau 10 đơn vị. Từ đó ta điền các số còn thiếu vào ô trống.

Cách giải:



Bài 6.

Chọn chữ đặt trước đáp án đúng:

Số cúc áo có trong hình vẽ bên là:

A. 800

B. 170

C. 80



**Phương pháp:**

Quan sát hình vẽ để tìm tổng số chiếc cúc trong các hộp.

**Cách giải:**

Mỗi hộp nhỏ có 10 chiếc cúc, có 7 hộp nhỏ tương ứng với 70 chiếc cúc.

Vậy trong hình có tất cả 170 chiếc cúc.

**Chọn B.**

**Bài 7.**

**Chọn cách đọc tương ứng với số:**

Một trăm linh bảy	Một trăm linh năm	Một trăm linh sáu			
110	107	103	108	105	106
Một trăm mười	Một trăm linh ba	Một trăm linh tám			

**Phương pháp:**

Quan sát rồi nối mỗi số với cách đọc tương ứng.

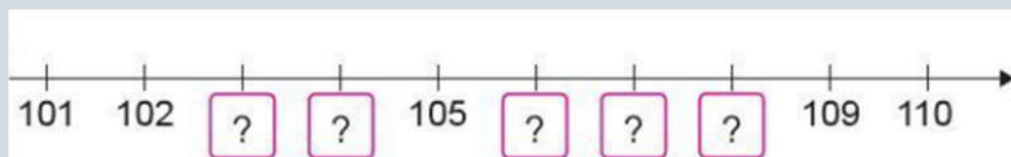
**Cách giải:**

Một trăm linh bảy	Một trăm linh năm	Một trăm linh sáu			
110	107	103	108	105	106
Một trăm mười	Một trăm linh ba	Một trăm linh tám			

*(Note: In the original image, green lines connect 110 to 'Một trăm mười', 107 to 'Một trăm linh bảy', 103 to 'Một trăm linh ba', 108 to 'Một trăm linh tám', 105 to 'Một trăm linh năm', and 106 to 'Một trăm linh sáu'.)*

**Bài 8.**

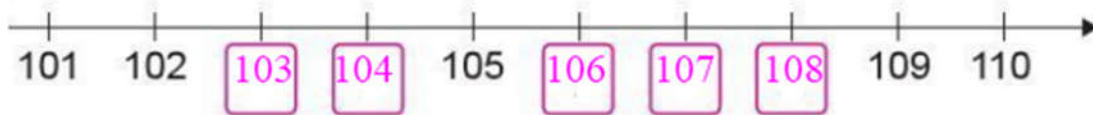
Số?



**Phương pháp:**


Viết tiếp các số còn thiếu vào ô trống.

Cách giải:



Bài 9.

Trò chơi “Lấy cho đủ số lượng”



**Phương pháp:**

Ta thấy mỗi hàng gồm 10 khối lập phương nhỏ.

Em lấy theo các hàng như vậy cho đủ số lượng.

**Cách giải:**

- Để lấy 130 khối lập phương ta thấy 13 hàng, mỗi hàng gồm 10 khối lập phương.
- Để lấy 104 khối lập phương ta lấy 10 hàng, rồi lấy thêm 4 khối lập phương nữa.

Loigiaihay.com