

## BÀI 43: BẢNG CHIA 2 (TIẾT 2)

MÔN: TOÁN – KẾT NỐI TRI THỨC VỚI CUỘC SỐNG - LỚP 2



BIÊN SOẠN: BAN CHUYÊN MÔN LOIGIAIHAY.COM

## Câu 1.

Số?

a)	Thừa số	2	2	2	2	2	b)	Số bị chia	8	16	12	10	18
	Thừa số	4	8	6	5	9		Số chia	2	2	2	2	2
	Tích							Thương					

## Phương pháp:

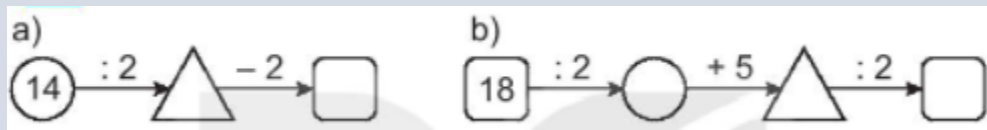
Tính nhẩm kết quả dựa vào bảng nhân 2 và bảng chia 2.

## Cách giải:

a)	Thừa số	2	2	2	2	2	b)	Số bị chia	8	16	12	10	18
	Thừa số	4	8	6	5	9		Số chia	2	2	2	2	2
	Tích	8	16	12	10	18		Thương	4	8	6	5	9

## Câu 2.

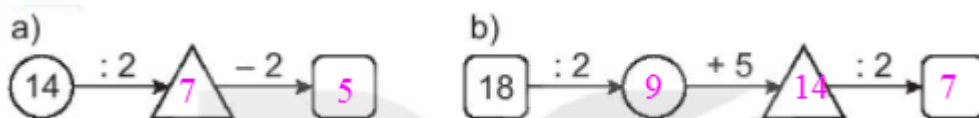
Số?



## Phương pháp:

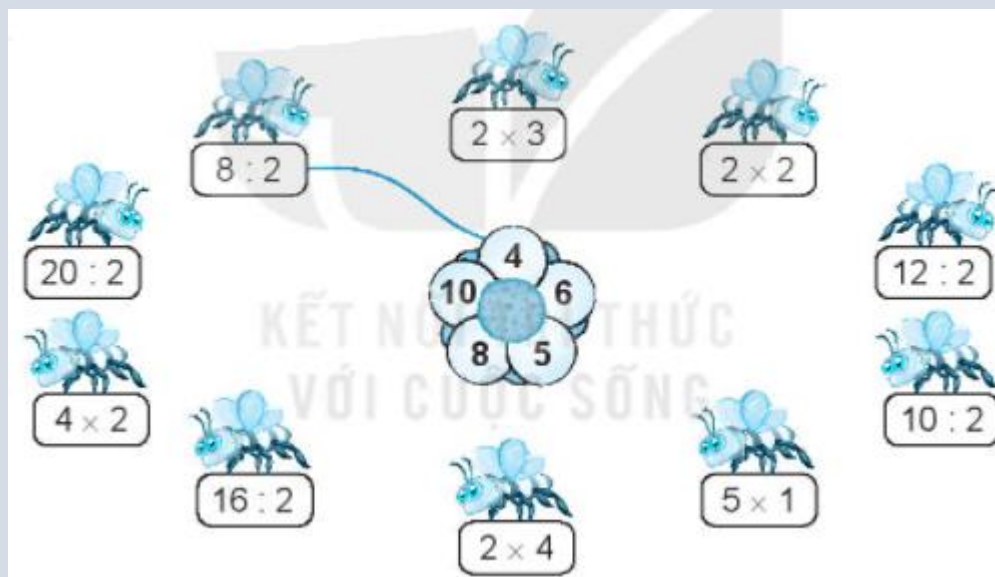
Tính kết quả các phép tính theo chiều mũi tên rồi điền vào ô trống.

## Cách giải:

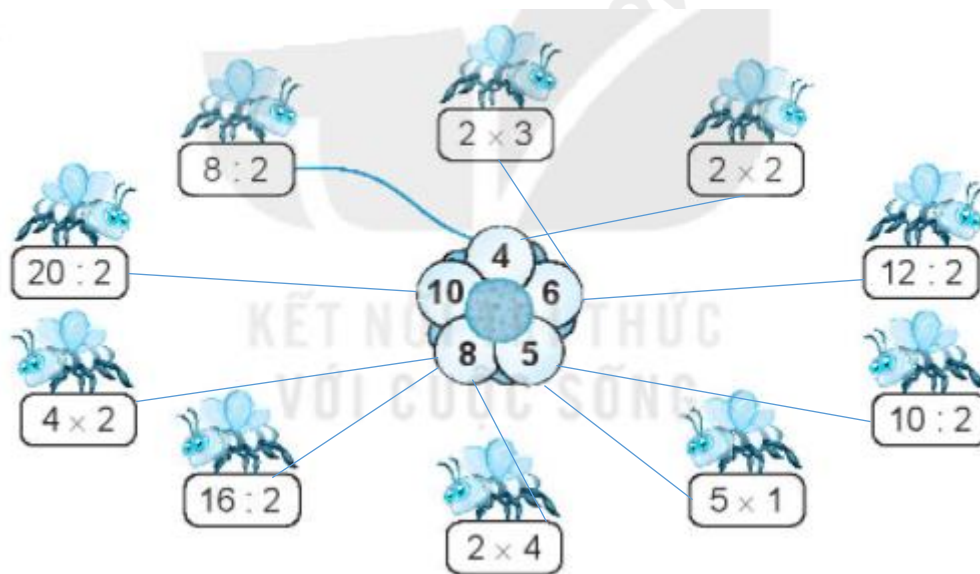


## Bài 3.

Nối (theo mẫu)

**Phương pháp:**

Tính nhằm kết quả các phép tính dựa vào bảng nhân 2, bảng chia 2 rồi nối với số tương ứng.

**Cách giải:**

## Bài 4.

Chia 12 chiếc tất giống nhau thành các đôi tất. Hỏi có tất cả bao nhiêu đôi tất?

**Phương pháp:**

Số đôi tất = Số chiếc tất giống nhau : 2

**Cách giải:**

Có tất cả số đôi tất là

$$12 : 2 = 6 \text{ (đôi)}$$

Đáp số: 6 đôi tất

**Loigiaihay.com**