

BÀI 50: SO SÁNH CÁC SỐ TRÒN TRĂM, TRÒN CHỤC (TIẾT 1)**MÔN: TOÁN – KẾT NỐI TRI THỨC VỚI CUỘC SỐNG - LỚP 2****BIÊN SOẠN: BAN CHUYÊN MÔN LOIGIAIHAY.COM****Câu 1.**

>, <, =

400 <input type="text"/> 450	700 <input type="text"/> 300	790 <input type="text"/> 800
370 <input type="text"/> 340	990 <input type="text"/> 1 000	90 <input type="text"/> 40 + 50

Phương pháp:

Cách so sánh:

- So sánh chữ số hàng trăm, số nào có chữ số hàng trăm lớn hơn thì lớn hơn.
- Nếu chữ số hàng trăm bằng nhau ta so sánh chữ số hàng chục, số nào có hàng chục lớn hơn thì lớn hơn.

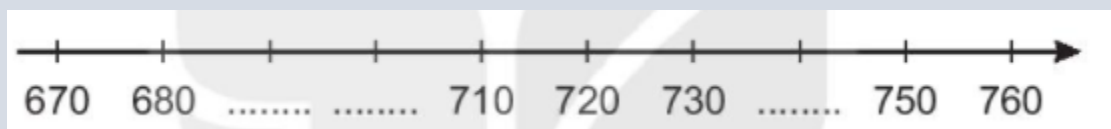
Cách giải:

400 <input type="text" value="<"/> 450	700 <input type="text" value=">"/> 300	790 <input type="text" value="<"/> 800
370 <input type="text" value=">"/> 340	990 <input type="text" value="<"/> 1 000	90 <input type="text" value="="/> 40 + 50

Câu 2.

Viết số thích hợp vào chỗ chấm.

a)



b) Trong các số em vừa viết ở câu a, số lớn nhất là, số bé nhất là

Phương pháp:

a) Quan sát tia số ta thấy, hai vạch chia liền nhau hơn kém nhau 10 đơn vị.

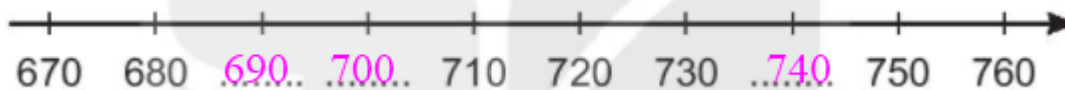
Từ đó ta điền được các số còn thiếu vào chỗ chấm.

b) So sánh các số vừa viết để tìm số lớn nhất, số bé nhất.

Cách giải:

a) Quan sát tia số ta thấy, hai vạch chia liền nhau trên tia số hơn kém nhau 10 đơn vị.

Ta điền như sau:



b) Trong các số em vừa viết ở câu a, số lớn nhất là **740**, số bé nhất là **690**.

Bài 3.

Khoanh vào chữ đặt trước câu đúng.

Có hai đội thu hoạch cà chua. Đội Một gồm các bạn Mai, Việt, Nam và Mi, thu hoạch được tất cả 230 quả cà chua. Đội Hai chỉ có Rô-bốt, thu hoạch được 320 quả cà chua.

- A. Số quả cà chua đội Một thu hoạch được nhiều hơn đội Hai.
- B. Số quả cà chua đội Một thu hoạch được ít hơn đội Hai.
- C. Số quả cà chua hai đội thu hoạch được bằng nhau.

Phương pháp:

So sánh số quả cà chua thu hoạch được của hai đội rồi khoanh vào đáp án đúng.

Cách giải:

Đội Một thu hoạch được 230 quả cà chua.

Đội Hai thu hoạch được 320 quả cà chua.

Mà $230 < 320$ nên số quả cà chua đội Một thu hoạch được ít hơn đội Hai.


Chọn đáp án **B**.

Bài 4.

Viết số thích hợp vào chỗ chấm.

Xếp que tính được số 930 như hình vẽ.

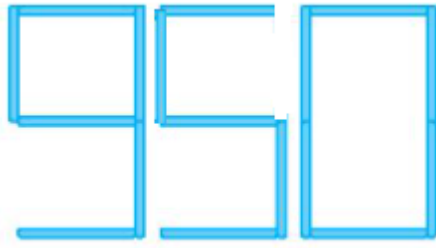
Chuyển chỗ một que tính để được số tròn chục lớn hơn số đã cho. Số tạo được là

**Phương pháp:**

Để tạo được số tròn chục lớn hơn số 930 ta giữ nguyên chữ số 9 và chữ số 0. Di chuyển một que diêm ở số 3 để tạo thành số 5.

Cách giải:

Để tạo được số tròn chục lớn hơn số 930 ta giữ nguyên chữ số 9 và chữ số 0. Di chuyển một que diêm ở số 3 để tạo thành số 5.



Loigiaihay.com