

**BÀI 62: PHÉP TRỪ (CÓ NHỚ) TRONG PHẠM VI 1000 (TIẾT 1)****MÔN: TOÁN – KẾT NỐI TRI THỨC VỚI CUỘC SỐNG - LỚP 2****BIÊN SOẠN: BAN CHUYÊN MÔN LOIGIAIHAY.COM****Câu 1.**

Tính.

$\begin{array}{r} 533 \\ - 204 \\ \hline \end{array}$	$\begin{array}{r} 672 \\ - 637 \\ \hline \end{array}$	$\begin{array}{r} 488 \\ - 209 \\ \hline \end{array}$	$\begin{array}{r} 930 \\ - 225 \\ \hline \end{array}$
.....	.....	.....	.....

**Phương pháp:**

Thực hiện trừ các chữ số thẳng cột theo thứ tự từ hàng đơn vị đến hàng chục, hàng trăm.

**Cách giải:**

$\begin{array}{r} 533 \\ - 204 \\ \hline \dots 329 \end{array}$	$\begin{array}{r} 672 \\ - 637 \\ \hline \dots 35 \end{array}$	$\begin{array}{r} 488 \\ - 209 \\ \hline \dots 279 \end{array}$	$\begin{array}{r} 930 \\ - 225 \\ \hline \dots 705 \end{array}$
---	--	---	---

**Câu 2.**

Đặt tính rồi tính.

$622 - 13$

$381 - 128$

$792 - 56$

$830 - 812$

.....

.....

.....

.....

.....

.....

.....

.....

.....

.....

.....

.....

**Phương pháp:**

- Đặt tính sao cho các chữ số cùng hàng thẳng cột với nhau.

- Trừ theo các cột từ phải sang trái.

**Cách giải:**

$\begin{array}{r} 622 \\ - 13 \\ \hline 609 \end{array}$	$\begin{array}{r} 381 \\ - 128 \\ \hline 253 \end{array}$	$\begin{array}{r} 792 \\ - 56 \\ \hline 736 \end{array}$	$\begin{array}{r} 830 \\ - 812 \\ \hline 18 \end{array}$
--	---	--	--

**Bài 3.**

Một hội trường có 450 ghế ngồi. Trong hội trường đã có 235 người, mỗi người ngồi một ghế. Hỏi trong hội trường còn lại bao nhiêu ghế trống?

**Phương pháp:**

Số ghế trống trong hội trường = Số ghế ngồi hội trường có – Số người trong hội trường.

**Cách giải:**

Trong hội trường còn lại số ghế trống là




$$450 - 235 = 215 \text{ (ghế trống)}$$

Đáp số: 215 ghế trống

**Bài 4.**

Trong hình sau đây, Rô-bốt sẽ đi theo đường qua các phép tính đúng. Hãy tô màu vào các phép tính đúng và khoanh vào địa điểm mà Rô-bốt sẽ đến.

The maze contains the following subtraction problems:

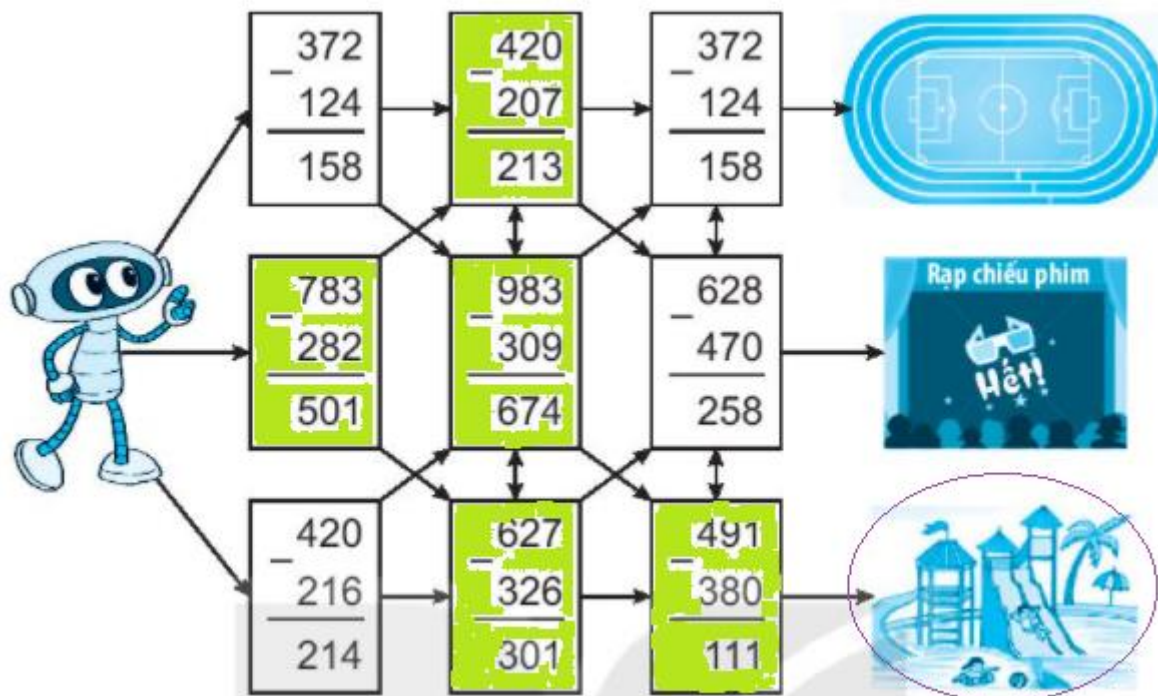
$\begin{array}{r} 372 \\ - 124 \\ \hline 158 \end{array}$	$\begin{array}{r} 420 \\ - 207 \\ \hline 213 \end{array}$	$\begin{array}{r} 372 \\ - 124 \\ \hline 158 \end{array}$	
$\begin{array}{r} 783 \\ - 282 \\ \hline 501 \end{array}$	$\begin{array}{r} 983 \\ - 309 \\ \hline 674 \end{array}$	$\begin{array}{r} 628 \\ - 470 \\ \hline 258 \end{array}$	
$\begin{array}{r} 420 \\ - 216 \\ \hline 214 \end{array}$	$\begin{array}{r} 627 \\ - 326 \\ \hline 301 \end{array}$	$\begin{array}{r} 491 \\ - 380 \\ \hline 111 \end{array}$	

**Phương pháp:**

Thực hiện trừ các chữ số thẳng cột theo thứ tự từ phải sang trái.

Tô màu cho các phép tính đúng và khoanh vào địa điểm mà Rô-bốt sẽ đến.

**Cách giải:**



Loigiaihay.com