

BÀI 72: ÔN TẬP PHÉP NHÂN, PHÉP CHIA (TIẾT 3)

MÔN: TOÁN – KẾT NỐI TRI THỨC VỚI CUỘC SỐNG - LỚP 2

 **BIÊN SOẠN: BAN CHUYÊN MÔN LOIGIAIHAY.COM**

Câu 1.

Số?

a)						
\times	2	2	2	5	5	5
	7	6	5	4	3	2
	14					

b)					
:	14	16	18	40	45
	2	2	2	5	5
	7				

Phương pháp:

- Để tìm tích ta lấy thừa số thứ nhất nhân với thừa số thứ hai.
- Để tìm thương ta lấy số bị chia chia cho số chia.

Cách giải:

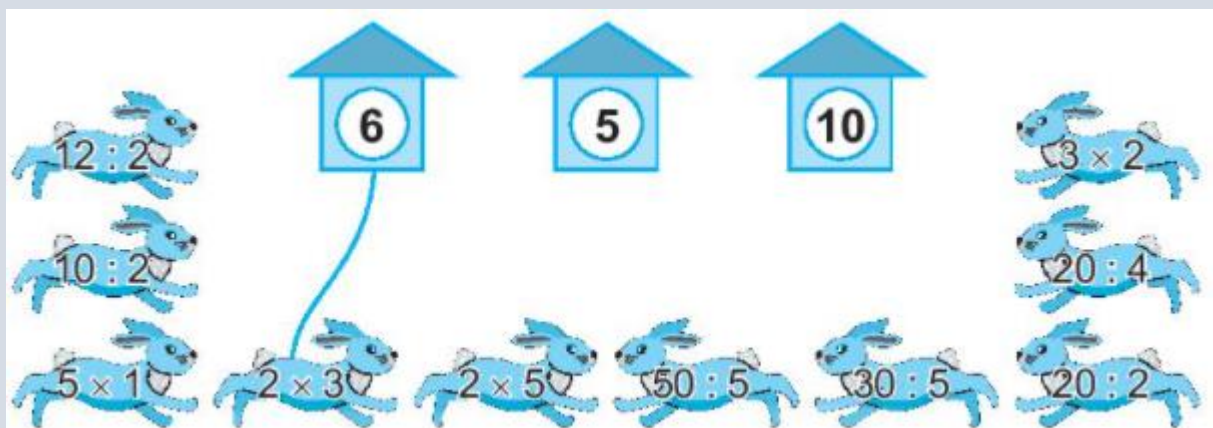
a)						
\times	2	2	2	5	5	5
	7	6	5	4	3	2
	14	12	10	20	15	10

b)					
:	14	16	18	40	45
	2	2	2	5	5
	7	8	9	8	9

Câu 2.

Thỏ vào được chuồng khi kết quả của phép tính ghi trên thỏ bằng số ghi ở chuồng đó.

a) Nói mỗi con thỏ với chuồng nó được vào (theo mẫu).



b) Khoanh vào chữ đặt trước câu trả lời đúng.

Chuồng nào có nhiều thỏ được vào nhất?

A. Chuồng số 6

B. Chuồng số 5

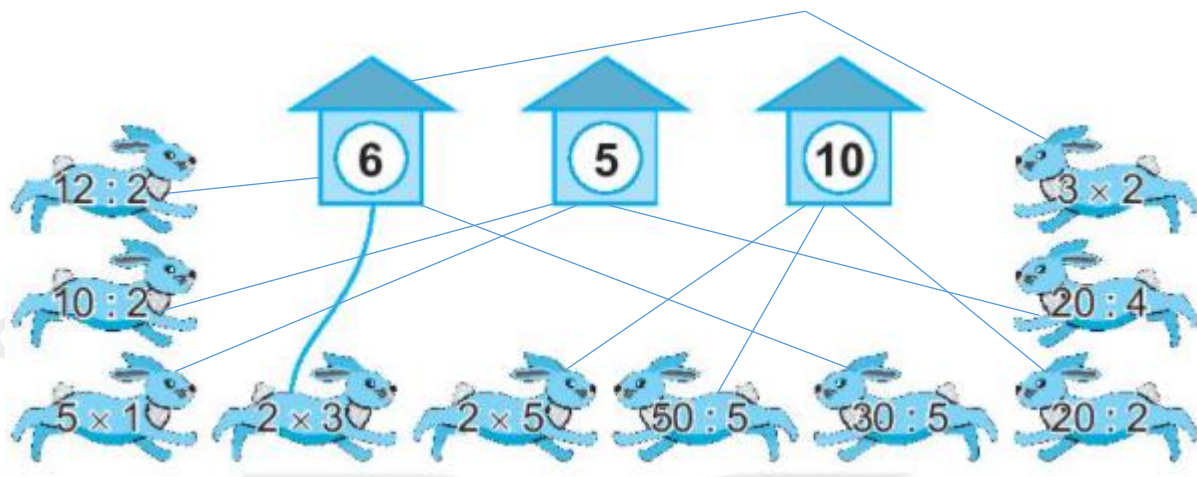
C. Chuồng số 10

Phương pháp:

Em thực hiện tính nhẩm rồi nối mỗi con thỏ với chuồng có ghi kết quả phép tính giống nhau.

Cách giải

a)

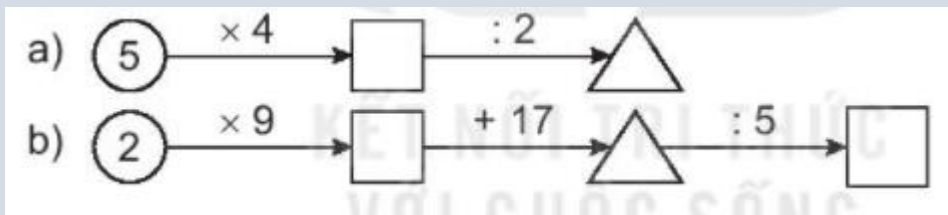


b) Em đếm được chuồng số 6 có 4 con thỏ, chuồng số 5 có 3 con thỏ, chuồng số 10 có 3 con thỏ.

Vậy chuồng 6 có nhiều thỏ được vào nhất. Chọn A.

Bài 3.

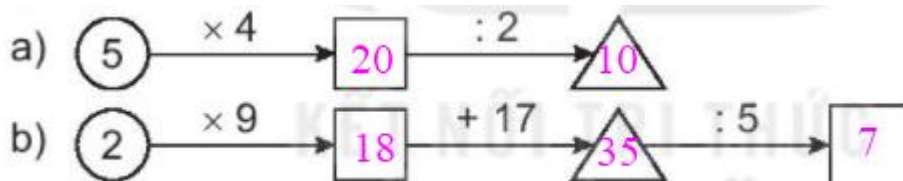
Số?



Phương pháp:

Thực hiện tính kết quả trên mỗi phép tính rồi viết số thích hợp vào ô trống.

Cách giải:



Bài 4.

Trong nhà để xe có 10 xe máy. Hỏi có tất cả bao nhiêu bánh xe máy?

Phương pháp:

Mỗi xe máy có 2 bánh.

Để tính số bánh xe ta lấy số chiếc xe máy nhân với 2.

Cách giải:

Có tất cả số bánh xe máy là

$$10 \times 2 = 20 \text{ (bánh xe)}$$

Đáp số: 20 bánh xe

Bài 5.

Khoanh vào chữ đặt trước câu trả lời đúng.

Trong chuồng có cả gà và thỏ. Biết cả gà và thỏ có 10 cái chân và số gà nhiều hơn số thỏ. Hỏi trong chuồng có bao nhiêu con gà?

A. 6 con gà

B. 3 con gà

C. 2 con gà

Phương pháp:

Số công nhân nam = Số công nhân của công ty – số công nhân nữ

Cách giải:

Công ty có số công nhân nam là

$$325 - 225 = 100 \text{ (công nhân)}$$

Đáp số: 100 công nhân