

BÀI : TỔNG CÁC SỐ HẠNG BẰNG NHAU

SÁCH: VBT TOÁN – CHÂN TRỜI SÁNG TẠO - LỚP 2

 BIÊN SOẠN: BAN CHUYÊN MÔN LOIGIAIHAY.COM

Câu 1.

Tính xem có tất cả bao nhiêu con gà.

Mẫu:



$$7 + 1 + 4 + 4 = 16$$

a)



$$\dots + \dots + \dots + \dots + \dots = \dots$$

b)


Phương pháp:

Quan sát tranh rồi viết phép tính và tính số con vật trong mỗi hình theo mẫu.

Cách giải:

a)



$$6 + 3 + 4 + 5 + 1 = 19$$

b)



$$4 + 4 + 4 = 12$$

Câu 2.

Tính tổng các số hạng bằng nhau rồi viết theo mẫu.

Mẫu:

$2 + 2 + 2 = 6$

2 được lấy 3 lần

a)

..... =

... được lấy ... lần

b)

c)

Phương pháp:

Tính nhẩm kết quả các phép trừ rồi điền số thích hợp vào chỗ chấm.


Cách giải


- a) $12 - 2 = 10$ $16 - 6 = 10$ $15 - 5 = 10$
 $17 - 7 = 10$ $18 - 8 = 10$ $19 - 9 = 10$
 b) $10 = 15 - 5$ $10 = 19 - 9$ $19 - 9 = 10$


Bài 3.**Phương pháp:**


Quan sát tranh rồi viết phép tính thành tổng các số hạng bằng nhau theo mẫu.

Cách giải:

a) 
 $2 + 2 + 2 + 2 \dots = 8$ 2. được lấy 4. lần

b) 
 $3 + 3 + 3 + 3 \dots = 12$ 3. được lấy 4. lần

c) 
 $4 + 4 + 4 \dots = 12$ 4. được lấy 3. lần

d) 
 $5 + 5 \dots = 10$ 5. được lấy 2. lần

Loigiaihay.com

Loigiaihay.com

Loigiaihay.com

Loigiai

Loigiaihay.com

Loigiaihay.com

Loigiai

Loigiaihay.com

hay.