

## BÀI: BẢNG CHIA 2

SÁCH: VBT TOÁN – CHÂN TRỜI SÁNG TẠO - LỚP 2



BIÊN SOẠN: BAN CHUYÊN MÔN LOIGIAIHAY.COM

## Câu 1.

Dựa vào bảng nhân 2, tìm kết quả ở bảng chia 2 (viết theo mẫu).

$2 \times 1 = 2$	$2 : 2 = 1$	$2 : 2 = 1$
$2 \times 2 = 4$	$4 : 2 = 2$	$4 : 2 = 2$
$2 \times 3 = 6$	$6 : 2 = 3$	$6 : 2 = 3$
		$8 : 2 = \dots$
		$10 : 2 = \dots$
		$12 : 2 = \dots$
		$14 : 2 = \dots$
		$16 : 2 = \dots$
		$18 : 2 = \dots$
		$20 : 2 = \dots$

## Phương pháp:

Tính nhẩm kết quả các phép chia dựa vào bảng chia 2 đã học.

## Cách giải:

$8 : 2 = 4$

$10 : 2 = 5$

$12 : 2 = 6$

$14 : 2 = 7$

$16 : 2 = 8$

$18 : 2 = 9$

$20 : 2 = 10$

## Câu 2.

Tính nhẩm.

$6 : 2 = \dots$

$16 : 2 = \dots$

$10 : 2 = \dots$

$14 : 2 = \dots$

$2 : 2 = \dots$

$8 : 2 = \dots$

$18 : 2 = \dots$

$12 : 2 = \dots$

$4 : 2 = \dots$

$20 : 2 = \dots$

## Phương pháp:

Tính nhẩm kết quả phép tính theo bảng chia 2 đã học.

## Cách giải

$6 : 2 = 3$

$16 : 2 = 8$

$10 : 2 = 5$

$14 : 2 = 7$

$2 : 2 = 1$

$8 : 2 = 4$      $18 : 2 = 9$      $12 : 2 = 6$      $4 : 2 = 2$      $20 : 2 = 10$

**Bài 3.**

Viết số vào chỗ chấm.

$... : 2 = 5$

$... : 2 = 7$

$... : 2 = 2$

$... : 2 = 9$

$... : 2 = 10$

$... : 2 = 3$

$... : 2 = 4$

$... : 2 = 6$

$... : 2 = 8$

$... : 2 = 1$

**Phương pháp:**

Tính nhẩm theo bảng chia 2 đã học rồi viết số bị chia cho mỗi phép tính.

**Cách giải:**

$10 : 2 = 5$

$14 : 2 = 7$

$4 : 2 = 2$

$18 : 2 = 9$

$20 : 2 = 10$

$6 : 2 = 3$

$8 : 2 = 4$

$12 : 2 = 6$

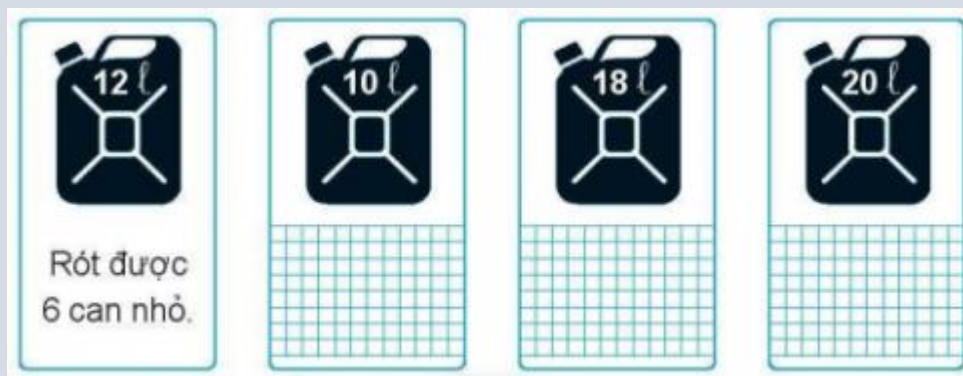
$16 : 2 = 8$

$2 : 2 = 1$

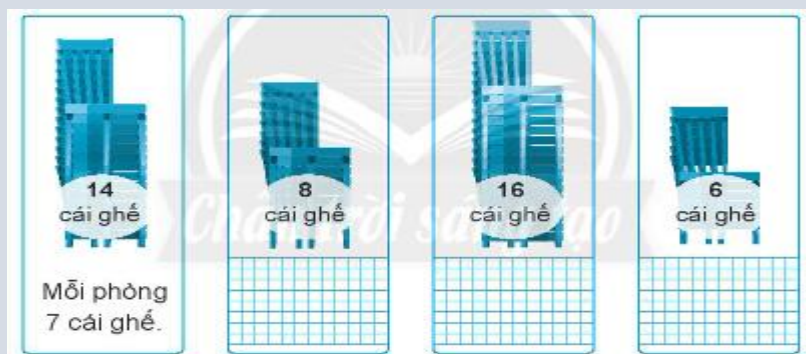
**Bài 4.**

Viết (theo mẫu).

a) Rót dầu từ can lớn vào các can nhỏ, mỗi can nhỏ 2 l. Hỏi rót được mấy can nhỏ?



b) Người ta xếp đều một số ghế vào 2 phòng. Mỗi phòng có mấy cái ghế?

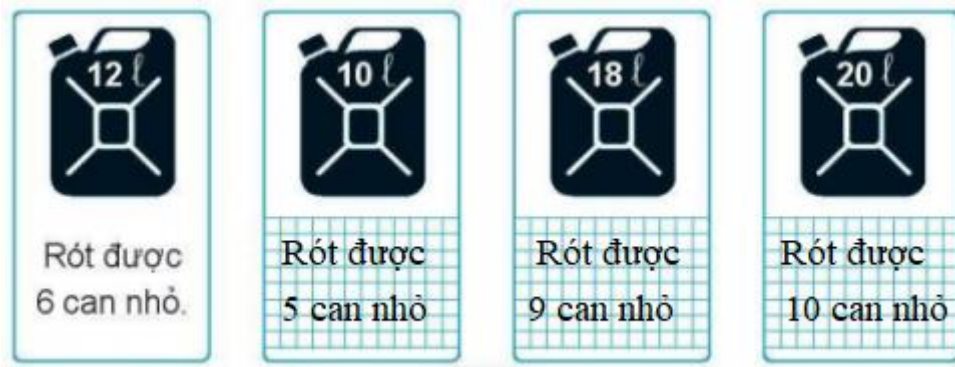
**Phương pháp:**

a) Để tính số can nhỏ ta lấy số lít ở can lớn chia cho số lít ở mỗi can nhỏ.

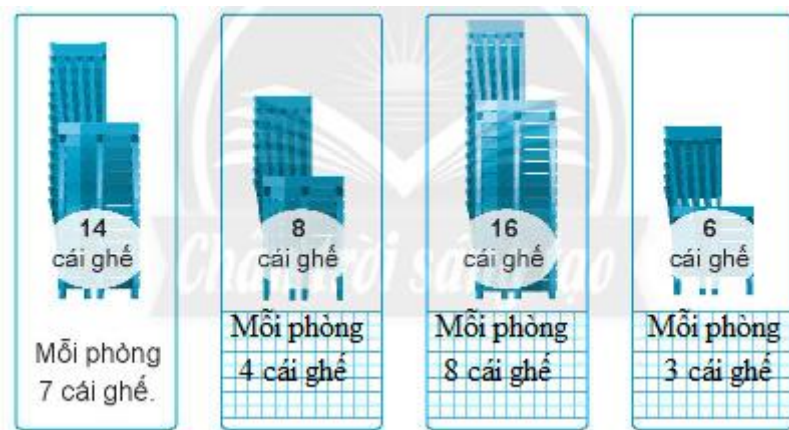
b) Để tính số cái ghế trong mỗi phòng ta lấy tổng số cái ghế chia cho số phòng.

**Cách giải:**

a)



b)



**Bài 5.**

Tô đen các ô có phép tính sai.

$2 \times 7 = 14$	$2 \times 9 = 18$	$14 : 2 = 7$	$2 \times 1 = 2$
$16 : 2 = 7$	$18 : 2 = 8$	$2 \times 8 = 18$	$2 : 1 = 1$

**Phương pháp:**

Tính nhằm kết quả các phép tính theo bảng nhân 2 và bảng chia 2 rồi tô đen các ô có phép tính sai.

**Cách giải:**

Các phép tính sai là:

$16 : 2 = 7$

$18 : 2 = 8$

$2 \times 8 = 18$

$2 : 1 = 1$

Em tự tô màu vào hình vẽ.

Loigiaihay.com

Loigiaihay.com

Loigiaihay.com

Loigiai

Loigiaihay.com

Loigiaihay.com

Loigiai

Loigiaihay.com

hay.