

Họ và tên:

Lớp:

ĐỀ KIỂM TRA HỌC KÌ 1**Môn: Toán – Lớp 3****Bộ sách: Cánh diều**

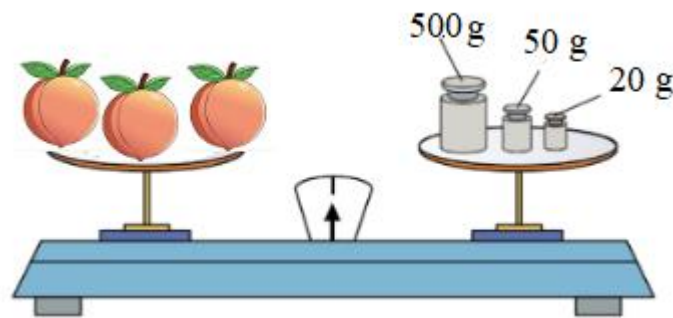
Thời gian làm bài: 40 phút

I. TRẮC NGHIỆM

(Khoanh vào chữ đặt trước câu trả lời đúng)

Câu 1. Số dư của phép chia $129 : 7$ là:

- A. 2 B. 3 C. 4 D. 5

Câu 2. Các quả đào có cân nặng bằng nhau. Mỗi quả đào cân nặng số gam là:

- A. 190 g B. 570 g C. 95 g D. 114 g

Câu 3. Giá trị của biểu thức $115 + 365 : 5$ là

- A. 188 B. 96 C. 94 D. 128

Câu 4. Nhà Hoa có 144 con gà. Hôm nay nhà Hoa bán đi $\frac{1}{6}$ số gà đó. Hỏi nhà Hoa hôm nay đã bán đi bao nhiêu con gà?

- A. 20 con gà B. 6 con gà C. 24 con gà D. 25 con gà

Câu 5. Bạn Nam làm một hộp quà dạng khối hộp chữ nhật và một mặt dán một tờ giấy. Hỏi bạn Nam làm 8 hộp quà như thế thì cần bao nhiêu tờ giấy màu?

- A. 8 tờ B. 64 tờ C. 40 tờ D. 48 tờ

Câu 6. Đoạn thẳng AB dài 72 mm, đoạn thẳng AB dài hơn đoạn thẳng CD là 16 mm. Hỏi cả hai đoạn thẳng dài bao nhiêu mi-li-mét?

- A. 160 mm B. 128 mm C. 104 mm D. 88 mm

PHẦN 2. TỰ LUẬN**Câu 1.** Đặt tính rồi tính:

- a) $356 + 118$ b) $985 - 237$ c) 256×3 d) $453 : 3$

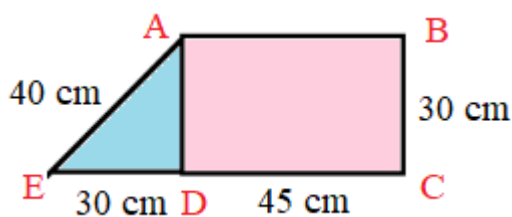
.....

Câu 2. Tìm x biết:

a) $x : 8 = 56 : 2$

b) $420 - x = 138$

Câu 3. Điền vào chỗ trống:



a) Chu vi của hình chữ nhật ABCD là cm.

b) Chu vi của hình tam giác ADE là cm.

c) Chu vi của hình tứ giác ABCE là cm.

Câu 4. Hôm qua cửa hàng bán được 192 cái bánh. Hôm nay, số bánh bán được giảm đi 3 lần so với ngày hôm qua. Hỏi cả hai ngày cửa hàng bán được bao nhiêu cái bánh?

.....

.....

.....

.....

HƯỚNG DẪN GIẢI CHI TIẾT

I. TRẮC NGHIỆM

1. B	2. A	3. A	4. C	5. D	6. B
------	------	------	------	------	------

II. TỰ LUẬN

Câu 1. Đặt tính rồi tính:

a) $356 + 118$ b) $985 - 237$ c) 256×3 d) $453 : 3$

Phương pháp giải

Bước 1: Đặt tính theo quy tắc đã học

Bước 2:

- Cộng hoặc trừ các chữ số cùng hàng thẳng cột với nhau
- Thực hiện nhân lần lượt từ phải sang trái
- Thực hiện chia lần lượt từ trái sang phải

Lời giải chi tiết

$$\begin{array}{r} 356 \\ + 118 \\ \hline 474 \end{array}$$

$$\begin{array}{r} 985 \\ - 237 \\ \hline 748 \end{array}$$

$$\begin{array}{r} 256 \\ \times 3 \\ \hline 768 \end{array}$$

$$\begin{array}{r} 453 \quad 3 \\ 3 \overline{) 151} \\ \underline{15} \\ 03 \\ \underline{03} \\ 0 \end{array}$$

Câu 2. Tìm x, biết:

a) $x : 8 = 56 : 2$ b) $420 - x = 138$

Phương pháp giải

- Bước 1: Tính giá trị của vế phải
- Bước 2: Muốn tìm số bị chia ta lấy thương nhân với số chia

Muốn tìm số trừ ta lấy số bị trừ trừ đi hiệu

Lời giải chi tiết

a) $x : 8 = 56 : 2$

$$x : 8 = 28$$

$$x = 28 \times 8$$

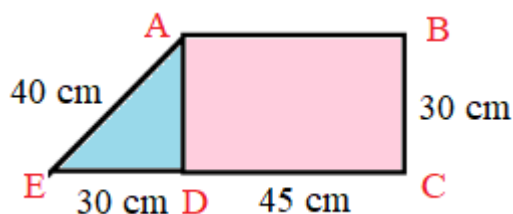
$$x = 224$$

b) $420 - x = 138$

$$x = 420 - 138$$

$$x = 282$$

Câu 3.



a) Chu vi của hình chữ nhật ABCD là cm.

b) Chu vi của hình tam giác ADE là cm.

c) Chu vi của hình tứ giác ABCE là cm.

Phương pháp giải

Chu vi của mỗi hình tam giác, hình tứ giác, hình chữ nhật bằng tổng độ dài các cạnh của nó.

Lời giải chi tiết

Chu vi của hình chữ nhật ABCD là

$$(45 + 30) \times 2 = 150 \text{ (cm)}$$

Chu vi của hình tam giác ADE là

$$30 + 30 + 40 = 100 \text{ (cm)}$$

Độ dài cạnh EC là

$$30 + 45 = 75 \text{ (cm)}$$

Chu vi của hình tứ giác ABCE là

$$45 + 40 + 75 + 30 = 190 \text{ (cm)}$$

Ta điền như sau:

a) Chu vi của hình chữ nhật ABCD là **150** cm.

b) Chu vi của hình tam giác ADE là **100** cm.

c) Chu vi của hình tứ giác ABCE là **190** cm.

Câu 4. Hôm qua cửa hàng bán được 192 cái bánh. Hôm nay, số bánh bán được giảm đi 3 lần so với ngày hôm qua. Hỏi cả hai ngày cửa hàng bán được bao nhiêu cái bánh?

Phương pháp giải

- Tìm số bánh ngày hôm nay bán được = Số bánh ngày hôm qua bán được : 3

- Tìm tổng số bánh cả 2 ngày bán được

Lời giải chi tiết

Số bánh ngày hôm nay bán được là

$$192 : 3 = 64 \text{ (cái bánh)}$$

Cả hai ngày cửa hàng bán được số cái bánh là

$$192 + 64 = 256 \text{ (cái bánh)}$$

Đáp số: 256 cái bánh

-----**HẾT**-----