

Họ và tên:

Lớp:

ĐỀ KIỂM TRA HỌC KÌ 1**Môn: Toán – Lớp 2****Bộ sách: Chân trời sáng tạo**

Thời gian làm bài: 40 phút

I. TRẮC NGHIỆM

(Khoanh vào chữ đặt trước câu trả lời đúng)

Câu 1. Dấu thích hợp điền vào chỗ chấm $23 + 48 \dots 90 - 32$ là:

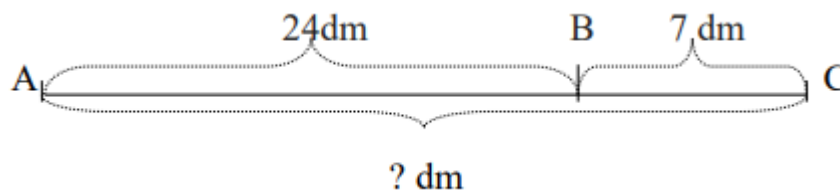
A. < B. > C. =

Câu 2. 4 giờ chiều hay còn gọi là giờ.

A. 18 giờ B. 15 giờ C. 16 giờ D. 17 giờ

Câu 3. Thứ tư tuần này là ngày 13 tháng 12 thì thứ tư tuần sau là ngày tháng 12.

A. 20 B. 21 C. 22 D. 23

Câu 4. Đoạn thẳng AC dài là:

A. 31 dm B. 30 dm C. 94 dm D. 31 cm

Câu 5. $8 \text{ dm} = \dots \text{ cm}$

A. 40 B. 80 C. 8 D. 60

Câu 6. Bao ngô cân nặng 46 kg, bao thóc nặng hơn bao ngô 18 kg. Hỏi bao thóc nặng bao nhiêu ki-lô-gam?

A. 64 kg B. 28 kg C. 54 kg D. 63 kg

PHẦN 2. TỰ LUẬN**Câu 1.** Đặt tính rồi tính:a) $57 + 28$ b) $81 - 36$ c) $90 - 46$ d) $47 + 29$

.....

.....

.....

Câu 2. Tìm x:a) $x + 28 = 64$ b) $98 - x = 19$

.....

.....

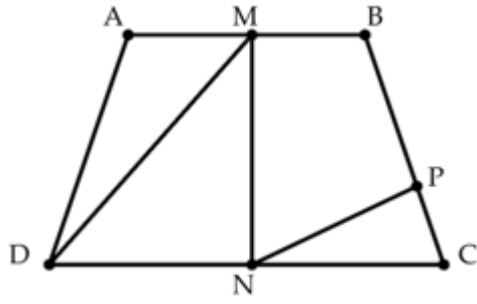
Câu 3. Năm nay bố Lan 43 tuổi. Bố nhiều hơn Lan 29 tuổi. Hỏi năm nay Lan bao nhiêu tuổi?

.....

.....

.....

Câu 4. Quan sát hình vẽ dưới đây cho biết:



- a) Có tất cả bao nhiêu điểm trong hình vẽ trên.
- b) Viết ba điểm thẳng hàng có trong hình vẽ.
- c) Hình trên có bao nhiêu hình tam giác.

.....

.....

.....

HƯỚNG DẪN GIẢI CHI TIẾT

I. TRẮC NGHIỆM

1. B	2. C	3. A	4. A	5. B	6. A
------	------	------	------	------	------

II. TỰ LUẬN

Câu 1. Đặt tính rồi tính.

- a) $57 + 28$ b) $81 - 36$ c) $90 - 46$ d) $47 + 29$

Phương pháp giải

- Đặt tính sao cho các chữ số cùng hàng thẳng cột với nhau
- Cộng hoặc trừ các chữ số thẳng cột lần lượt từ phải sang trái.

Lời giải chi tiết

$$\begin{array}{r} 57 \\ + 28 \\ \hline 85 \end{array} \quad \begin{array}{r} 81 \\ - 36 \\ \hline 45 \end{array} \quad \begin{array}{r} 90 \\ - 46 \\ \hline 44 \end{array} \quad \begin{array}{r} 47 \\ + 29 \\ \hline 76 \end{array}$$

Câu 2.

Tìm x:

- a) $x + 28 = 64$ b) $98 - x = 19$

Phương pháp giải

- Muốn tìm số bị trừ ta lấy hiệu cộng với số trừ.
- Muốn tìm số trừ ta lấy số bị trừ trừ đi hiệu

Lời giải chi tiết

a) $x + 28 = 64$

$$x = 64 - 28$$

$$x = 36$$

b) $98 - x = 19$

$$x = 98 - 19$$

$$x = 79$$

Câu 3. Năm nay bố Lan 43 tuổi. Bố nhiều hơn Lan 29 tuổi. Hỏi năm nay Lan bao nhiêu tuổi?

Phương pháp giải

Số tuổi của Lan = Tuổi bố hiện nay – 29 tuổi

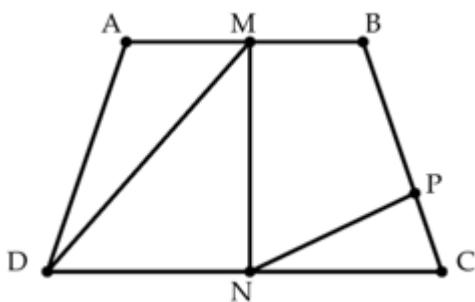
Lời giải chi tiết

Số tuổi của Lan năm nay là

$$43 - 29 = 14 \text{ (tuổi)}$$

Đáp số: 14 tuổi

Câu 4. Quan sát hình vẽ dưới đây cho biết:



- Có tất cả bao nhiêu điểm trong hình vẽ trên.
- Viết ba điểm thẳng hàng có trong hình vẽ.
- Hình trên có bao nhiêu hình tam giác.

Phương pháp giải

Quan sát hình vẽ để trả lời câu hỏi

Lời giải chi tiết

- Trong hình trên có tất cả 7 điểm.
- Ba điểm A, M, B thẳng hàng
Ba điểm B, P, C thẳng hàng
Ba điểm D, N, C thẳng hàng
- Hình trên có 3 hình tam giác.

-----HẾT-----

Loigiaihay.com

Loigiaihay.com

Loigiaihay.com

Loigiai

Loigiaihay.com

Loigiaihay.com

Loigiaiha

Loigiaihay.com