

Họ và tên: .....

Lớp: .....

**ĐỀ KIỂM TRA HỌC KÌ 1 – ĐỀ SỐ 1****Môn: Toán – Lớp 2****Bộ sách: Kết nối tri thức**

Thời gian làm bài: 40 phút

**I. TRẮC NGHIỆM**

(Khoanh vào chữ đặt trước câu trả lời đúng)

**Câu 1.** Số gồm 8 chục 6 đơn vị là:

- A. 68                      B. 88                      C. 86                      D. 62

**Câu 2.** Số liền trước của số tròn chục lớn nhất có hai chữ số là:

- A. 90                      B. 89                      C. 91                      D. 99

**Câu 3.** Số lớn nhất trong dãy số 46, 75, 52, 68 là:

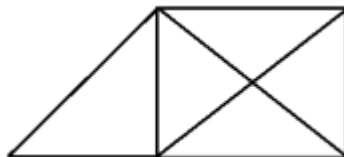
- A. 46                      B. 75                      C. 52                      D. 68

**Câu 4.** Số thích hợp để điền vào chỗ chấm  $33 \text{ dm} + 57 \text{ dm} = \dots\dots\dots \text{ dm}$  là:

- A. 90                      B. 80                      C. 91                      D. 89

**Câu 5.** Bác Hà mang 75 quả trứng ra chợ bán trong đó có 18 quả trứng vịt, còn lại là trứng gà. Hỏi số quả trứng gà bác Hà mang ra chợ là bao nhiêu quả?

- A. 93 quả                      B. 57 quả                      C. 67 quả                      D. 66 quả

**Câu 6.** Số hình tứ giác có trong hình vẽ bên là:

- A. 2                      B. 3                      C. 4                      D. 5

**Câu 7.** 18 giờ còn được gọi là:

- A. 4 giờ chiều                      B. 6 giờ chiều                      C. 5 giờ chiều                      D. 6 giờ tối

**Câu 8.** Ngày 26 tháng 10 là thứ Tư. Sinh nhật Nam vào ngày 30 tháng 10. Hỏi sinh nhật Nam vào ngày thứ mấy?

- A. Thứ sáu                      B. Thứ bảy                      C. Chủ nhật                      D. Thứ hai

**PHẦN 2. TỰ LUẬN****Câu 1.** Đặt tính rồi tính:

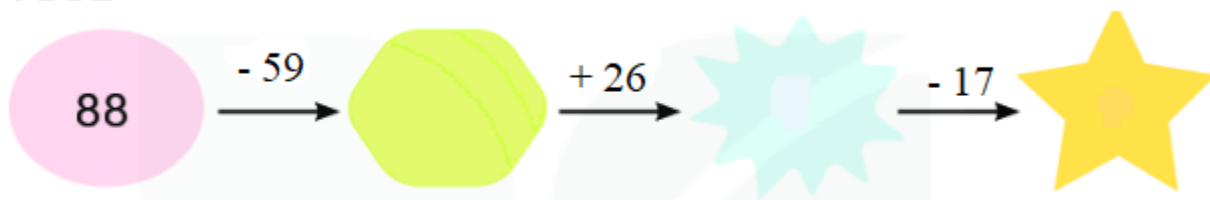
- a)  $54 + 17$                       b)  $39 + 55$                       c)  $81 - 23$                       d)  $94 - 36$

.....

.....

.....

**Câu 2. Số?**



**Câu 3. Xem giờ trên mỗi đồng hồ rồi điền thời gian thích hợp cho mỗi hoạt động:**



- Mai thức dậy lúc ..... sáng.
- Mai và Nam học bài lúc ..... sáng.
- Cả nhà ăn cơm tối lúc ..... tối.
- Mai đi ngủ lúc ..... đêm.

**Câu 4.** Buổi sáng cửa hàng bán được 46 mét vải. Buổi chiều cửa hàng bán được nhiều hơn buổi sáng 17 mét vải. Hỏi buổi chiều cửa hàng đó bán được bao nhiêu mét vải?

.....

.....

.....

## HƯỚNG DẪN GIẢI CHI TIẾT

## I. TRẮC NGHIỆM

1. C	2. B	3. B	4. A	5. B	6. C	7. D	8. C
------	------	------	------	------	------	------	------

## II. TỰ LUẬN

## Câu 1.

Đặt tính rồi tính:

a)  $54 + 17$

b)  $39 + 55$

c)  $81 - 23$

d)  $94 - 36$

## Phương pháp giải

- Đặt tính sao cho các chữ số cùng hàng thẳng cột với nhau.
- Cộng hoặc trừ các chữ số thẳng cột lần lượt từ phải sang trái.

## Lời giải chi tiết

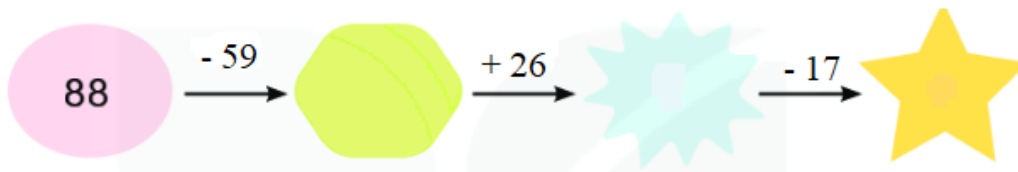
$$\begin{array}{r} 54 \\ + 17 \\ \hline 71 \end{array}$$

$$\begin{array}{r} 39 \\ + 55 \\ \hline 94 \end{array}$$

$$\begin{array}{r} 81 \\ - 23 \\ \hline 58 \end{array}$$

$$\begin{array}{r} 94 \\ - 36 \\ \hline 58 \end{array}$$

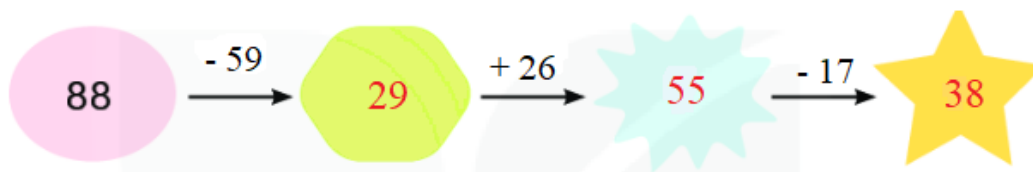
## Câu 2. Số?



## Phương pháp giải

Thực hiện tính kết quả các phép tính theo chiều mũi tên rồi điền các số còn thiếu vào chỗ trống.

## Lời giải chi tiết



Câu 3. Xem giờ trên mỗi đồng hồ rồi điền thời gian thích hợp cho mỗi hoạt động:



- Mai thức dậy lúc ..... sáng.
- Mai và Nam học bài lúc ..... sáng.
- Cả nhà ăn cơm tối lúc ..... tối.
- Mai đi ngủ lúc ..... đêm.

**Phương pháp giải**

Xem đồng hồ rồi điền thời gian thích hợp vào chỗ chấm.

**Lời giải chi tiết**

- Mai thức dậy lúc **6 giờ 15 phút** sáng.
- Mai và Nam học bài lúc **9 giờ 30 phút (hay 9 giờ rưỡi)** sáng.
- Cả nhà ăn cơm tối lúc **7 giờ 30 phút (hoặc 7 giờ rưỡi)** tối.
- Mai đi ngủ lúc **11 giờ** đêm.

**Câu 4.** Buổi sáng cửa hàng bán được 46 mét vải. Buổi chiều cửa hàng bán được nhiều hơn buổi sáng 17 mét vải. Hỏi buổi chiều cửa hàng đó bán được bao nhiêu mét vải?

**Phương pháp giải**

Số mét vải buổi chiều bán = Số mét vải buổi sáng bán + 17 mét

**Lời giải chi tiết**

Bài giải

Buổi chiều cửa hàng bán được số mét vải là

$$46 + 17 = 63 \text{ (m)}$$

Đáp số: 63 mét vải

Họ và tên: .....

Lớp: .....

**ĐỀ KIỂM TRA HỌC KÌ 1 – ĐỀ SỐ 2****Môn: Toán – Lớp 2****Bộ sách: Kết nối tri thức**

Thời gian làm bài: 40 phút

**I. TRẮC NGHIỆM**

(Khoanh vào chữ đặt trước câu trả lời đúng)

**Câu 1.** Số liền trước của số 87 là:

- A. 88                              B. 89                              C. 86                              D. 85

**Câu 2.** Giá trị của X thỏa mãn  $X + 26 = 74$  là:

- A.  $X = 100$                       B. 48                              C. 90                              D. 58

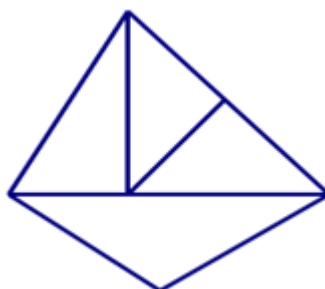
**Câu 3.** Các số 79, 87, 68; 59 được viết theo thứ tự từ bé đến lớn là:

- A. 59 ; 79 ; 68 ; 87                      B. 87 ; 79 ; 68 ; 59

- C. 68 ; 59 ; 79 ; 87                      D. 59 ; 68 ; 79 ; 87

**Câu 4.** Cho dãy số: 2 ; 7 ; 12 ; 17 ; 22 ; ... Hai số tiếp theo trong dãy là:

- A. 27 ; 32                              B. 24 ; 28                              C. 26 ; 30                              D. 25 ; 30

**Câu 5.** Hình bên có số hình tam giác là:

- A. 4                                      B. 5                                      C. 6                                      D. 7

**Câu 6.** Thứ năm tuần này là ngày 29 tháng 12. Thứ năm tuần trước là ngày:

- A. 21                                      B. 22                                      C. 5                                      D. 23

**Câu 7.** Mạnh có 64 viên bi. Huy có ít hơn mạnh 27 viên bi. Huy có số viên bi là:

- A. 44                                      B. 47                                      C. 54                                      D. 37

**Câu 8.** Nối hai đồng hồ chỉ cùng thời gian vào buổi chiều hoặc buổi tối:

16 : 00



20 : 00



18 : 00



17 : 00

**PHẦN 2. TỰ LUẬN**

**Câu 1.** Đặt tính rồi tính:

a)  $39 + 46$

b)  $23 + 48$

c)  $84 - 19$

d)  $92 - 57$

.....

.....

.....

.....

.....

.....

.....

.....

.....

.....

.....

.....

**Câu 2.** Tính.

a)  $57 + 23 - 16$


b)  $82 - 14 - 35$

.....

.....

.....

**Câu 3.** Số thích hợp điền vào dấu ? là .....



**Câu 4.** Quyển truyện có 95 trang. Mai đã đọc 68 trang. Hỏi Mai còn phải đọc bao nhiêu trang nữa thì hết quyển truyện?

.....

.....

.....

**Câu 5.** Tìm hiệu của số tròn chục lớn nhất có 2 chữ số với số nhỏ nhất có 2 chữ số giống nhau?

.....

.....

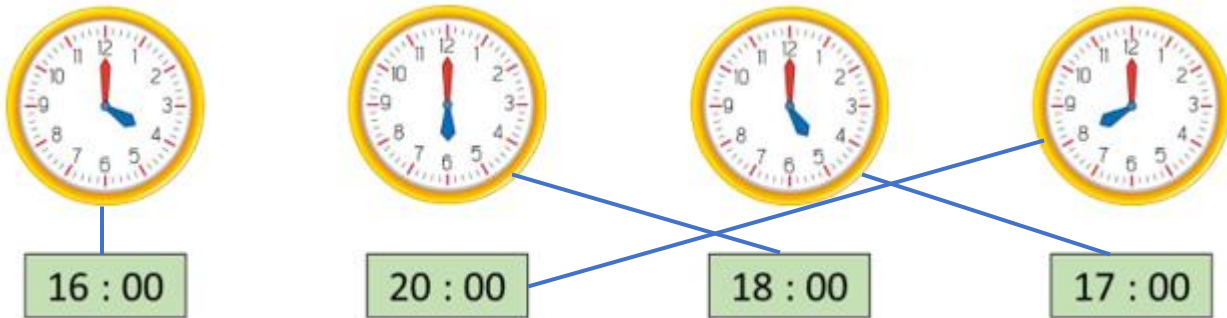
.....

## HƯỚNG DẪN GIẢI CHI TIẾT

## I. TRẮC NGHIỆM

1. C	2. B	3. D	4. A	5. C	6. B	7. D
------	------	------	------	------	------	------

8. Ta nối như sau:



## II. TỰ LUẬN

Câu 1. Đặt tính rồi tính:

a)  $39 + 46$

b)  $23 + 48$

c)  $84 - 19$

d)  $92 - 57$

Phương pháp giải

- Đặt tính sao cho các chữ số cùng hàng thẳng cột với nhau.

- Cộng hoặc trừ các chữ số thẳng cột lần lượt từ phải sang trái.

Lời giải chi tiết

$$\begin{array}{r} 39 \\ + 46 \\ \hline 85 \end{array}$$

$$\begin{array}{r} 23 \\ + 48 \\ \hline 71 \end{array}$$

$$\begin{array}{r} 84 \\ - 19 \\ \hline 65 \end{array}$$

$$\begin{array}{r} 92 \\ - 57 \\ \hline 35 \end{array}$$

Câu 2. Tính.

a)  $57 + 23 - 16$

b)  $82 - 14 - 35$

Phương pháp giải


Thực hiện tính theo thứ tự từ trái sang phải.

Lời giải chi tiết

$$\begin{aligned} \text{a) } 57 + 23 - 16 &= 80 - 16 \\ &= 64 \end{aligned}$$

$$\begin{aligned} \text{b) } 82 - 14 - 35 &= 68 - 35 \\ &= 33 \end{aligned}$$

Câu 3. Số thích hợp điền vào dấu ? là .....

**Phương pháp giải**

Tính nhằm giá trị của mỗi bông hoa theo mỗi phép tính

**Lời giải chi tiết**

Bông hoa hồng ứng với số 10.

Bông hoa tím ứng với số 5

Bông hoa vàng ứng với số 2

Vậy số điền vào ? là  $10 + 5 + 2 = 17$

**Câu 4.** Quyển truyện có 95 trang. Mai đã đọc 68 trang. Hỏi Mai còn phải đọc bao nhiêu trang nữa thì hết quyển truyện?

**Phương pháp giải**

Mai còn phải đọc số trang là

$$95 - 68 = 27 \text{ (trang)}$$

Đáp số: 27 trang

**Lời giải chi tiết**

**Câu 5.** Tìm hiệu của số tròn chục lớn nhất có 2 chữ số với số nhỏ nhất có 2 chữ số giống nhau?

**Phương pháp giải**

- Xác định số tròn chục lớn nhất có 2 chữ số với số nhỏ nhất có 2 chữ số giống nhau
- Thực hiện phép trừ hai số đó

**Lời giải chi tiết**

- Số tròn chục lớn nhất có hai chữ số là 90.
- Số nhỏ nhất có hai chữ số giống nhau là 11.
- Hiệu của 2 số là:  $90 - 11 = 79$



Họ và tên: .....

Lớp: .....

**ĐỀ KIỂM TRA HỌC KÌ 1 – ĐỀ 3****Môn: Toán – Lớp 2****Bộ sách: Kết nối tri thức**

Thời gian làm bài: 40 phút

**I. TRẮC NGHIỆM**

(Khoanh vào chữ đặt trước câu trả lời đúng)

**Câu 1.** Số liền trước của số 78 là:

- A. 87                      B. 77                      C. 79                      D. 86

**Câu 2.** Số 65 được đọc là:

- A. Sáu lăm                      B. Sáu mươi năm  
C. Sáu mươi lăm                      D. Sáu năm

**Câu 3.** Tổng của  $46 + 38$  là:

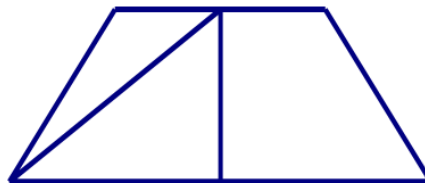
- A. 84                      B. 74                      C. 75                      D. 83

**Câu 4.** Lan cho Thu 12 viên phấn thì Lan còn lại ba chục viên phấn. Lúc đầu Lan có số viên phấn là?

- A. 15 viên                      B. 18 viên                      C. 52 viên                      D. 42 viên

**Câu 5.**  $5 \text{ dm} + 37 \text{ cm} = \dots\dots\dots$ 

- A. 87                      B. 42 cm                      C. 42 dm                      D. 87 cm

**Câu 6.** Hình dưới đây có mấy hình tứ giác?

- A. 2                      B. 3                      C. 4                      D. 5

**Câu 7.** Kết quả của phép tính sau là  $53 - 8 + 17 = \dots\dots\dots$ 

- A. 45                      B. 52                      C. 63                      D. 62

**Câu 8.** 23 giờ còn được gọi là:

- A. 10 giờ đêm                      B. 11 giờ đêm  
C. 11 giờ trưa                      D. 10 giờ sáng

**PHẦN 2. TỰ LUẬN****Câu 1.** Đặt tính rồi tính:

- a)  $27 + 34$                       b)  $29 + 48$                       c)  $71 - 25$                       d)  $100 - 73$

.....  
 .....  
 .....

**Câu 2.** Xem tờ lịch tháng 11, viết số hoặc chữ thích hợp vào chỗ chấm:

	Thứ hai	Thứ ba	Thứ tư	Thứ năm	Thứ sáu	Thứ bảy	Chủ nhật
<b>Tháng 11</b>	1	2	3	4	5	6	7
	8	9	10	11	12	13	14
	15	16	17	18	19	20	21
	22	23	24	25	26	27	28
	29	30					

- Tháng 11 có ..... ngày.
- Ngày 17 tháng 11 là thứ .....
- Ngày Nhà giáo Việt Nam 20 tháng 11 là thứ .....
- Tháng 11 có..... ngày chủ nhật, đó là các ngày.....

**Câu 3.** Mẹ cân nặng 58 kg, Minh nhẹ hơn mẹ 29 kg. Hỏi Minh cân nặng bao nhiêu ki- lô- gam?

.....

.....

.....

.....

**Câu 4.** Hiệu hai số bằng 74, nếu giữ nguyên số trừ, bớt số bị trừ đi 9 đơn vị thì hiệu hai số khi đó bằng bao nhiêu?

.....

.....

## HƯỚNG DẪN GIẢI CHI TIẾT

## I. TRẮC NGHIỆM

1. B	2. C	3. A	4. D	5. D	6. C	7. D	8. B
------	------	------	------	------	------	------	------

## II. TỰ LUẬN

## Câu 1.

Đặt tính rồi tính:

a)  $27 + 34$                       b)  $29 + 48$                       c)  $71 - 25$                       d)  $100 - 73$

## Phương pháp giải

- Đặt tính sao cho các chữ số cùng hàng thẳng cột với nhau.
- Cộng hoặc trừ các chữ số thẳng cột lần lượt từ phải sang trái.

## Lời giải chi tiết

$$\begin{array}{r} 27 \\ + 34 \\ \hline 61 \end{array}$$

$$\begin{array}{r} 29 \\ + 48 \\ \hline 77 \end{array}$$

$$\begin{array}{r} 71 \\ - 25 \\ \hline 46 \end{array}$$

$$\begin{array}{r} 100 \\ - 73 \\ \hline 27 \end{array}$$

**Câu 2.** Xem tờ lịch tháng 11, viết số hoặc chữ thích hợp vào chỗ chấm:

	Thứ hai	Thứ ba	Thứ tư	Thứ năm	Thứ sáu	Thứ bảy	Chủ nhật
<b>Tháng 11</b>	1	2	3	4	5	6	7
	8	9	10	11	12	13	14
	15	16	17	18	19	20	21
	22	23	24	25	26	27	28
	29	30					

- Tháng 11 có ..... ngày.
- Ngày 17 tháng 11 là thứ .....
- Ngày Nhà giáo Việt Nam 20 tháng 11 là thứ .....
- Tháng 11 có..... ngày chủ nhật, đó là các ngày.....

## Phương pháp giải

Xem tờ lịch tháng 11 để trả lời câu hỏi.

## Lời giải chi tiết

- Tháng 11 có **30** ngày.
- Ngày 17 tháng 11 là thứ **Tu**.
- Ngày Nhà giáo Việt Nam 20 tháng 11 là thứ **Bảy**.

- Tháng 11 có 4 ngày chủ nhật, đó là các ngày 7, 14, 21, 28.

**Câu 3.** Mẹ cân nặng 58 kg, Minh nhẹ hơn mẹ 29 kg. Hỏi Minh cân nặng bao nhiêu ki-lô-gam?

**Phương pháp giải**

Cân nặng của Minh = Cân nặng của mẹ - 29 kg

**Lời giải chi tiết**

Cân nặng của Minh là

$$58 - 29 = 29 \text{ (kg)}$$

Đáp số: 29 kg

**Câu 4.** Hiệu hai số bằng 74, nếu giữ nguyên số trừ, bớt số bị trừ đi 9 đơn vị thì hiệu hai số khi đó bằng bao nhiêu?

**Phương pháp giải**

Áp dụng kiến thức: Số bị trừ - số trừ = hiệu

**Lời giải chi tiết**

Trong một hiệu, nếu giữ nguyên số trừ và bớt số bị trừ đi 9 đơn vị thì hiệu giảm đi 9 đơn vị.

Hiệu của hai số khi đó là  $74 - 9 = 65$

Họ và tên: .....

Lớp: .....

**ĐỀ KIỂM TRA HỌC KÌ 1 – ĐỀ 4**

**Môn: Toán – Lớp 2**

**Bộ sách: Kết nối tri thức**

Thời gian làm bài: 40 phút

**I. TRẮC NGHIỆM**

(Khoanh vào chữ đặt trước câu trả lời đúng)

**Câu 1.** Số gồm 7 chục 6 đơn vị là:

- A. 67                      B. 70                      C. 76                      D. 66

**Câu 2.** Số lớn nhất có hai chữ số khác nhau là:

- A. 100                      B. 98                      C. 99                      D. 90

**Câu 3.** Các số 89, 87, 98, 65 được viết theo thứ tự từ bé đến lớn là:

- A. 89; 87; 98, 65                      B. 65, 89, 98, 87  
C. 87, 89, 98, 65                      D. 65, 87, 89, 98

**Câu 4.** Hình bên có:



A. 2 hình tứ giác và 3 hình tam giác.

B. 3 hình tứ giác và 2 hình tam giác.

C. 4 hình tứ giác và 2 hình tam giác.

D. 5 hình tứ giác và 2 hình tam giác

**Câu 5.** Tổ 1 trồng được 48 cây xanh, tổ 2 trồng được 37 cây xanh. Hỏi cả hai tổ trồng được bao nhiêu cây xanh?

- A. 85 cây                      B. 75 cây                      C. 11 cây                      D. 84 cây

**Câu 6.** Nếu ngày 20 tháng 11 là thứ Ba thì ngày 24 tháng 11 là thứ mấy?

- A. Thứ Bảy                      B. Chủ nhật                      C. Thứ Tư                      D. Thứ Sáu

**PHẦN 2. TỰ LUẬN**

**Câu 1.** Đặt tính rồi tính

- a)  $47 + 25$                       b)  $93 - 28$                       c)  $56 + 34$                       d)  $100 - 47$

**Câu 2.** Xem tờ lịch tháng 12 dưới đây rồi trả lời câu hỏi:

	Thứ hai	Thứ ba	Thứ tư	Thứ năm	Thứ sáu	Thứ bảy	Chủ nhật
<b>Tháng 12</b>			1	2	3	4	5
	6	7	8	9	10	11	12
	13	14	15	16	17	18	19
	20	21	22	23	24	25	26
	27	28	29	30	31		

Tháng 12 có ..... ngày.

Ngày đầu tiên của tháng 12 là thứ.....

Ngày chủ nhật cuối cùng của tháng 12 là ngày.....

**Câu 3.** Một cửa hàng có 85 chiếc xe đạp, đã bán được 27 chiếc xe đạp. Hỏi cửa hàng còn lại bao nhiêu chiếc xe đạp?

**Câu 4.** Tìm hiệu của 43 và số tròn chục nhỏ nhất có hai chữ số.

## HƯỚNG DẪN GIẢI CHI TIẾT

## I. TRẮC NGHIỆM

1. C	2. B	3. D	4. C	5. A	6. A
------	------	------	------	------	------

## II. TỰ LUẬN

## Câu 1.

Đặt tính rồi tính

a)  $47 + 25$

b)  $93 - 28$

c)  $56 + 34$

d)  $100 - 47$

## Phương pháp giải

- Đặt tính sao cho các chữ số cùng hàng thẳng cột với nhau.

- Cộng hoặc trừ các chữ số thẳng cột lần lượt từ phải sang trái.

## Lời giải chi tiết

a) 
$$\begin{array}{r} 47 \\ + 25 \\ \hline 72 \end{array}$$

b) 
$$\begin{array}{r} 93 \\ - 28 \\ \hline 65 \end{array}$$

c) 
$$\begin{array}{r} 56 \\ + 34 \\ \hline 90 \end{array}$$

d) 
$$\begin{array}{r} 100 \\ - 47 \\ \hline 53 \end{array}$$

Câu 2. Xem tờ lịch tháng 12 dưới đây rồi trả lời câu hỏi:

	Thứ hai	Thứ ba	Thứ tư	Thứ năm	Thứ sáu	Thứ bảy	Chủ nhật
<b>Tháng 12</b>			1	2	3	4	5
	6	7	8	9	10	11	12
	13	14	15	16	17	18	19
	20	21	22	23	24	25	26
	27	28	29	30	31		

Tháng 12 có ..... ngày.

Ngày đầu tiên của tháng 12 là thứ.....

Ngày chủ nhật cuối cùng của tháng 12 là ngày.....

## Phương pháp giải

Xem tờ lịch tháng 12 rồi thông tin còn thiếu vào chỗ chấm.

## Lời giải chi tiết

Tháng 12 có **31** ngày.Ngày đầu tiên của tháng 12 là thứ **Tu**.Ngày chủ nhật cuối cùng của tháng 12 là ngày **26**.

**Câu 3.** Một cửa hàng có 85 chiếc xe đạp, đã bán được 27 chiếc xe đạp. Hỏi cửa hàng còn lại bao nhiêu chiếc xe đạp?

**Phương pháp giải**

Số chiếc xe đạp còn lại = Số chiếc xe cửa hàng có – số chiếc xe đã bán

**Lời giải chi tiết**

Cửa hàng còn lại số chiếc xe đạp là

$$85 - 27 = 58 \text{ (chiếc)}$$

Đáp số: 58 chiếc xe đạp

**Câu 4.** Tìm hiệu của 43 và số tròn chục nhỏ nhất có hai chữ số.

**Phương pháp giải**

- Tìm số tròn chục nhỏ nhất có hai chữ số

- Tìm hiệu của 43 và số vừa tìm

**Lời giải chi tiết**

Số tròn chục nhỏ nhất có hai chữ số là số 10.

Hiệu của 43 và số tròn chục nhỏ nhất có hai chữ số là  $43 - 10 = 33$ .



Họ và tên: .....

Lớp: .....

Môn: Toán – Lớp 2

Bộ sách: Kết nối tri thức

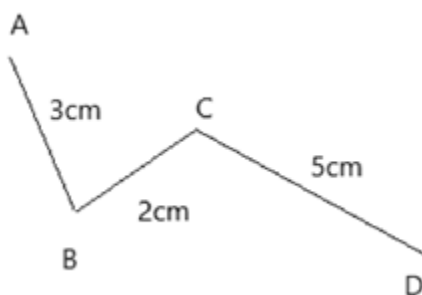
Thời gian làm bài: 40 phút

**I. TRẮC NGHIỆM**

(Khoanh vào chữ đặt trước câu trả lời đúng)

**Câu 1.** Số tròn chục lớn nhất có hai chữ số là:

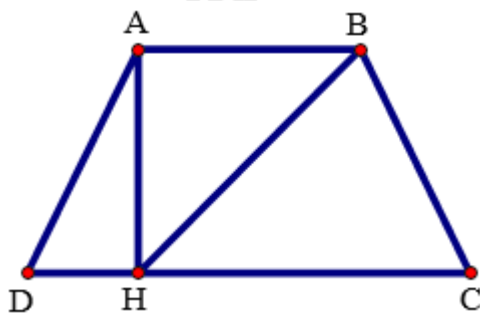
- A. 90                      B. 98                      C. 99                      D. 100

**Câu 2.** Độ dài đường gấp khúc ABCD là:

- A. 7 cm                      B. 8 cm                      C. 9 cm                      D. 10 cm

**Câu 3.** Kết quả của phép tính sau là  $82 - 28 + 15 = \dots\dots$ 

- A. 79                      B. 68                      C. 69                      D. 59

**Câu 4.** Hình vẽ bên có bao nhiêu đoạn thẳng?

- A. 8                      B. 7                      C. 6                      D. 5

**Câu 5.** Số thích hợp điền vào ô trống dưới đây lần lượt là:

$$42 + 18 = \square = 36 + \square$$

- A. 50 và 14                      B. 60 và 24                      C. 50 và 24                      D. 60 và 34

**Câu 6.** Một cửa hàng ngày thứ nhất bán được 18 bao gạo. Ngày thứ hai cửa hàng bán nhiều hơn ngày thứ nhất 24 bao gạo. Hỏi ngày thứ hai cửa hàng bán được bao nhiêu bao gạo?

- A. 32 bao gạo                      B. 42 bao gạo  
C. 16 bao gạo                      D. 43 bao gạo

**PHẦN 2. TỰ LUẬN****Câu 1.** Đặt tính rồi tính:

a)  $25 + 48$

b)  $80 - 36$

c)  $64 + 8$

d)  $53 - 17$

.....

.....

.....

.....

.....

.....

.....

.....

.....

.....

.....

.....

**Câu 2.** Điền dấu  $>$ ,  $<$ ,  $=$  thích hợp vào chỗ chấm:

$19 + 15 \dots\dots 33$

$56 - 37 \dots\dots 19$

$38 + 46 \dots\dots 74$

$97 - 48 \dots\dots 50$

**Câu 3.** Một cửa hàng có 83 cái áo, cửa hàng đã bán 27 cái áo. Hỏi cửa hàng đó còn lại bao nhiêu cái áo?

.....

.....

.....

**Câu 4.** Sau khi thêm vào số lớn 19 đơn vị và bớt ở số bé đi 7 đơn vị thì tổng hai số bằng 72. Tìm tổng hai số ban đầu.

.....

.....

.....

## HƯỚNG DẪN GIẢI CHI TIẾT

## I. TRẮC NGHIỆM

1. A	2. D	3. C	4. A	5. B	6. B
------	------	------	------	------	------

## II. TỰ LUẬN

**Câu 1.** Đặt tính rồi tính:

- a)  $25 + 48$                       b)  $80 - 36$                       c)  $64 + 8$                       d)  $53 - 17$

**Phương pháp giải**

- Đặt tính sao cho các chữ số cùng hàng thẳng cột với nhau.
- Cộng hoặc trừ các chữ số thẳng cột lần lượt từ phải sang trái.

**Lời giải chi tiết**

$$\begin{array}{r} 25 \\ + 48 \\ \hline 73 \end{array} \quad \begin{array}{r} 80 \\ - 36 \\ \hline 44 \end{array} \quad \begin{array}{r} 64 \\ + 8 \\ \hline 72 \end{array} \quad \begin{array}{r} 53 \\ - 17 \\ \hline 36 \end{array}$$

**Câu 2.** Điền dấu  $>$ ,  $<$ ,  $=$  thích hợp vào chỗ chấm:

$$19 + 15 \dots\dots 33 \qquad \qquad \qquad 56 - 37 \dots\dots 19$$

$$38 + 46 \dots\dots 74 \qquad \qquad \qquad 97 - 48 \dots\dots 50$$

**Phương pháp giải**

Tính nhằm kết quả về phải rồi điền dấu thích hợp vào ô trống.

**Lời giải chi tiết**

$$\begin{array}{r} 19 + 15 > 33 \\ \hline 34 \end{array} \qquad \qquad \qquad \begin{array}{r} 56 - 37 = 19 \\ \hline 19 \end{array}$$

$$\begin{array}{r} 38 + 46 > 74 \\ \hline 84 \end{array} \qquad \qquad \qquad \begin{array}{r} 97 - 48 < 50 \\ \hline 49 \end{array}$$

**Câu 3.** Một cửa hàng có 83 cái áo, cửa hàng đã bán 27 cái áo. Hỏi cửa hàng đó còn lại bao nhiêu cái áo?

**Phương pháp giải**

Số cái áo còn lại = Số cái áo cửa hàng có tất cả - Số cái áo đã bán

**Lời giải chi tiết**

Cửa hàng còn lại số cái áo là

$$83 - 27 = 56 \text{ (cái áo)}$$

Đáp số: 56 cái áo

**Câu 4.** Sau khi thêm vào số lớn 19 đơn vị và bớt ở số bé đi 7 đơn vị thì tổng hai số bằng 72. Tìm tổng hai số ban đầu.

### Phương pháp giải

Trong một tổng, nếu tăng (giảm) số hạng đi bao nhiêu đơn vị thì tổng tăng (giảm) bấy nhiêu đơn vị

### Lời giải chi tiết

Sau khi thêm vào số lớn 19 đơn vị thì tổng của hai số tăng thêm 19 đơn vị.

Sau khi bớt ở số bé đi 7 đơn vị thì tổng của hai số giảm đi 7 đơn vị.

Tổng của hai số ban đầu là  $72 - 19 + 7 = 60$ .

Họ và tên: .....

Lớp: .....

**ĐỀ KIỂM TRA HỌC KÌ 1 – ĐỀ 6****Môn: Toán – Lớp 2****Bộ sách: Kết nối tri thức**

Thời gian làm bài: 40 phút

**I. TRẮC NGHIỆM**

(Khoanh vào chữ đặt trước câu trả lời đúng)

**Câu 1.** Số gồm 5 đơn vị và 6 chục là:

- A. 56                      B. 60                      C. 65                      D. 650

**Câu 2.** Hôm nay là thứ Ba, hỏi 16 ngày nữa là thứ mấy?

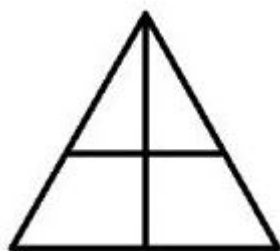
- A. Thứ Ba                B. Thứ Tư                C. Thứ Năm                D. Thứ Sáu

**Câu 3.** Kết quả của phép tính  $52 + 25 = \dots$ 

- A. 65                      B. 67                      C. 75                      D. 77

**Câu 4.** Dấu cần điền vào chỗ chấm  $50 + 24 \dots 20 + 56$ . Dấu cần điền vào chỗ chấm là:

- A. <                      B. >                      C. =                      D. Không xác định được

**Câu 5.** Trong hình bên có mấy hình tứ giác:

- A. 2 hình                      B. 3 hình                      C. 4 hình                      D. 5 hình

**Câu 6.** Nam có 40 viên bi, Việt có ít hơn Nam 12 viên bi. Việt có số viên bi là:

- A. 28                      B. 38                      C. 52                      D. 42

**PHẦN 2. TỰ LUẬN****Câu 1.** Tính:

a)  $45 - 39 + 10 = \dots\dots\dots$                       b)  $63 - 28 - 10 = \dots\dots\dots$

.....  
 .....

c)  $70 - 26 - 15 = \dots\dots\dots$                       d)  $27 + 14 + 8 = \dots\dots\dots$

.....  
 .....

**Câu 2.** Điền dấu >, <, = thích hợp vào chỗ chấm:

$25 + 45 \dots\dots 60$

$29 + 38 \dots\dots 67$

$24 + 48 \dots\dots 73$

**Câu 3.** Một bến xe có 65 ô tô. Sau khi một số ô tô rời bến, trong bến còn lại 37 ô tô. Hỏi có bao nhiêu ô tô đã rời bến?

.....  
.....  
.....

**Câu 4.** Tìm hiệu của số lớn nhất có hai chữ số và số lớn nhất có một chữ số?

.....  
.....  
.....

## HƯỚNG DẪN GIẢI CHI TIẾT

## I. TRẮC NGHIỆM

1. C	2. C	3. D	4. A	5. B	6. A
------	------	------	------	------	------

## II. TỰ LUẬN

**Câu 1.** Tính:

a)  $45 - 39 + 10 = \dots\dots$

b)  $63 - 28 - 10 = \dots\dots$

c)  $70 - 26 - 15 = \dots\dots$

d)  $27 + 14 + 8 = \dots\dots$

**Phương pháp giải**

Thực hiện tính theo thứ tự từ trái sang phải.

**Lời giải chi tiết**

a)  $45 - 39 + 10 = 6 + 10 = 16$

b)  $63 - 28 - 10 = 35 - 10 = 25$

c)  $70 - 26 - 15 = 44 - 15 = 29$

d)  $27 + 14 + 8 = 41 + 8 = 49$

**Câu 2.** Điền dấu  $>$ ,  $<$ ,  $=$  thích hợp vào chỗ chấm:

$25 + 45 \dots\dots 60$

$29 + 38 \dots\dots 67$

$24 + 48 \dots\dots 73$

**Phương pháp giải**

Tính nhẩm kết quả về phải rồi điền dấu thích hợp vào chỗ trống.

**Lời giải chi tiết**

$$\begin{array}{r} 25 + 45 > 60 \\ \hline 70 \end{array}$$

$$\begin{array}{r} 29 + 38 = 67 \\ \hline 67 \end{array}$$

$$\begin{array}{r} 24 + 48 < 73 \\ \hline 72 \end{array}$$

**Câu 3.** Một bến xe có 65 ô tô. Sau khi một số ô tô rời bến, trong bến còn lại 37 ô tô. Hỏi có bao nhiêu ô tô đã rời bến?

**Phương pháp giải**

Số ô tô rời bến = Số ô tô có trong bến – số ô tô còn lại

**Lời giải chi tiết**

Số ô tô đã rời bến là

$$65 - 37 = 28 \text{ (ô tô)}$$

Đáp số: 28 ô tô

**Câu 4.** Tìm hiệu của số lớn nhất có hai chữ số và số lớn nhất có một chữ số?

**Phương pháp giải**

- Tìm số lớn nhất có hai chữ số và số lớn nhất có một chữ số
- Tìm hiệu của hai số đó

**Lời giải chi tiết**

- Số lớn nhất có 2 chữ số là 99

- Số lớn nhất có một chữ số là 9

Hiệu của hai số đó là  $99 - 9 = 90$

Đáp số: 90



Họ và tên: .....

Lớp: .....

## ĐỀ KIỂM TRA HỌC KÌ 1 – ĐỀ 7

**Môn: Toán – Lớp 2**

**Bộ sách: Kết nối tri thức**

Thời gian làm bài: 40 phút

### I. TRẮC NGHIỆM

(Khoanh vào chữ đặt trước câu trả lời đúng)

**Câu 1.** Số liền sau của 78 là:

- A. 80                      B. 76                      C. 77                      D. 79

**Câu 2.** Số thích hợp điền vào chỗ chấm  $24 \text{ kg} + 5 \text{ kg} + 26 \text{ kg} = \dots\dots \text{ kg}$  là:

- A. 50 kg                      B. 45 kg                      C. 55 kg                      D. 60 kg

**Câu 3.** Tính tổng, biết các số hạng là 48 và 17:

- A. 31                      B. 65                      C. 41                      D. 55

**Câu 4.** Đồng hồ bên chỉ:



- A. 1 giờ                      B. 6 giờ                      C. 12 giờ                      D. 11 giờ

**Câu 5.** Bàn học của em dài khoảng bao nhiêu đề-xi-mét?

- A. 11 dm                      B. 30 dm                      C. 2 dm                      D. 100 cm

**Câu 6.** Mẹ vắt được 67 lít sữa bò, chị vắt được 33 lít sữa bò. Hỏi mẹ và chị vắt được bao nhiêu lít sữa bò?

- A. 34 lít                      B. 100 lít                      C. 44 lít                      D. 90 lít

### PHẦN 2. TỰ LUẬN

**Câu 1.** Đặt tính rồi tính:

- a)  $26 + 35$                       b)  $26 + 59$                       c)  $75 - 17$                       d)  $60 - 43$

.....

.....

.....

**Câu 2.** Hãy vẽ thêm kim giờ để đồng hồ chỉ:



3 giờ



20 giờ

**Câu 3.** Bao gạo cân nặng 45 kg, bao gạo nhẹ hơn bao ngô 8 kg. Vậy bao ngô cân nặng bao nhiêu ki-lô-gam?

.....

.....

.....

**Câu 4.** Quan sát hình vẽ dưới đây cho biết:



- a) Hình vẽ có bao nhiêu điểm?
- b) Hình vẽ có bao nhiêu hình tam giác?
- c) Hình vẽ có bao nhiêu hình tứ giác?

.....

.....

.....

## HƯỚNG DẪN GIẢI CHI TIẾT

## I. TRẮC NGHIỆM

1. D	2. C	3. B	4. C	5. D	6. B
------	------	------	------	------	------

## II. TỰ LUẬN

**Câu 1.** Đặt tính rồi tính:

a)  $26 + 35$

b)  $26 + 59$

c)  $75 - 17$

d)  $60 - 43$

**Phương pháp giải**

- Đặt tính sao cho các chữ số cùng hàng thẳng cột với nhau
- Cộng hoặc trừ các chữ số thẳng cột lần lượt từ phải sang trái.

**Lời giải chi tiết**

$$\begin{array}{r} 26 \\ + 35 \\ \hline 61 \end{array}$$

$$\begin{array}{r} 26 \\ + 59 \\ \hline 85 \end{array}$$

$$\begin{array}{r} 75 \\ - 17 \\ \hline 58 \end{array}$$

$$\begin{array}{r} 60 \\ - 43 \\ \hline 17 \end{array}$$

**Câu 2.** Hãy vẽ thêm kim giờ để đồng hồ chỉ:



3 giờ



20 giờ

**Phương pháp giải**

Vẽ thêm kim giờ để đồng hồ chỉ 3 giờ, 20 giờ.

**Lời giải chi tiết**

3 giờ



8 giờ

**Câu 3.** Bao gạo cân nặng 45 kg, bao ngô nhẹ hơn bao gạo 8 kg. Vậy bao ngô cân nặng bao nhiêu ki-lô-gam?

**Phương pháp giải**

Cân nặng của bao ngô = Cân nặng của bao gạo + 8 kg

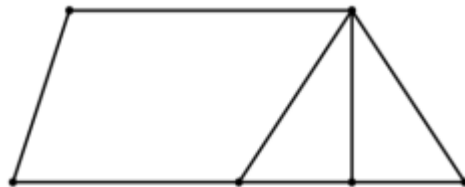
**Lời giải chi tiết**

Bao ngô cân nặng số ki-lô-gam là

$$45 + 8 = 53 \text{ (kg)}$$

Đáp số: 53 kg

**Câu 4.** Quan sát hình vẽ dưới đây cho biết:



- Hình vẽ có bao nhiêu điểm?
- Hình vẽ có bao nhiêu hình tam giác?
- Hình vẽ có bao nhiêu hình tứ giác?

**Phương pháp giải**

Quan sát hình vẽ để trả lời câu hỏi.

**Lời giải chi tiết**

- Hình trên có tất cả 6 điểm
- Hình trên có 3 hình tam giác
- Hình trên có 3 hình tứ giác



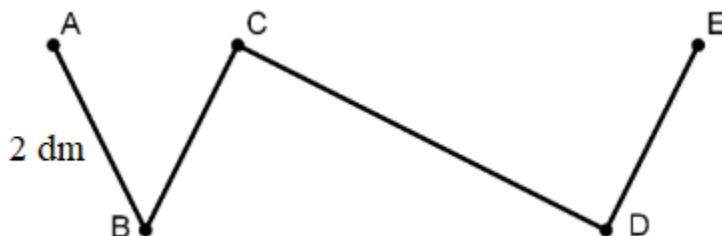
chiều cửa hàng bán được bao nhiêu ki-lô-gam gạo?

.....

.....

.....

**Câu 4.** Cho đường gấp khúc ABCDE dài 95 cm như hình vẽ. Biết  $AB = BC = DE$ , độ dài đoạn thẳng  $AB = 2$  dm. Hỏi đoạn thẳng CD dài bao nhiêu xăng-ti-mét?



.....

.....

.....

## HƯỚNG DẪN GIẢI CHI TIẾT

## I. TRẮC NGHIỆM

1. D	2. A	3. C	4. D	5. B	6. B
------	------	------	------	------	------

## II. TỰ LUẬN

**Câu 1.** Đặt tính rồi tính:

- a)  $66 - 39$                       b)  $42 - 26$                       c)  $55 + 37$                       d)  $63 - 18$

**Phương pháp giải**

- Đặt tính sao cho các chữ số cùng hàng thẳng cột với nhau
- Cộng hoặc trừ các chữ số thẳng cột lần lượt từ phải sang trái.

**Lời giải chi tiết**

$$\begin{array}{r} 66 \\ - 39 \\ \hline \end{array} \quad \begin{array}{r} 42 \\ - 26 \\ \hline \end{array} \quad \begin{array}{r} 55 \\ + 37 \\ \hline \end{array} \quad \begin{array}{r} 63 \\ - 18 \\ \hline \end{array}$$

**Câu 2.**

Tìm x:

- a)  $27 + x = 83$     b)  $x - 29 = 65$

**Phương pháp giải**

- Muốn tìm số hạng chưa biết ta lấy tổng trừ đi số hạng kia.
- Muốn tìm số bị trừ ta lấy hiệu cộng với số trừ.

**Lời giải chi tiết**

$$\begin{aligned} \text{a) } 27 + x &= 83 \\ x &= 83 - 27 \\ x &= 56 \end{aligned}$$

$$\begin{aligned} \text{b) } x - 29 &= 65 \\ x &= 65 + 29 \\ x &= 94 \end{aligned}$$

**Câu 3.** Một cửa hàng buổi sáng bán được 92 kg gạo. Buổi chiều bán ít hơn buổi sáng 24 kg. Hỏi buổi chiều cửa hàng bán được bao nhiêu ki-lô-gam gạo?

**Phương pháp giải**

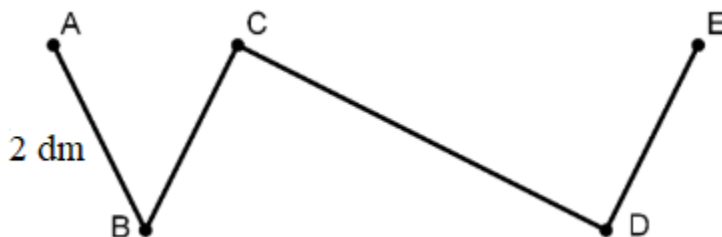
Số kg bán trong buổi chiều = Số kg bán trong buổi sáng – 24 kg

**Lời giải chi tiết**

$$\begin{aligned} &\text{Buổi chiều cửa hàng bán được số ki-lô-gam gạo là} \\ &92 - 24 = 68 \text{ (kg)} \end{aligned}$$

Đáp số: 68 kg gạo

**Câu 4.** Cho đường gấp khúc ABCDE dài 95 cm như hình vẽ. Biết  $AB = BC = DE$ , độ dài đoạn thẳng  $AB = 2$  dm. Hỏi đoạn thẳng CD dài bao nhiêu xăng-ti-mét?

**Phương pháp giải**

Độ dài đoạn thẳng CD bằng độ dài đường gấp khúc ABCDE trừ đi độ dài các đoạn thẳng AB, BC, DE.

**Lời giải chi tiết**

Độ dài đoạn thẳng  $AB = BC = DE = 2 \text{ dm} = 20 \text{ cm}$

Ta có độ dài đường gấp khúc  $ABCDE = AB + BC + CD + DE$

Nên độ dài đoạn thẳng CD là  $95 - 20 - 20 - 20 = 35 \text{ cm}$



Họ và tên: .....

Lớp: .....

**ĐỀ KIỂM TRA HỌC KÌ 1 – ĐỀ 9****Môn: Toán – Lớp 2****Bộ sách: Kết nối tri thức**

Thời gian làm bài: 40 phút

**I. TRẮC NGHIỆM**

(Khoanh vào chữ đặt trước câu trả lời đúng)

**Câu 1.** Số lớn nhất có hai chữ số là:

- A. 10                      B. 90                      C. 99                      D. 100

**Câu 2.** Số liền trước của 69 là:

- A. 60                      B. 68                      C. 70                      D. 80

**Câu 3.** Hiệu là 18, số trừ là 24, số bị trừ là:

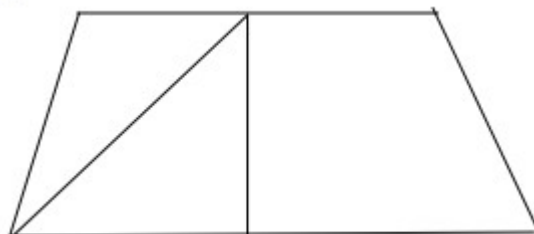
- A. 6                      B. 42                      C. 32                      D. 43

**Câu 4.**  $28 + 72 - 20 = \dots\dots$  Kết quả của phép tính là:

- A. 60                      B. 100                      C. 70                      D. 80

**Câu 5.** Chuông reo vào học lúc 7 giờ. Bạn An đến trường lúc 8 giờ. Vậy An đi học muộn bao nhiêu phút?

- A. 10                      B. 30                      C. 40                      D. 60

**Câu 6.** Hình dưới đây có mấy hình tứ giác:

- A. 1                      B. 2                      C. 3                      D. 4

**Câu 7.** Một ngày có ..... giờ. Số cần điền vào chỗ chấm là:

- A. 12                      B. 24                      C. 14                      D. 15

**Câu 8.** Trong vườn có 45 cây ổi, số cây ổi ít hơn số cây na là 18 cây. Hỏi trong vườn có tất cả bao nhiêu cây na?

- A. 63 cây                      B. 27 cây                      C. 62 cây                      D. 28 cây

**PHẦN 2. TỰ LUẬN****Câu 1.** Đặt tính rồi tính:

- a)  $29 + 27$                       b)  $59 + 31$                       c)  $73 - 25$                       d)  $81 - 37$

.....  
 .....

.....  
**Câu 2.** Tìm x:

a)  $x - 28 = 44$

b)  $100 - x = 36$

.....  
.....

**Câu 3.** Mẹ hái được 38 quả bưởi. Chị hái được 16 quả bưởi. Hỏi mẹ hái nhiều hơn chị bao nhiêu quả bưởi?

.....  
.....  
.....

**Câu 4.** Hiệu hai số bằng 74, nếu giữ nguyên số trừ, bớt số bị trừ đi 9 đơn vị thì hiệu hai số khi đó bằng bao nhiêu?

.....  
.....  
.....

**Câu 5.** Tìm một số biết rằng lấy số đó cộng với 35 thì được số có hai chữ số giống nhau mà tổng hai chữ số đó bằng 18.

.....  
.....  
.....  
.....

## HƯỚNG DẪN GIẢI CHI TIẾT

## I. TRẮC NGHIỆM

1. C	2. B	3. B	4. D	5. D	6. D	7. B	8. A
------	------	------	------	------	------	------	------

## II. TỰ LUẬN

**Câu 1.** Đặt tính rồi tính:

- a)  $29 + 27$                       b)  $59 + 31$                       c)  $73 - 25$                       d)  $81 - 37$

**Phương pháp giải**

- Đặt tính sao cho các chữ số cùng hàng thẳng cột với nhau
- Cộng hoặc trừ các chữ số thẳng cột lần lượt từ phải sang trái.

**Lời giải chi tiết**

$$\begin{array}{r} 29 \\ + 27 \\ \hline 56 \end{array} \quad \begin{array}{r} 59 \\ + 31 \\ \hline 90 \end{array} \quad \begin{array}{r} 73 \\ - 25 \\ \hline 48 \end{array} \quad \begin{array}{r} 81 \\ - 37 \\ \hline 44 \end{array}$$

**Câu 2.** Tìm x:

- a)  $x - 28 = 44$     b)  $100 - x = 36$

**Phương pháp giải**

- Muốn tìm số bị trừ ta lấy hiệu cộng với số trừ.
- Muốn tìm số trừ ta lấy số bị trừ trừ đi hiệu

**Lời giải chi tiết**

a)  $x - 28 = 44$

$$x = 44 + 28$$

$$x = 72$$

b)  $100 - x = 36$

$$x = 100 - 36$$

$$x = 64$$

**Câu 3.** Mẹ hái được 38 quả bưởi. Chị hái được 16 quả bưởi. Hỏi mẹ hái nhiều hơn chị bao nhiêu quả bưởi?

**Phương pháp giải**

Số quả bưởi mẹ hái nhiều hơn chị = Số bưởi mẹ hái – số bưởi chị hái

**Lời giải chi tiết**

Mẹ hái nhiều hơn chị số quả bưởi là

$$38 - 16 = 22 \text{ (quả)}$$

Đáp số: 22 quả bưởi

**Câu 4.** Hiệu hai số bằng 74, nếu giữ nguyên số trừ, bớt số bị trừ đi 9 đơn vị thì hiệu hai số khi đó bằng bao nhiêu?

**Phương pháp giải**

Nếu giữ nguyên số trừ, bớt số bị trừ đi 9 đơn vị thì hiệu hai số đó giảm đi 9 đơn vị.

**Lời giải chi tiết**

Nếu giữ nguyên số trừ, bớt số bị trừ đi 9 đơn vị thì hiệu hai số đó giảm đi 9 đơn vị.

Vậy hiệu mới là  $74 - 9 = 65$

Đáp số: 65

**Câu 5.** Tìm một số biết rằng lấy số đó cộng với 35 thì được số có hai chữ số giống nhau mà tổng hai chữ số đó bằng 18.

**Phương pháp giải**

- Tìm số có hai chữ số giống nhau mà tổng hai chữ số bằng 18
- Lấy số vừa tìm được trừ đi 35

**Lời giải chi tiết**

Ta có  $18 = 9 + 9$

Số có hai chữ số giống nhau mà tổng hai chữ số đó bằng 18 là 99.

Số cần tìm là:  $99 - 35 = 64$

Đáp số: 64

Họ và tên: .....

Lớp: .....

Môn: Toán – Lớp 2

Bộ sách: Kết nối tri thức

Thời gian làm bài: 40 phút

**I. TRẮC NGHIỆM**

(Khoanh vào chữ đặt trước câu trả lời đúng)

Câu 1. Số liền sau của 69 là:

- A. 60                      B. 68                      C. 80                      D. 70

Câu 2. Dấu thích hợp điền vào chỗ chấm  $23 + 48 \dots 90 - 32$  là:

- A. <                      B. >                      C. =

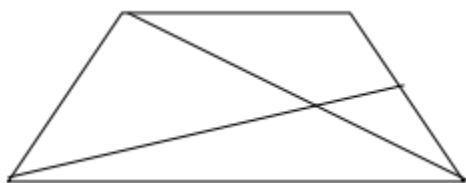
Câu 3. 4 giờ chiều hay còn gọi là ..... giờ.

- A. 18 giờ                      B. 15 giờ                      C. 16 giờ                      D. 17 giờ

Câu 4. Thứ tư tuần này là ngày 13 tháng 12 thì thứ tư tuần sau là ngày ..... tháng 12.

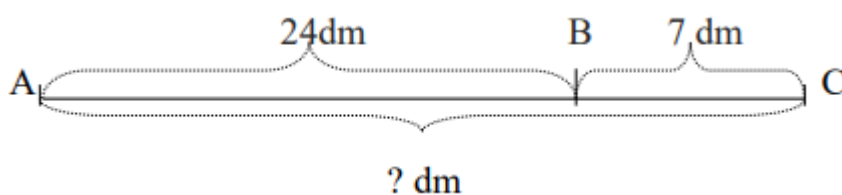
- A. 20                      B. 21                      C. 22                      D. 23

Câu 5. Hình bên có bao nhiêu hình tứ giác?



- A. 1                      B. 2                      C. 3                      D. 4

Câu 6. Đoạn thẳng AC dài là:



- A. 31 dm                      B. 30 dm                      C. 94 dm                      D. 31 cm

Câu 7.  $8 \text{ dm} = \dots \text{ cm}$ 

- A. 40                      B. 80                      C. 8                      D. 60

Câu 8. Bao ngô cân nặng 46 kg, bao thóc nặng hơn bao ngô 18 kg. Hỏi bao thóc nặng bao nhiêu ki-lô-gam?

- A. 64 kg                      B. 28 kg                      C. 54 kg                      D. 63 kg

**PHẦN 2. TỰ LUẬN**

Câu 1. Đặt tính rồi tính:

- a)  $57 + 28$                       b)  $81 - 36$                       c)  $90 - 46$                       d)  $47 + 29$

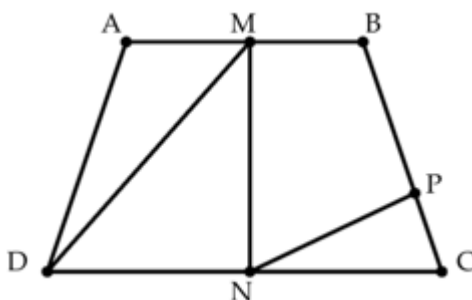
**Câu 2.** Tìm  $x$ :

a)  $x + 28 = 64$

b)  $98 - x = 19$

**Câu 3.** Năm nay bố Lan 43 tuổi. Bố nhiều hơn Lan 29 tuổi. Hỏi năm nay Lan bao nhiêu tuổi?

**Câu 4.** Quan sát hình vẽ dưới đây cho biết:



a) Viết ba điểm thẳng hàng có trong hình vẽ.

b) Hình trên có bao nhiêu hình tam giác, bao nhiêu hình tứ giác.

## HƯỚNG DẪN GIẢI CHI TIẾT

## I. TRẮC NGHIỆM

1. D	2. B	3. C	4. A	5. B	6. A	7. B	8. A
------	------	------	------	------	------	------	------

## II. TỰ LUẬN

**Câu 1.** Đặt tính rồi tính.

- a)  $57 + 28$                       b)  $81 - 36$                       c)  $90 - 46$                       d)  $47 + 29$

**Phương pháp giải**

- Đặt tính sao cho các chữ số cùng hàng thẳng cột với nhau
- Cộng hoặc trừ các chữ số thẳng cột lần lượt từ phải sang trái.

**Lời giải chi tiết**

$$\begin{array}{r} 57 \\ + 28 \\ \hline 85 \end{array} \quad \begin{array}{r} 81 \\ - 36 \\ \hline 45 \end{array} \quad \begin{array}{r} 90 \\ - 46 \\ \hline 44 \end{array} \quad \begin{array}{r} 47 \\ + 29 \\ \hline 76 \end{array}$$

**Câu 2.**

Tìm x:

- a)  $x + 28 = 64$     b)  $98 - x = 19$

**Phương pháp giải**

- Muốn tìm số bị trừ ta lấy hiệu cộng với số trừ.
- Muốn tìm số trừ ta lấy số bị trừ trừ đi hiệu

**Lời giải chi tiết**

a)  $x + 28 = 64$

$$x = 64 - 28$$

$$x = 36$$

b)  $98 - x = 19$

$$x = 98 - 19$$

$$x = 79$$

**Câu 3.** Năm nay bố Lan 43 tuổi. Bố nhiều hơn Lan 29 tuổi. Hỏi năm nay Lan bao nhiêu tuổi?

**Phương pháp giải**

Số tuổi của Lan = Tuổi bố hiện nay - 29 tuổi

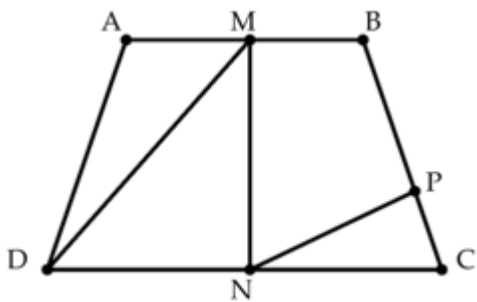
**Lời giải chi tiết**

Số tuổi của Lan năm nay là

$$43 - 29 = 14 \text{ (tuổi)}$$

Đáp số: 14 tuổi

Câu 4. Quan sát hình vẽ dưới đây cho biết:



- Viết ba điểm thẳng hàng có trong hình vẽ.
- Hình trên có bao nhiêu hình tam giác, bao nhiêu hình tứ giác.

### Phương pháp giải

Quan sát hình vẽ để trả lời câu hỏi

### Lời giải chi tiết

- Ba điểm A, M, B thẳng hàng  
Ba điểm B, P, C thẳng hàng  
Ba điểm D, N, C thẳng hàng
- Hình trên có 3 hình tam giác và 5 hình tứ giác.

-----HẾT-----



Loigiaihay.com

Loigiaihay.com

Loigiaihay.com

Loigiai

Loigiaihay.com

Loigiaihay.com

Loigiaiha

Loigiaihay.com

Loigiaihay.com

Loigiaihay.com

Loigiaihay.com

Loigiai

Loigiaihay.com

Loigiaihay.com

Loigiaiha

Loigiaihay.com