

ĐỀ THI GIỮA HỌC KÌ I – Đề số 3

Môn: Toán - Lớp 11

Bộ sách Chân trời sáng tạo

BIÊN SOẠN: BAN CHUYÊN MÔN LOIGIAIHAY.COM



HƯỚNG DẪN GIẢI CHI TIẾT

THỰC HIỆN: BAN CHUYÊN MÔN LOIGIAIHAY.COM

Phần trắc nghiệm (5 điểm)

Câu 1: B	Câu 2: A	Câu 3: C	Câu 4: D	Câu 5: A
Câu 6: C	Câu 7: D	Câu 8: C	Câu 9: B	Câu 10: A
Câu 11: D	Câu 12: C	Câu 13: A	Câu 14: D	Câu 15: C
Câu 16: A	Câu 17: C	Câu 18: B	Câu 19: C	Câu 20: D

Câu 1: Giá trị biểu thức $P = \cos^2 \frac{\pi}{3} - \tan \frac{\pi}{4} + \cot^2 \frac{\pi}{6} + \sin \frac{\pi}{2}$ là:

A. $\frac{9}{4}$

B. $\frac{13}{4}$

C. $\frac{17}{4}$

D. $\frac{19}{4}$

Phương pháp

Sử dụng kiến thức: $\cos \frac{\pi}{3} = \frac{1}{2}$, $\tan \frac{\pi}{4} = 1$, $\cot \frac{\pi}{6} = \sqrt{3}$, $\sin \frac{\pi}{2} = 1$

Lời giải

$$P = \cos^2 \frac{\pi}{3} - \tan \frac{\pi}{4} + \cot^2 \frac{\pi}{6} + \sin \frac{\pi}{2} = \left(\frac{1}{2}\right)^2 - 1 + (\sqrt{3})^2 + 1 = \frac{13}{4}$$

Đáp án B

Câu 2: Cho $D = \tan^2 \frac{\pi}{8} \cdot \tan \frac{3\pi}{8} \cdot \tan \frac{5\pi}{8}$. Chọn đáp án đúng.

A. $D = -1$

B. $D = 1$

C. $D = \frac{1}{2}$

D. $D = 0$

Phương pháp

Sử dụng công thức: $\tan\left(\frac{\pi}{2} - \alpha\right) = \cot \alpha$

Lời giải

$$D = -\left(\tan \frac{\pi}{8} \cdot \tan \frac{3\pi}{8}\right) \cdot \left[\tan\left(-\frac{\pi}{8}\right) \tan \frac{5\pi}{8}\right]$$

$$\text{Mà } \frac{\pi}{8} + \frac{3\pi}{8} = \frac{\pi}{2}, -\frac{\pi}{8} + \frac{5\pi}{8} = \frac{\pi}{2} \Rightarrow \tan \frac{3\pi}{8} = \cot \frac{\pi}{8}, \tan \frac{5\pi}{8} = \cot\left(-\frac{\pi}{8}\right)$$

$$\text{Nên } D = -\left(\tan \frac{\pi}{8} \cdot \cot \frac{\pi}{8}\right) \cdot \left[\tan\left(-\frac{\pi}{8}\right) \cot\left(-\frac{\pi}{8}\right)\right] = -1$$

Đáp án A

Câu 3: Chọn khẳng định đúng:

A. $\sin^4 \alpha + \cos^4 \alpha = \frac{3}{4} - \frac{\cos 4\alpha}{4}$

B. $\sin^4 \alpha + \cos^4 \alpha = -\frac{3}{4} + \frac{\cos 4\alpha}{4}$

C. $\sin^4 \alpha + \cos^4 \alpha = \frac{3}{4} + \frac{\cos 4\alpha}{4}$

D. Cả A, B, C đều sai.

Phương pháp

Sử dụng công thức: $\sin^2 \alpha = \frac{1 - \cos 2\alpha}{2}$, $2 \sin \alpha \cos \alpha = \sin 2\alpha$

Lời giải

$$\text{Ta có } \sin^4 \alpha + \cos^4 \alpha = (\sin^2 \alpha + \cos^2 \alpha)^2 - 2 \sin^2 \alpha \cos^2 \alpha = 1 - \frac{1}{2} \sin^2 2\alpha = 1 - \frac{1 - \cos 4\alpha}{4} = \frac{3}{4} + \frac{\cos 4\alpha}{4}$$

Đáp án C

Câu 4: Chọn đáp án đúng.

A. Hàm số $y = f(x)$ với tập xác định D được gọi là hàm số tuần hoàn nếu tồn tại 1 số T

khác 0 sao cho $\forall x \in D$ thì $x \pm T \in D$ và $f(x+T) = f(x)$

B. Hàm số $y = f(x)$ với tập xác định D được gọi là hàm số tuần hoàn nếu tồn tại 1 số T

khác 0 sao cho $\forall x \in D$ thì $x \pm T \in D$ và $f(x+2T) = 2f(x)$

C. Hàm số $y = f(x)$ với tập xác định D được gọi là hàm số tuần hoàn nếu tồn tại 1 số T

khác 0 sao cho $\forall x \in D$ thì $x \pm T \in D$ và $f(x-2T) = 2f(x)$

D. Hàm số $y = f(x)$ với tập xác định D được gọi là hàm số tuần hoàn nếu tồn tại 1 số T

khác 0 sao cho $\forall x \in D$ thì $x \pm T \in D$ và $f(x+T) = f(x)$

Phương pháp

Hàm số $y = f(x)$ với tập xác định D được gọi là hàm số tuần hoàn nếu tồn tại 1 số T khác 0 sao cho

$\forall x \in D$ thì $x \pm T \in D$ và $f(x+T) = f(x)$

Lời giải

Hàm số $y = f(x)$ với tập xác định D được gọi là hàm số tuần hoàn nếu tồn tại 1 số T khác 0 sao cho

$\forall x \in D$ thì $x \pm T \in D$ và $f(x+T) = f(x)$

Đáp án D

Câu 5: Nhiệt độ ngoài trời T (tính bằng $^{\circ}\text{C}$) vào thời điểm t giờ trong một ngày ở thành phố X được cho bởi

hàm số $T = 22 + 4 \sin\left(\frac{\pi}{12}t - \frac{5\pi}{6}\right)$. Để bảo quản các tác phẩm nghệ thuật, hệ thống điều hòa của một bảo

tàng tự động bật khi nhiệt độ ngoài trời từ 24°C trở lên. Dựa vào đồ thị của hàm số sin, xác định khoảng thời gian t trong ngày ($0 \leq t \leq 24$) hệ thống điều hòa được bật.

A. 12 giờ đến 20 giờ

B. 11 giờ đến 20 giờ

C. 11 giờ đến 19 giờ

D. 12 giờ đến 19 giờ

Phương pháp

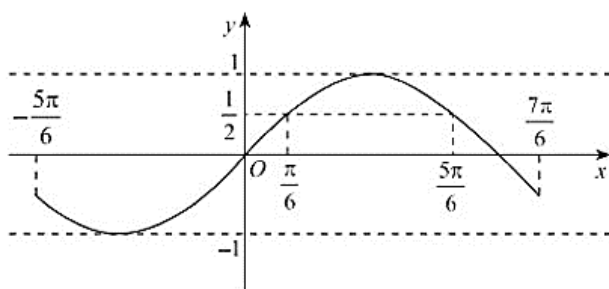
Sử dụng kiến thức về đồ thị của hàm số $y = \sin x$ để xác định khoảng thời gian t trong ngày hệ thống điều hòa được bật

Lời giải

Ta có: $T \geq 24$ nên $22 + 4 \sin\left(\frac{\pi}{12}t - \frac{5\pi}{6}\right) \geq 24$ hay $\sin\left(\frac{\pi}{12}t - \frac{5\pi}{6}\right) \geq \frac{1}{2}$

Vì $0 \leq t \leq 24$ nên $-\frac{5\pi}{6} \leq \frac{\pi}{12}t - \frac{5\pi}{6} \leq \frac{7\pi}{6}$.

Xét đồ thị hàm số $y = \sin x$ trên đoạn $\left[-\frac{5\pi}{6}; \frac{7\pi}{6}\right]$:



Ta thấy $\sin\left(\frac{\pi}{12}t - \frac{5\pi}{6}\right) \geq \frac{1}{2} \Leftrightarrow \frac{\pi}{6} \leq \frac{\pi}{12}t - \frac{5\pi}{6} \leq \frac{5\pi}{6}$ hay $12 \leq t \leq 20$

Vậy hệ thống điều hòa được bật trong khoảng thời gian từ 12 giờ đến 20 giờ trong ngày.

Đáp án A

Câu 6: Sử dụng máy tính cầm tay để giải phương trình $5\sin x - 3 = 0$ với kết quả là radian (làm tròn kết quả đến hàng phần trăm) là:

A. $x \approx 0,64 + k2\pi, k \in \mathbb{Z}$

B. $x \approx \pi - 0,64 + k2\pi, k \in \mathbb{Z}$

C. Cả A và B đều đúng

D. Cả A và B đều sai

Phương pháp

Sử dụng máy tính cầm tay để tìm nghiệm của phương trình

Lời giải

Ta có: $5\sin x - 3 = 0 \Leftrightarrow \sin x = 0,6$

Sau khi chuyển máy tính sang chế độ “radian”. Bấm liên tiếp

SHIFT	sin	0	.	6	=
-------	-----	---	---	---	---

Ta được kết quả gần đúng là 0,64.

Vậy phương trình $5\sin x - 3 = 0$ có nghiệm là $x \approx 0,64 + k2\pi, k \in \mathbb{Z}$; $x \approx \pi - 0,64 + k2\pi, k \in \mathbb{Z}$

Đáp án C

Câu 7: Phương trình $\frac{2\sin x + \cos x + 1}{\sin x - 2\cos x + 3} = a$ có nghiệm khi:

A. $a \geq \frac{-1}{2}$

B. $a \leq 2$

C. $\frac{-1}{2} \leq a \leq \frac{5}{2}$

D. $\frac{-1}{2} \leq a \leq 2$

Phương pháp

Sử dụng kiến thức: Phương trình $a\sin x + b\cos x = c$ có nghiệm khi $c^2 \leq a^2 + b^2$

Lời giải

$$\frac{2\sin x + \cos x + 1}{\sin x - 2\cos x + 3} = a \Leftrightarrow 2\sin x + \cos x + 1 = a(\sin x - 2\cos x + 3) \Leftrightarrow (2-a)\sin x + (2a+1)\cos x = 3a-1 \quad (1)$$

Phương trình (1) có nghiệm khi và chỉ khi $(2-a)^2 + (2a+1)^2 \geq (3a-1)^2 \Leftrightarrow 4a^2 - 6a - 4 \leq 0 \Leftrightarrow \frac{-1}{2} \leq a \leq 2$

Đáp án D

Câu 8:

Một chồng cột gỗ được xếp thành các hàng, hai hàng liên tiếp hơn kém nhau 1 cột gỗ (hình bên). Gọi u_n là số cột gỗ nằm ở hàng thứ n tính từ trên xuống và cho biết hàng trên cùng có 14 cột gỗ. Công thức số hạng tổng quát của dãy số u_n là:



A. $u_n = u_{n-1} + 2$

B. $u_n = 14 + n$

C. $u_n = 13 + n$

D. $u_n = u_{n-1} + 1$

Phương pháp

Tìm công thức số hạng tổng quát của dãy số (u_n) : Tính một vài số hạng đầu của dãy số. Từ đó dự đoán công thức của (u_n) theo n để tìm được công thức của số hạng tổng quát.

Lời giải

Ta có: $u_1 = 14 = 13 + 1, u_2 = 15 = 13 + 2, u_3 = 16 = 13 + 3, u_4 = 17 = 13 + 4$

Khi đó, số hạng tổng quát của dãy số (u_n) là $u_n = 13 + n$.

Đáp án C

Câu 9: Cho dãy số (u_n) với $u_n = \frac{na+3}{n+1}$. Với giá trị nào của a thì (u_n) là dãy số giảm?

A. $a = 3$

B. $a < 3$

C. $a < 4$

D. $a > 3$

Phương pháp

Dãy số (u_n) được gọi là dãy số giảm nếu $u_{n+1} < u_n$ với mọi $n \in \mathbb{N}^*$.

Lời giải

$$\text{Ta có: } u_{n+1} = \frac{(n+1)a+3}{n+1+1} = \frac{na+a+3}{n+2}$$

$$\text{Xét: } u_{n+1} - u_n = \frac{na+a+3}{n+2} - \frac{na+3}{n+1} = \frac{(na+a+3)(n+1) - (na+3)(n+2)}{(n+1)(n+2)}$$

$$= \frac{n^2a + na + 3n + na + a + 3 - n^2a - 3n - 2na - 6}{(n+1)(n+2)} = \frac{a-3}{(n+1)(n+2)}$$

Để (u_n) là dãy số giảm thì $u_{n+1} - u_n < 0$ với mọi $n \in \mathbb{N}^*$, tức là $\frac{a-3}{(n+1)(n+2)} < 0$ với mọi $n \in \mathbb{N}^*$

Mà $(n+1)(n+2) > 0$ với mọi $n \in \mathbb{N}^*$ nên $\frac{a-3}{(n+1)(n+2)} < 0 \Leftrightarrow a-3 < 0 \Leftrightarrow a < 3$

Vậy (u_n) là dãy số giảm khi $a < 3$

Đáp án B

Câu 10: Trong các dãy số sau, dãy nào là cấp số cộng với công sai âm?

A. 19;16;13;10;...

B. 19;22;25;28;...

C. $\frac{1}{2}; \frac{-1}{4}; \frac{1}{8}; \frac{-1}{16}; \dots$

D. Cả A, B, C đều sai

Phương pháp

Cấp số cộng là một dãy số, trong đó kể từ số hạng thứ hai, mỗi số hạng đều bằng tổng của số hạng đứng ngay trước nó với một số không đổi d , tức là: $u_n = u_{n-1} + d$ với $n \geq 2$

Lời giải

Xét dãy số: 19;16;13;10;..., ta có: $16 = 19 - 3, 13 = 16 - 3, 10 = 13 - 3, \dots$

Do đó, dãy số 19;16;13;10;... là cấp số cộng với công sai $d = -3 < 0$

Đáp án A

Câu 11: Một cấp số cộng có số hạng thứ tám là 75 và số hạng thứ hai mươi là 39. Công thức tổng quát của cấp số cộng là:

A. $u_n = 99 - 2n$

B. $u_n = 99 - 4n$

C. $u_n = 97 - 2n$

D. $u_n = 99 - 3n$

Phương pháp

Cho cấp số cộng (u_n) có số hạng đầu u_1 và công sai d thì số hạng tổng quát được xác định theo công thức

$$u_n = u_1 + (n-1)d$$

Lời giải

$$\text{Ta có: } \begin{cases} u_8 = 75 \\ u_{20} = 39 \end{cases} \Leftrightarrow \begin{cases} u_1 + 7d = 75 \\ u_1 + 19d = 39 \end{cases} \Leftrightarrow \begin{cases} u_1 = 96 \\ d = -3 \end{cases}$$

Vậy số hạng tổng quát là: $u_n = 96 - 3(n-1) = 99 - 3n$

Đáp án D**Câu 12:**

Một bức tường trang trí có dạng hình thang, rộng 4,8m ở đáy và rộng 2,4m ở đỉnh (hình vẽ bên). Các viên gạch hình vuông có kích thước $20\text{cm} \times 20\text{cm}$ phải được đặt sao cho mỗi hàng ở phía trên chứa ít hơn một viên so với hàng ở ngay phía dưới nó. Hỏi sẽ cần bao nhiêu viên gạch hình vuông như vậy để ốp hết bức tường?



A. 232 viên gạch

B. 233 viên gạch

C. 234 viên gạch

D. 235 viên gạch

Phương pháp

Cho cấp số cộng (u_n) có số hạng đầu u_1 và công sai d . Đặt $S_n = u_1 + u_2 + u_3 + \dots + u_n$.

$$\text{Khi đó: } S_n = \frac{(u_1 + u_n)n}{2} = \frac{[2u_1 + (n-1)d]n}{2}$$

Lời giải

Đôi $2,4m = 240cm, 4,8m = 480cm$

Số viên gạch ở hàng đầu tiên (ứng với đáy lớn là) $u_1 = 480 : 20 = 24$ (viên)

Số gạch ở hàng trên cùng (ứng với đáy nhỏ) là: $u_n = 240 : 20 = 12$ (viên)

Vì mỗi hàng ở phía trên chứa ít hơn một viên so với hàng ở ngay phía dưới nó nên ta thu được cấp số cộng có công sai $d = -1$

Như vậy, $u_n = 12 = u_1 + (n-1)(-1) \Rightarrow 12 = 24 - n + 1 \Rightarrow n = 13$

Vậy số viên gạch hình vuông cần thiết để ốp hết bức tường đó là:

$$S_{13} = \frac{(u_1 + u_{13}) \cdot 13}{2} = 234 \text{ (viên gạch)}$$

Đáp án C

Câu 13: Dãy số nào sau đây là dãy số tăng?

A. 1;4;5;8;10,...

B. 1; -2;3; -4;5;...

C. 16;10;9;5;-2

D. 1; -1;2; -2;3;...

Phương pháp

Dãy số (u_n) được gọi là dãy số tăng nếu $u_{n+1} > u_n$ với mọi $n \in \mathbb{N}^*$.

Lời giải

Vì $1 < 4 < 5 < 8 < 10, \dots$ nên dãy số 1;4;5;8;10, ... là dãy số tăng.

Đáp án A

Câu 14: Cho hình chóp S. ABCD, khi đó mặt đáy của hình chóp là:

A. SAB

B. SAC

C. SBC

D. ABCD

Phương pháp

Trong hình chóp $S.A_1A_2A_3\dots A_n$, ta gọi đa giác $A_1A_2A_3\dots A_n$ là mặt đáy.

Lời giải

Hình chóp S. ABCD có mặt đáy là ABCD

Đáp án D

Câu 15: Cho hai đường thẳng m, n cắt nhau và không đi qua điểm P. Xác định được nhiều nhất bao nhiêu mặt phẳng bởi m, n và P?

- A. 1 mặt phẳng
B. 2 mặt phẳng
C. 3 mặt phẳng
D. 4 mặt phẳng

Phương pháp

Một mặt phẳng được xác định hoàn toàn khi:

- + Biết nó đi qua một điểm và chứa một đường thẳng không đi qua điểm đó.
- + Nó chứa hai đường thẳng cắt nhau.

Lời giải

Ta xác định được các mặt phẳng là: mặt phẳng (m, n) , mặt phẳng (S, m) , mặt phẳng (S, n) . Vậy tạo được nhiều nhất ba mặt phẳng bởi m, n và P.

Đáp án C

Câu 16: Cho hình chóp S. ABCD có đáy ABCD là hình bình hành tâm O. Gọi M là trung điểm của SC.

Giao điểm I của đường thẳng AM và mặt phẳng (SBD) là:

- A. Trọng tâm tam giác SAC
B. Trọng tâm của tam giác SBD
C. Trục tâm tam giác SAC
D. Trung điểm của SO

Phương pháp

Cách tìm giao điểm của đường thẳng d và mặt phẳng (α) :

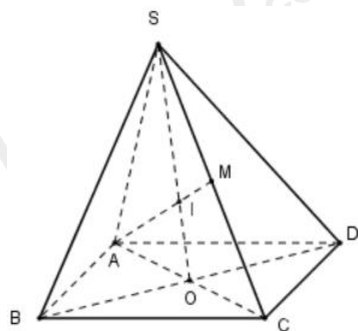
Trường hợp 1: (α) chứa đường thẳng d' và d' cắt đường thẳng d tại I. Khi đó, $I = d \cap d' \Rightarrow I = d \cap (\alpha)$

Trường hợp 2: (α) không chứa đường thẳng nào cắt d .

+ Tìm mặt phẳng (β) chứa d và $(\alpha) \cap (\beta) = d'$

+ Tìm $I = d \cap d'$. Khi đó, $I = d \cap (\alpha)$

Lời giải



Trong mặt phẳng (SAC): Gọi I là giao điểm của AM và SO.

Mà $SO \subset mp(SBD)$ nên I là giao điểm của AM và mặt phẳng (SBD).

Vì ABCD là hình bình hành nên O là trung điểm của AC.

Tam giác SAC có hai đường trung tuyến SO và AM cắt nhau tại I. Khi đó, I là trọng tâm của tam giác SAC

Đáp án A

Câu 17: Cho hai đường thẳng phân biệt a và b trong không gian. Có bao nhiêu vị trí tương đối giữa a và b?

A. 1

B. 2

C. 3

D. 4

Phương pháp

Hai đường thẳng phân biệt có ba vị trí tương đối là: song song, cắt nhau, chéo nhau.

Lời giải

Hai đường thẳng phân biệt có ba vị trí tương đối là: song song, cắt nhau, chéo nhau.

Đáp án C

Câu 18: Cho hình bình hành ABCD và một điểm S không nằm trong mặt phẳng (ABCD). Giao tuyến của hai mặt phẳng (SAB) và (SCD) là một đường thẳng song song với đường thẳng nào sau đây?

A. AD

B. AB

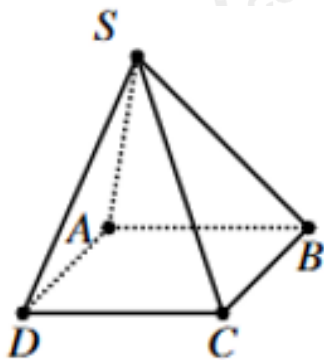
C. AC

D. BC

Phương pháp

Nếu hai mặt phẳng phân biệt lần lượt đi qua hai đường song song thì giao tuyến của chúng (nếu có) song song với hai đường thẳng đó hoặc trùng với một trong hai đường thẳng đó.

Lời giải



Vì ABCD là hình bình hành nên $AB \parallel CD$

Mà $AB \subset mp(SAB)$, $CD \subset mp(SCD)$ và S thuộc cả hai mặt phẳng (SAB) và (SCD) nên giao tuyến của hai mặt phẳng (SAB) và (SCD) là một đường thẳng song song đi qua S và song song với AB .

Đáp án B

Câu 19: Cho hình chóp $S.ABCD$ có đáy ABCD là hình bình hành. Gọi M, N lần lượt là trung điểm của AB, CD . Gọi d là giao tuyến của hai mặt phẳng (SAD) và mặt phẳng (SBC). Trong các đường thẳng AD, MN, CB, AC, BD , đường thẳng d song song với bao nhiêu đường thẳng?

A. 1

B. 2

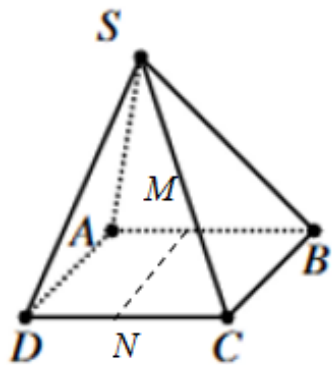
C. 3

D. 4

Phương pháp

Nếu hai đường thẳng phân biệt cùng song song với một đường thẳng thứ ba thì song song với nhau.

Lời giải



Vì ABCD là hình bình hành nên $AD \parallel CB$

Mà $AD \subset mp(SAD)$, $CB \subset mp(SCB)$ và S thuộc cả hai mặt phẳng (SAD) và (SCB) nên giao tuyến d của hai mặt phẳng (SAD) và (SCB) là một đường thẳng song song đi qua S và song song với AD, CB .

Lại có, M, N lần lượt là trung điểm của AB, CD trong hình bình hành ABCD nên $MN \parallel AD \parallel BC$. Suy ra: $d \parallel MN \parallel AD \parallel BC$

Vậy đường thẳng d song song với 3 đường thẳng là: MN, AD, BC .

Đáp án C

Câu 20: Để tích lũy tiền cho việc học đại học của con gái, cô H quyết định hằng tháng bỏ ra 600 nghìn đồng vào tài khoản tiết kiệm, được trả lãi 0,5% cộng dồn hằng tháng. Cô H sẽ tích lũy được bao nhiêu tiền vào thời điểm gửi khoản tiền thứ 185?

A. 180,9275 triệu đồng

B. 182,9275 triệu đồng

C. 185,9275 triệu đồng

D. 181,9275 triệu đồng

Phương pháp

Cấp số nhân (u_n) có số hạng đầu là u_1 và công bội q thì số hạng tổng quát u_n của nó được xác định bởi công thức $u_n = u_1 \cdot q^{n-1}$ với $n \geq 2$

Lời giải

Gọi u_n là số triệu đồng mà cô H có ở tài khoản tiết kiệm tích lũy gửi lần thứ n (vào đầu tháng thứ n). Kí hiệu $a = 0,5$ triệu đồng, $r = 0,5\%$

Số tiền của cô H ở tài khoản tiết kiệm ở đầu tháng thứ 1 là: $u_1 = a$.

Số tiền của cô H ở tài khoản tiết kiệm ở đầu tháng thứ 2 là: $u_2 = u_1(1+r) + a = a(1+r) + a$.

Số tiền của cô H ở tài khoản tiết kiệm ở đầu tháng thứ 3 là:

$$u_3 = u_2(1+r) + a = a(1+r)^2 + a(1+r) + a.$$

Tương tự cho các tháng tiếp theo, suy ra số tiền cô H ở tài khoản tiết kiệm ở đầu tháng thứ n là:

$$u_n = a(1+r)^{n-1} + a(1+r)^{n-2} + \dots + a(1+r) + a = a \frac{(1+r)^n - 1}{1+r-1} = a \frac{(1+r)^n - 1}{r}$$

Vào thời điểm gửi khoản tiền thứ 185, cô H sẽ tích lũy được: $u_{185} = a \frac{(1+r)^{185} - 1}{r} = 181,9275$ (triệu đồng)

Đáp án D

Phần tự luận (5 điểm)

Bài 1. (1,5 điểm)

1) Giải các phương trình sau:

a) $\sin^4 x + \cos^4 x = 1$

b) $\tan x + \tan 3x = 0$

2) Tìm giá trị lớn nhất và giá trị nhỏ nhất của hàm số $y = \sin^4 x + \cos^4 x$

3) Giải phương trình: Giải phương trình $\sqrt{1 - \sin x} + \sqrt{1 - \cos x} = 1$

Phương pháp

1) a) $\sin x = 0 \Leftrightarrow x = k\pi (k \in \mathbb{Z})$

b) Gọi α là số thực thuộc khoảng $\left(-\frac{\pi}{2}; \frac{\pi}{2}\right)$ sao cho $\tan \alpha = m$. Khi đó, với mọi $m \in \mathbb{R}$, ta có:

$$\tan x = m \Leftrightarrow \tan x = \tan \alpha \Leftrightarrow x = \alpha + k\pi (k \in \mathbb{Z})$$

2) Sử dụng kiến thức $-1 \leq \sin x \leq 1$

3) Sử dụng kiến thức: $\cos x = 0 \Leftrightarrow x = \frac{\pi}{2} + k\pi, k \in \mathbb{Z}$

Lời giải

$$1) a) \sin^4 x + \cos^4 x = 1 \Leftrightarrow (\sin^2 x + \cos^2 x)^2 - 2\sin^2 x \cos^2 x = 1 \Leftrightarrow \frac{1}{2} \sin^2 2x = 0$$

$$\Leftrightarrow \sin 2x = 0 \Leftrightarrow 2x = k\pi (k \in \mathbb{Z}) \Leftrightarrow x = \frac{k\pi}{2} (k \in \mathbb{Z})$$

Vậy phương trình đã cho có họ nghiệm là $x = \frac{k\pi}{2} (k \in \mathbb{Z})$

$$b) \tan x + \tan 3x = 0 \Leftrightarrow \tan 3x = -\tan x \Leftrightarrow \tan 3x = \tan(\pi - x) \Leftrightarrow 3x = \pi - x + k\pi (k \in \mathbb{Z})$$

$$\Leftrightarrow x = \frac{\pi}{4} + \frac{k\pi}{4} (k \in \mathbb{Z})$$

Vậy phương trình đã cho có họ nghiệm là $x = \frac{\pi}{4} + \frac{k\pi}{4} (k \in \mathbb{Z})$

$$2) \text{Ta có: } y = \sin^4 x + \cos^4 x = \sin^4 x + 2\sin^2 x \cos^2 x + \cos^4 x - 2\sin^2 x \cos^2 x$$

$$= (\sin^2 x + \cos^2 x)^2 - 2\sin^2 x \cos^2 x = 1^2 - \frac{1}{2} \cdot 4\sin^2 x \cos^2 x = 1 - \frac{1}{2} (2\sin x \cos x)^2 = 1 - \frac{1}{2} \sin^2 2x.$$

Vì $0 \leq \sin^2 2x \leq 1$ nên $0 \leq \frac{1}{2} \sin^2 2x \leq \frac{1}{2}$ vì vậy $\frac{1}{2} \leq 1 - \frac{1}{2} \sin^2 2x \leq 1$ với mọi $x \in \mathbb{R}$.

Giá trị lớn nhất của hàm số là 1, đạt được khi $\sin^2 2x = 0 \Rightarrow \sin 2x = 0 \Rightarrow 2x = k\pi \Rightarrow x = k\frac{\pi}{2} (k \in \mathbb{R})$

Và giá trị nhỏ nhất của hàm số là $\frac{1}{2}$, đạt được khi

$$\sin^2 2x = 1 \Rightarrow \sin 2x = \pm 1 \Rightarrow 2x = \frac{\pi}{2} + k\pi \Rightarrow x = \frac{\pi}{4} + k\frac{\pi}{2} (k \in \mathbb{R})$$

3) Điều kiện: $1 - \sin x \geq 0; 1 - \cos x \geq 0$

$$\sqrt{1 - \sin x} + \sqrt{1 - \cos x} = 1 \Leftrightarrow 1 - \sin x + 2\sqrt{(1 - \sin x)(1 - \cos x)} + 1 - \cos x = 1$$

$$\Leftrightarrow 1 - (\sin x + \cos x) + 2\sqrt{1 - (\sin x + \cos x) + \sin x \cos x} = 0 \quad (1)$$

Đặt $t = \sin x + \cos x$, điều kiện $|t| \leq \sqrt{2}$, khi đó $\sin x \cos x = \frac{t^2 - 1}{2}$, thay vào phương trình (1) ta có:

$$1 - t + 2\sqrt{\frac{t^2 - 2t + 1}{2}} = 0 \Leftrightarrow 1 - t + \sqrt{2}\sqrt{(t-1)^2} = 0 \Leftrightarrow 1 - t + \sqrt{2}|t-1| = 0 \Leftrightarrow \sqrt{2}|t-1| = t-1$$

$$\Leftrightarrow \begin{cases} 2(t-1)^2 = (t-1)^2 \\ t-1 \geq 0 \end{cases} \Leftrightarrow \begin{cases} (t-1)^2 = 0 \\ t \geq 1 \end{cases} \Leftrightarrow \begin{cases} t=1 \\ t \geq 1 \end{cases} \Leftrightarrow t=1 \text{ (thỏa mãn điều kiện)}$$

$$\text{Với } t=1 \text{ thì } \sin x + \cos x = 1 \Leftrightarrow \cos\left(x - \frac{\pi}{4}\right) = \cos \frac{\pi}{4} \Leftrightarrow \begin{cases} x - \frac{\pi}{4} = \frac{\pi}{4} + k2\pi \\ x - \frac{\pi}{4} = -\frac{\pi}{4} + k2\pi \end{cases} \quad (k \in \mathbb{Z})$$

$$\Leftrightarrow \begin{cases} x = \frac{\pi}{2} + k2\pi \\ x = k2\pi \end{cases} \quad (k \in \mathbb{Z}) \text{ (tmdk)}$$

Vậy phương trình đã cho có họ nghiệm là: $x = k2\pi, x = \frac{\pi}{2} + k2\pi (k \in \mathbb{Z})$

Bài 2. (1,5 điểm)

a) Vào năm 2020, dân số của một thành phố là khoảng 1,4 triệu người. Giả sử mỗi năm, dân số của thành phố này tăng thêm khoảng 40 nghìn người. Hãy ước tính dân số của thành phố này vào năm 2030.

b) Một công ty dược phẩm đang thử nghiệm một loại thuốc mới. Một thí nghiệm bắt đầu với $1,0 \times 10^8$ vi khuẩn. Một liều thuốc được sử dụng sau mỗi bốn giờ có thể tiêu diệt được $4,0 \times 10^7$ vi khuẩn. Giữa các liều thuốc, số lượng vi khuẩn có thể tăng lên 25%. Viết công thức truy hồi cho lượng vi khuẩn sống trước mỗi lần sử dụng.

Phương pháp

a) Nếu một cấp số cộng (u_n) có số hạng đầu u_1 và công sai d thì số hạng tổng quát u_n của nó được xác định bởi công thức: $u_n = u_1 + (n-1)d, n \geq 2$

b) Công thức truy hồi là hệ thức biểu thị số hạng thứ n của dãy số qua số hạng (hay vài số hạng) đứng trước nó.

Lời giải

a) Ta có: 1,4 triệu người = 1400 nghìn người

Dân số mỗi năm của thành phố từ năm 2020 đến năm 2030 lập thành một cấp số cộng gồm 11 số hạng, số hạng đầu $u_1 = 1400$, công sai $d = 40$ nên số hạng tổng quát của cấp số cộng là:

$$u_n = u_1 + (n-1)d = 1400 + (n-1) \cdot 40$$

Do đó, $u_{11} = u_1 + (11-1)d = 1400 + 10 \cdot 40 = 1800$ (nghìn người)

Vậy dân số của thành phố vào năm 2030 là 1,8 triệu người.

b) Gọi $u_0 = 1,0 \cdot 10^8$ là số vi khuẩn tại thời điểm ban đầu và u_n là số vi khuẩn trước lần dùng thuốc lần thứ n .

Do mỗi liều thuốc được sử dụng sau bốn giờ có thể tiêu diệt $4,0 \times 10^7$ vi khuẩn và giữa các liều thuốc, số

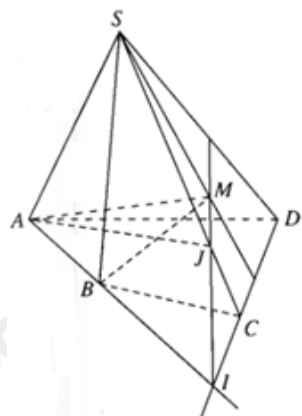
lượng vi khuẩn có thể tăng lên 25% nên ta có $u_{n+1} = (u_n - 4,0 \cdot 10^7) + 25\% \cdot u_n = 1,25u_n - 4,0 \cdot 10^7$

Bài 3. (1,0 điểm) Cho hình chóp $S.ABCD$ có đáy là tứ giác $ABCD$ có hai cạnh đối diện không song song. Lấy điểm M thuộc miền trong của tam giác SCD . Tìm giao tuyến của mặt phẳng (ABM) và mặt phẳng (SAC) .

Phương pháp

Nếu hai mặt phân biệt (P) và (Q) có điểm chung thì chúng có một đường thẳng chung duy nhất d chứa tất cả các điểm chung của hai mặt phẳng đó. Đường thẳng d đó gọi là giao tuyến của hai mặt phẳng (P) và (Q) , kí hiệu $d = (P) \cap (Q)$

Lời giải



Trong mặt phẳng $(ABCD)$, gọi I là giao điểm của AB và CD .

Vì $I \in AB \Rightarrow I \in (ABM), I \in SC \Rightarrow I \in (SCD)$

Trong mặt phẳng (SAC) , gọi J là giao điểm của IM và SC .

Ta có: $J \in SC \Rightarrow J \in mp(SAC), J \in IM \Rightarrow J \in mp(ABM)$

Lại có: $A \in mp(SAC), A \in mp(ABM)$.

Do đó, giao tuyến của mặt phẳng (ABM) và mặt phẳng (SAC) là đường thẳng AJ .

Bài 4. (1,0 điểm)

a) Cho hình chóp $S.ABCD$ có đáy là hình thang, đáy lớn AB . Các điểm M, N lần lượt là trung điểm của AD, CD . Tìm giao tuyến của mặt phẳng (SAC) và mặt phẳng (SMN) .

b) Cho tứ diện $ABCD$. Gọi M, N theo thứ tự là trung điểm của AB, BC và Q là một điểm nằm trên cạnh AD và P là giao điểm của CD với mặt phẳng (MNQ) . Chứng minh rằng $PQ // CA$.

Phương pháp

a) Nếu hai mặt phẳng phân biệt lần lượt đi qua hai đường thẳng song song thì giao tuyến của chúng (nếu có) song song với hai đường thẳng đó hoặc trùng với một trong hai đường thẳng đó.

b) Nếu ba mặt phẳng đôi một cắt nhau theo ba giao tuyến phân biệt thì ba giao tuyến ấy hoặc đồng quy hoặc đôi một song song.

Lời giải

a) Vì M, N lần lượt là trung điểm của AD, CD nên MN là đường trung bình của tam giác ACD. Do đó, $AC \parallel MN$.

Mà mặt phẳng (SAC) đi qua AC, mặt phẳng (SMN) đi qua MN và điểm S là điểm chung của mặt phẳng (SAC) và mặt phẳng (SMN). Do đó, giao tuyến của mặt phẳng (SAC) và mặt phẳng (SMN) là đường thẳng qua S song song với AC và MN.

b) Vì M, N theo thứ tự là trung điểm của AB, BC nên MN là đường trung bình của tam giác ABC. Do đó, $MN \parallel AC$.

Ba mặt phẳng (ABC), (ACD) và (MNQ) lần lượt cắt nhau theo các giao tuyến AC, MN và PQ.

Mà $MN \parallel AC$ nên $PQ \parallel MN \parallel AC$

