

Họ và tên: .....

## ĐỀ KIỂM TRA GIỮA HỌC KÌ 1 – ĐỀ 1

Lớp: .....

Môn: Toán – Lớp 4

Bộ sách: Chân trời sáng tạo

Thời gian làm bài: 40 phút

## I. TRẮC NGHIỆM

(Khoanh vào chữ đặt trước câu trả lời đúng)

**Câu 1.** Cho các số 988, 865, 934, 499, 620, 798. Dãy số đã cho có bao nhiêu số chẵn:

- A. 2 số                      B. 3 số                      C. 4 số                      D. 5 số

**Câu 2.** Giá trị của biểu thức  $3 \times a + b$  với  $a = 20$ ,  $b = 15$  là:

- A. 65                      B. 75                      C. 70                      D. 80

**Câu 3.** Mua 3 chiếc bánh hết 54 000 đồng. Vậy nếu mua 5 chiếc bánh loại đó thì hết số tiền là:

- A. 80 000 đồng            B. 75 000 000 đồng    C. 85 000 đồng            D. 90 000 000 đồng

**Câu 4.** Số thích hợp điền vào chỗ chấm là:  $15 \text{ m}^2 \text{ } 3 \text{ dm}^2 = \dots\dots\dots \text{ dm}^2$

- A. 153                      B. 1 530                      C. 1 503                      D. 15 003

**Câu 5.** Số trung bình cộng của các số 27, 34, 46, 53 là:

- A. 35                      B. 38                      C. 40                      D. 42

**Câu 6.** Các số thuộc dãy số 1, 3, 5, 7, 9, .... là:

- A. 135 và 313            B. 250 và 519            C. 320 và 482            D. 207 và 456

**Câu 7.** Dấu thích hợp điền vào chỗ chấm là:  $45 \times 54 \times 44 \dots\dots\dots 55 \times 44 \times 45$

- A. >                      B. <                      C. =                      D. Không xác định được

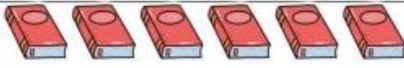
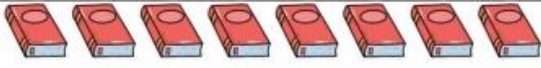
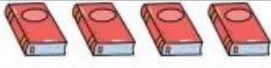


**Câu 8.** Giá trị của biểu thức  $(m + n) : p$  với  $m = 25$ ,  $n = 39$ ,  $p = 2$  là:

- A. 18                      B. 64                      C. 44                      D. 32

## II. TỰ LUẬN

**Câu 1.** Cho biểu đồ dưới đây:

Số quyển sách bán được trong 5 ngày của cửa hàng

Ngày thứ nhất	
Ngày thứ hai	
Ngày thứ ba	
Ngày thứ tư	
Ngày thứ năm	

Mỗi kí hiệu  ứng với 10 quyển sách

Dựa vào biểu đồ, trả lời các câu hỏi sau:

- a) Ngày thứ Tư bán được nhiều hơn ngày thứ Hai bao nhiêu quyển sách?
- b) Ngày bán được ít sách nhất ít hơn ngày bán được nhiều sách nhất bao nhiêu quyển sách?

.....  
 .....

**Câu 2.** Tính bằng cách thuận tiện.

a)  $2\ 023 + 13\ 258 - 23 + 742$

b)  $(128\ 217 + 152\ 000) + 71\ 783$

.....

.....

.....

.....

.....

.....

c)  $4 \times 8 \times 250$

d)  $9 \times 336 + 64 \times 9$

.....

.....

.....

.....

**Câu 3.** Nhà bác An thu hoạch được 12 487 kg cà phê, nhà bác Thành thu hoạch được ít hơn nhà bác An 563 kg cà phê. Nhà bác Tư thu hoạch được nhiều hơn nhà bác Thành 120 kg cà phê. Hỏi cả ba bác thu hoạch được bao nhiêu ki-lô-gam cà phê?

.....  
 .....  
 .....  
 .....

**Câu 4.** Mai có hai ngăn để sách. Ngăn trên có 36 quyển sách. Biết rằng trung bình mỗi ngăn có 42 quyển sách. Hỏi ngăn dưới có bao nhiêu quyển sách?

.....  
 .....  
 .....