

Họ và tên:

Lớp:

Môn: Toán – Lớp 3

Bộ sách: Cánh diều

Thời gian làm bài: 40 phút

I. TRẮC NGHIỆM

(Khoanh vào chữ đặt trước câu trả lời đúng)

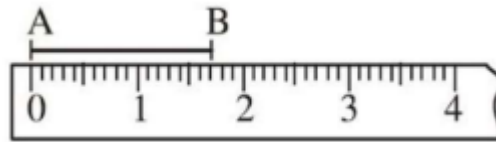
Câu 1. Kết quả của phép chia $63 : 3$ là:

- A. 24 B. 21 C. 189 D. 66

Câu 2. Bố năm nay 40 tuổi, tuổi của bố gấp 5 lần tuổi con. Hỏi sau 5 năm nữa, con bao nhiêu tuổi?

- A. 10 tuổi B. 12 tuổi C. 13 tuổi D. 14 tuổi

Câu 3. Độ dài đoạn thẳng AB là:

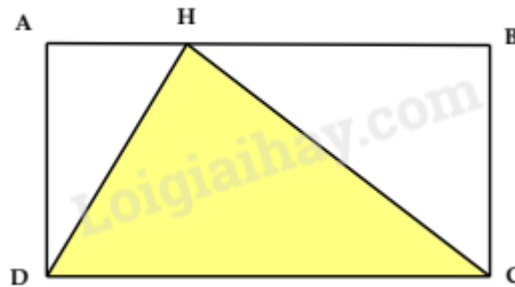


- A. 17 mm B. 20 mm C. 15 mm D. 18 mm

Câu 4. Dấu thích hợp để điền vào chỗ trống $500 \text{ ml} + 400 \text{ ml} \dots 1 \text{ l}$ là:

- A. > B. < C. = D. +

Câu 5. Hình dưới đây có mấy hình tam giác?



- A. 1 B. 2 C. 3 D. 4

Câu 6. Đàn gà nhà Hòa có 48 con. Mẹ đã bán $\frac{1}{6}$ số con gà. Hỏi đàn gà nhà Hòa còn lại bao nhiêu con?

con?

- A. 40 con B. 42 con C. 6 con D. 41 con

PHẦN 2. TỰ LUẬN

Câu 1. Đặt tính rồi tính.

342×2

$146 : 3$

Câu 2. Tính giá trị biểu thức:

$$348 + 84 : 6$$

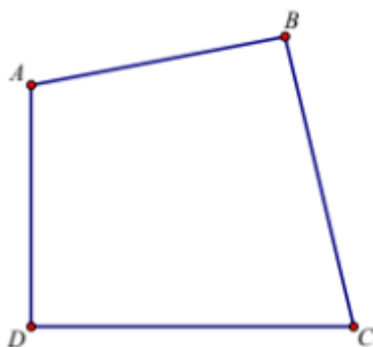
$$927 - (124 \times 3)$$

Câu 3. Có hai xe ô tô chở đoàn khách đi thăm quan viện bảo tàng. Xe thứ nhất chở 16 người. Xe thứ hai chở số người gấp đôi xe thứ nhất. Hỏi cả hai xe chở được tất cả bao nhiêu người?

Câu 4. Một đoàn khách có 114 người cần qua sông. Biết mỗi thuyền chỉ chở được tối đa 7 người. Tính số thuyền ít nhất để chở hết số người trong đoàn.



Câu 5. Quan sát hình và trả lời câu hỏi.



Trong hình tứ giác ABCD có góc vuông, góc không vuông.

Tên đỉnh các góc vuông là:

Tên đỉnh các góc không vuông là: