

ĐỀ THI HỌC KÌ I – Đề số 6

Môn: Hóa học - Lớp 11

Bộ sách Kết nối tri thức với cuộc sống

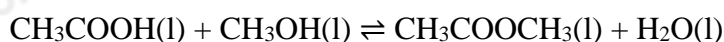
BIÊN SOẠN: BAN CHUYÊN MÔN LOIGIAIHAY.COM



Mục tiêu

- Ôn tập lý thuyết toàn bộ học kì I của chương trình sách giáo khoa Hóa 11 – Kết nối tri thức.
- Vận dụng linh hoạt lý thuyết đã học trong việc giải quyết các câu hỏi trắc nghiệm và tự luận Hóa học.
- Tổng hợp kiến thức dạng hệ thống, dàn trải tất cả các chương của học kì I – chương trình Hóa học 11.

Câu 1: Cho 2 mol CH_3COOH vào 1 mol CH_3OH xảy ra phản ứng:



Sau khi phản ứng đạt trạng thái cân bằng, hiệu suất của phản ứng là 66,67%. Giá trị hằng số cân bằng của phản ứng là

- A. 1 B. 0,5 C. 2 D. 2,5

Câu 2: Các bước dưới đây mô tả ngắn gọn cách tiến hành chuẩn độ dung dịch sodium hydroxide bằng dung dịch hydrochloric acid.

- (1) Thêm vài giọt chất chỉ thị thích hợp vào dung dịch.
- (2) Ghi lại thể tích HCl cuối cùng và lặp lại 3 lần để thu được kết quả phù hợp.
- (3) Thêm HCl vào burette và ghi thể tích.
- (4) Lấy 25 mL dung dịch NaOH vào bình tam giác bằng pipet 25 mL.
- (5) Mở khóa burette, nhỏ từ từ từng giọt dung dịch HCl vào bình tam giác đựng NaOH, lắc đều cho đến khi dung dịch đổi màu.

Thứ tự thực hiện lần lượt các bước trên là

- A. (4) → (3) → (1) → (5) → (2). B. (4) → (1) → (3) → (5) → (2).
C. (4) → (1) → (5) → (3) → (2). D. (4) → (1) → (3) → (2) → (5).

Câu 3: Cho phản ứng: $\text{C}(\text{s}) + \text{CO}_2(\text{g}) \rightleftharpoons 2\text{CO}(\text{g})$

Ở trạng thái cân bằng, hằng số cân bằng của phản ứng có biểu thức:

- A. $K_c = \frac{[\text{CO}]^2}{[\text{CO}_2] \cdot [\text{C}]}$ B. $K_c = \frac{[\text{CO}]}{[\text{CO}_2] \cdot [\text{C}]}$ C. $K_c = \frac{[\text{CO}]^2}{[\text{CO}_2]}$ D. $K_c = \frac{[\text{CO}]}{[\text{CO}_2]}$

Câu 4: Trong quá trình tổng hợp ammonia, ở trạng thái cân bằng $[\text{N}_2] = 0,45$ (M); $[\text{H}_2] = 0,14$ (M); $[\text{NH}_3] = 0,62$ (M). Giá trị hằng số cân bằng K_c của phản ứng trên **gần nhất** với

- A. 10. B. 311. C. 502. D. 6.

Câu 5: Dung dịch nào dưới đây có pH > 7?

- A. NaHCO_3 . B. NaCl . C. HCl . D. CuSO_4 .

Câu 6: Cho các phát biểu:

- (a) Trong bảng tuần hoàn, nguyên tố nitrogen ở ô số 7, chu kì 2, nhóm VA.
 (b) Trong NH₃, nitrogen thể hiện số oxi hóa thấp nhất của nitrogen trong hợp chất.
 (c) Nitrogen kém hoạt động hóa học trong mọi điều kiện nên được sử dụng tạo môi trường trơ.
 (d) Nitrogen là chất khí không duy trì sự hô hấp, sự cháy; ít tan trong nước vì phân tử khối nhỏ.
 (đ) Trong các phản ứng hóa học, nitrogen chỉ thể hiện tính oxi hóa.

Số phát biểu **đúng** là

- A. 2. B. 3. C. 4. D. 5.

Câu 7: Cho một số ứng dụng:

- (1) Nguyên liệu tổng hợp ammonia.
 (2) Khí bảo vệ để hàn kim loại.
 (3) Làm bóng đèn
 (4) Bảo quản trái cây và ngũ cốc.

Những ứng dụng nào dựa trên cơ sở tính kém hoạt động hoá học của nitrogen?

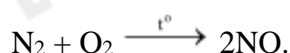
- A. (2) và (3). B. (1) và (4). C. (2), (3) và (4). D. (1) và (2).

Câu 8: Ca dao Việt Nam có câu thơ:

*“Lúa chiêm lấp ló đầu bờ
 Hễ nghe tiếng sấm phất cờ mà lên”*

Có bao nhiêu giải thích dưới đây đúng về câu ca dao trên thông qua kiến thức đã học?

- (1) Khí nitrogen khá trơ về mặt hóa học ở nhiệt độ thường nhưng khi có mặt tia lửa điện, nitrogen có thể tham gia phản ứng với khí oxygen trong không khí.
 (2) Các cơn mưa to thường kèm theo sấm sét sẽ tạo ra tia lửa điện, là điều kiện để xảy ra phản ứng:



- (3) NO được sinh ra tan vào nước và được cây hấp thụ.
 (4) Nitrogen được chuyển thành dạng NO₃⁻ nên cây có thể dễ dàng hấp thụ.
 (5) Quy trình chuyển hóa của nitrogen trong quá trình trên là: N₂ → NO → NO₂ → HNO₃.

- A. 2. B. 4. C. 3. D. 5.

Câu 9: Cho các chất: Cu, CuO, BaSO₄, Mg, KOH, C, Na₂CO₃. Tổng số chất tác dụng với dung dịch H₂SO₄ đặc, nóng là

- A. 4. B. 5. C. 6. D. 7.

Câu 10: Cho các phát biểu sau:

- (a) Khi làm vỡ nhiệt kế thủy ngân, có thể dùng bột sulfur rắc lên thủy ngân rồi gom lại.
 (b) Trong phản ứng sulfur tác dụng với kim loại, kim loại bị oxi hóa lên số oxi hóa cao nhất.
 (c) Có thể điều chế sulfur dioxide bằng phản ứng giữa sulfur và oxygen.
 (d) Sulfur có cả tính oxi hóa và tính khử.
 (đ) Sulfur là chất rắn, màu vàng, có mùi hắc ở điều kiện thường.

Có phát biểu **sai** là

A. 1.

B. 2.

C. 3.

D. 4.

Câu 11: Dung dịch sulfuric acid đặc có thể làm khô khí ẩm nào trong số các khí sau: HCl, HBr, CO₂, SO₂, SO₃, O₂ và NH₃?

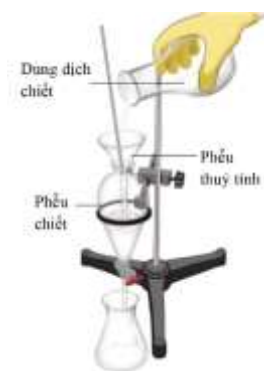
- A. HCl, HBr, SO₂, O₂. B. HCl, CO₂, SO₃, O₂. C. HCl, HBr, SO₃, O₂. D. HCl, CO₂, SO₂, O₂.

Câu 12: Khí nào dưới đây đóng vai trò là nguyên nhân chính gây ra mưa acid?

- A. Các oxide của sulfur. B. Sulfur dioxide và các oxide của nitrogen.
C. Hydrogen sulfide và các oxide của nitrogen. D. Carbon dioxide và sulfur dioxide.

Câu 13: Hình bên mô tả dụng cụ để tách hỗn hợp các chất. Phương pháp nào được sử dụng trong trường hợp này?

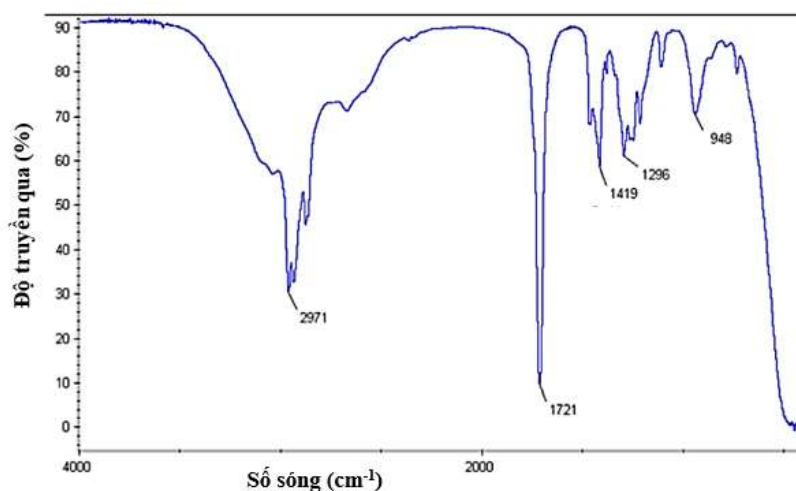
- A. Phương pháp kết tinh.
B. Phương pháp chưng cất.
C. Phương pháp bay hơi.
D. Phương pháp chiết.



Câu 14: Aniline được dùng để sản xuất metylenđiamiline. Ngoài ra chúng còn được dùng để sản xuất thuốc nhuộm, chế biến cao su, sản xuất thuốc chữa bệnh,... Một trong những giai đoạn điều chế Aniline là nitrate hóa benzene. Do đó, aniline thu được thường lẫn benzene. Sử dụng phương pháp nào để tách riêng aniline ra khỏi hỗn hợp đó? Biết nhiệt độ sôi của benzene là 80,1°C, aniline là 184,1°C.

- A. Phương pháp chiết. B. Phương pháp chưng cất phân đoạn.
C. Phương pháp chưng cất lôi cuốn hơi nước. D. Phương pháp sắc kí.

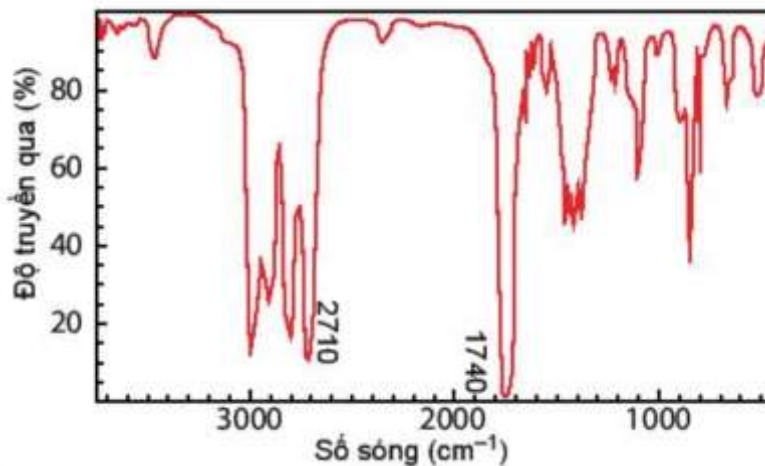
Câu 15: Chất X có công thức phân tử là C₆H₁₂O₂ và có phổ hồng ngoại (như hình) nhóm chức có trong phân tử chất X.



Nhóm chức có trong phân tử chất X là

- A. carboxylic acid. B. aldehyde. C. amine. D. alcohol.

Câu 16: Hợp chất A có công thức phân tử C₃H₆O. Khi đo phổ hồng ngoại cho kết quả như hình dưới. Công thức cấu tạo của A là

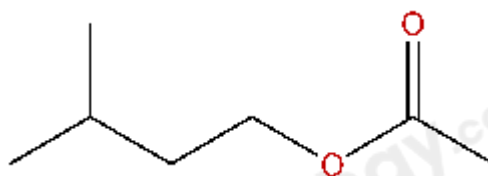


- A. $\text{CH}_3\text{-C(=O)-CH}_3$. B. $\text{CH}_2=\text{CH-CH}_2\text{-OH}$. C. $\text{CH}_3\text{-O-CH=CH}_2$ D. $\text{CH}_3\text{-CH}_2\text{-CH=O}$

Câu 17: Chất nào dưới đây là dẫn xuất hydrocarbon?

- A. C_2H_4 . B. CaCO_3 . C. $\text{C}_2\text{H}_7\text{ON}$. D. C_6H_6 .

Câu 18: Isoamyl acetate còn gọi là dầu chuối, thường được dùng để tạo mùi chuối trong thực phẩm. Do có mùi tạo hưng phấn, có cường độ mạnh và ít độc, isoamyl acetate còn được dùng để kiểm tra hiệu quả của mặt nạ chống độc hoặc mặt nạ khí.



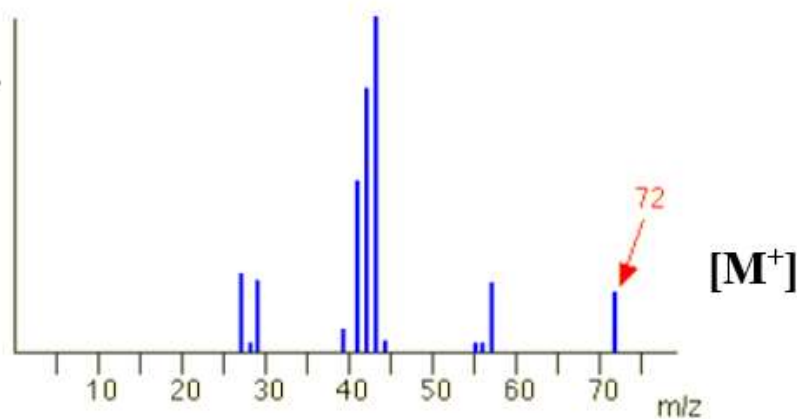
Công thức phân tử của isoamyl acetate là

- A. $\text{C}_6\text{H}_{14}\text{O}_2$. B. $\text{C}_7\text{H}_{12}\text{O}_2$. C. $\text{C}_7\text{H}_{14}\text{O}_2$. D. $\text{C}_6\text{H}_{12}\text{O}_2$.

Câu 19: Tính chất vật lí chung của các chất hữu cơ là

- A. có nhiệt độ nóng chảy và nhiệt độ sôi thấp, tan tốt trong dung môi hữu cơ.
 B. có nhiệt độ nóng chảy và nhiệt độ sôi cao, kém tan hoặc không tan trong nước.
 C. có nhiệt độ nóng chảy thấp và nhiệt độ sôi cao, tan tốt trong nước.
 D. có nhiệt độ nóng chảy cao và nhiệt độ sôi thấp, tan tốt trong nước.

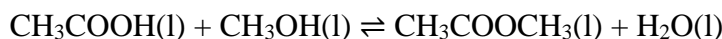
Câu 20: Kết quả phân tích nguyên tố cho thấy thành phần phần trăm về khối lượng của các nguyên tố carbon trong hydrocarbon X là 83,33%. Dựa trên thông tin đã cho và phổ khối lượng của X ở hình bên, lập được công thức phân tử của hydrocarbon X là

A. C₄H₁₀.B. C₅H₁₂.C. C₃H₈.D. C₆H₁₄.

HƯỚNG DẪN GIẢI CHI TIẾT
THỰC HIỆN: BAN CHUYÊN MÔN LOIGIAIHAY

1.C	2.B	3.C	4.B	5.A	6.A	7.C	8.B	9.B	10.B
11.D	12.B	13.D	14.B	15.A	16.D	17.C	18.C	19.A	20.B

Câu 1: Cho 2 mol CH₃COOH vào 1 mol CH₃OH xảy ra phản ứng:



Sau khi phản ứng đạt trạng thái cân bằng, hiệu suất của phản ứng là 66,67%. Giá trị hằng số cân bằng của phản ứng là

A. 1

B. 0,5

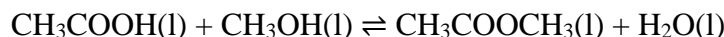
C. 2

D. 2,5

Phương pháp:

Sử dụng công thức tính hằng số cân bằng để tìm lượng chất phản ứng.

Cách giải:



Ban đầu: 2 1,5

Phản ứng: 1 ← 1,5.66,67% = 1 → 1 → 1

Cân bằng: 1 0,5 1 1

$$K_c = \frac{1 \cdot 1}{1 \cdot 0,5} = 2$$

Chọn C.

Câu 2: Các bước dưới đây mô tả ngắn gọn cách tiến hành chuẩn độ dung dịch sodium hydroxide bằng dung dịch hydrochloric acid.

- (1) Thêm vài giọt chất chỉ thị thích hợp vào dung dịch.
- (2) Ghi lại thể tích HCl cuối cùng và lặp lại 3 lần để thu được kết quả phù hợp.
- (3) Thêm HCl vào burette và ghi thể tích.
- (4) Lấy 25 mL dung dịch NaOH vào bình tam giác bằng pipet 25 mL.

(5) Mở khóa burette, nhỏ từ từ từng giọt dung dịch HCl vào bình tam giác đựng NaOH, lắc đều cho đến khi dung dịch đổi màu.

Thứ tự thực hiện lần lượt các bước trên là

A. (4) → (3) → (1) → (5) → (2).

B. (4) → (1) → (3) → (5) → (2).

C. (4) → (1) → (5) → (3) → (2).

D. (4) → (1) → (3) → (2) → (5).

Phương pháp:

Kiến thức về chuẩn độ acid – base.

Cách giải:

(4) Lấy 25 mL dung dịch NaOH vào bình tam giác bằng pipet 25 mL.

(1) Thêm vài giọt chất chỉ thị thích hợp vào dung dịch.

(3) Thêm HCl vào burette và ghi thể tích.

(5) Mở khóa burette, nhỏ từ từ từng giọt dung dịch HCl vào bình tam giác đựng NaOH, lắc đều cho đến khi dung dịch đổi màu.

(2) Ghi lại thể tích HCl cuối cùng và lặp lại 3 lần để thu được kết quả phù hợp.

Chọn B.

Câu 3: Cho phản ứng: $C(s) + CO_2(g) \rightleftharpoons 2CO(g)$

Ở trạng thái cân bằng, hằng số cân bằng của phản ứng có biểu thức:

A. $K_c = \frac{[CO]^2}{[CO_2].[C]}$

B. $K_c = \frac{[CO]}{[CO_2].[C]}$

C. $K_c = \frac{[CO]^2}{[CO_2]}$

D. $K_c = \frac{[CO]}{[CO_2]}$

Phương pháp:

Kiến thức về hằng số cân bằng.

Cách giải:

Ở trạng thái cân bằng, hằng số cân bằng của phản ứng có biểu thức

$$K_c = \frac{[CO]^2}{[CO_2]}$$

Chọn C.

Câu 4: Trong quá trình tổng hợp ammonia, ở trạng thái cân bằng $[N_2] = 0,45$ (M); $[H_2] = 0,14$ (M); $[NH_3] = 0,62$ (M). Giá trị hằng số cân bằng K_c của phản ứng trên **gần nhất** với

A. 10.

B. 311.

C. 502.

D. 6.

Phương pháp:

Công thức tính hằng số cân bằng K_c của phản ứng.

Cách giải:

$$K_c = \frac{0,62^2}{0,45 \cdot 0,14^3} = 311,3$$

Chọn B.

Câu 5: Dung dịch nào dưới đây có pH > 7?

A. $NaHCO_3$.

B. NaCl.

C. HCl.

D. $CuSO_4$.

Phương pháp:

Dung dịch có $\text{pH} > 7 \rightarrow$ Dung dịch có môi trường base.

Cách giải:

Dung dịch có môi trường base $\rightarrow \text{NaHCO}_3$.

Chọn A.

Câu 6: Cho các phát biểu:

- (a) Trong bảng tuần hoàn, nguyên tố nitrogen ở ô số 7, chu kì 2, nhóm VA.
- (b) Trong NH_3 , nitrogen thể hiện số oxi hóa thấp nhất của nitrogen trong hợp chất.
- (c) Nitrogen kém hoạt động hóa học trong mọi điều kiện nên được sử dụng tạo môi trường trơ.
- (d) Nitrogen là chất khí không duy trì sự hô hấp, sự cháy; ít tan trong nước vì phân tử khối nhỏ.
- (đ) Trong các phản ứng hóa học, nitrogen chỉ thể hiện tính oxi hóa.

Số phát biểu **đúng** là

- A. 2. B. 3. C. 4. D. 5.

Phương pháp:

Kiến thức về nitrogen và hợp chất của nitrogen.

Cách giải:

(a) **đúng**.

(b) **đúng**.

(c) **sai**, vì nitrogen hoạt động hóa học ở nhiệt độ cao.

(d) **sai**, vì khí nitrogen ít tan trong nước do phân tử không phân cực.

(đ) **sai**, vì trong các phản ứng hóa học nitrogen thể hiện cả tính khử và tính oxi hóa.

\Rightarrow Có 2 phương án đúng.

Chọn A.

Câu 7: Cho một số ứng dụng:

- (1) Nguyên liệu tổng hợp ammonia.
- (2) Khí bảo vệ để hàn kim loại.
- (3) Làm bóng đèn
- (4) Bảo quản trái cây và ngũ cốc.

Những ứng dụng nào dựa trên cơ sở tính kém hoạt động hoá học của nitrogen?

- A. (2) và (3). B. (1) và (4). C. (2), (3) và (4). D. (1) và (2).

Phương pháp:

Kiến thức về tính chất hóa học của nitrogen.

Cách giải:

(1) **sai**, vì $\text{N}_2(\text{g}) + 3\text{H}_2(\text{g}) \xrightarrow{\text{t}^\circ} 2\text{NH}_3(\text{g})$.

(2) **đúng**.

(3) **đúng**.

(4) đúng.

Chọn C.

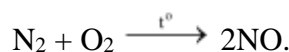
Câu 8: Ca dao Việt Nam có câu thơ:

“Lúa chiêm lấp ló đầu bờ
Hễ nghe tiếng sấm phát cò mà lên”

Có bao nhiêu giải thích dưới đây đúng về câu ca dao trên thông qua kiến thức đã học?

(1) Khí nitrogen khá trơ về mặt hóa học ở nhiệt độ thường nhưng khi có mặt tia lửa điện, nitrogen có thể tham gia phản ứng với khí oxygen trong không khí.

(2) Các cơn mưa to thường kèm theo sấm sét sẽ tạo ra tia lửa điện, là điều kiện để xảy ra phản ứng:



(3) NO được sinh ra tan vào nước và được cây hấp thụ.

(4) Nitrogen được chuyển thành dạng NO_3^- nên cây có thể dễ dàng hấp thụ.

(5) Quy trình chuyển hóa của nitrogen trong quá trình trên là: $\text{N}_2 \rightarrow \text{NO} \rightarrow \text{NO}_2 \rightarrow \text{HNO}_3$.

A. 2.

B. 4.

C. 3.

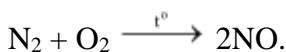
D. 5.

Phương pháp:

Kiến thức về hợp chất của nitrogen với oxygen.

Cách giải:

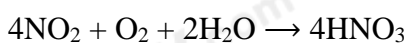
Khí nitrogen khá trơ về mặt hóa học ở nhiệt độ thường nhưng khi có mặt tia lửa điện, nitrogen có thể tham gia phản ứng với khí oxygen trong không khí. Các cơn mưa to thường kèm theo sấm sét sẽ tạo ra tia lửa điện, là điều kiện để xảy ra phản ứng:



Khí NO sinh ra tiếp tục bị chuyển hóa thành NO_2 theo phương trình:



NO_2 tiếp tục bị oxi hóa thành HNO_3



Nitric acid tan vào nước mưa và chuyển hóa thành ion NO_3^- (một dạng chất đạm) làm cho cây lúa xanh tốt, phát triển hơn vì vậy mà có câu ca dao trên.

(1), (2), (4), (5) đúng.

(3) sai, vì cây chỉ hấp thụ nitrogen dưới dạng ion NO_3^- .

Chọn B.

Câu 9: Cho các chất: Cu, CuO, BaSO₄, Mg, KOH, C, Na₂CO₃. Tổng số chất tác dụng với dung dịch H₂SO₄ đặc, nóng là

A. 4.

B. 5.

C. 6.

D. 7.

Phương pháp:

Cu, CuO, Mg, KOH, C tác dụng được với H₂SO₄ đặc nóng.

Chọn B.

Câu 10: Cho các phát biểu sau:

- (a) Khi làm vỡ nhiệt kế thủy ngân, có thể dùng bột sulfur rắc lên thủy ngân rồi gom lại.
- (b) Trong phản ứng sulfur tác dụng với kim loại, kim loại bị oxi hóa lên số oxi hóa cao nhất.
- (c) Có thể điều chế sulfur dioxide bằng phản ứng giữa sulfur và oxygen.
- (d) Sulfur có cả tính oxi hóa và tính khử.
- (đ) Sulfur là chất rắn, màu vàng, có mùi hắc ở điều kiện thường.

Có phát biểu *sai* là

- A. 1. B. 2. C. 3. D. 4.

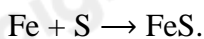
Phương pháp:

Lý thuyết về sulfur.

Cách giải:

(a) *đúng*.

(b) *sai*, vì sulfur có tính oxi hóa trung bình nên không thể oxi hóa được kim loại lên số oxi hóa cao nhất (đối với kim loại có nhiều số oxi hóa).



(c) *đúng*.

(d) *đúng*.

(đ) *sai*, vì sulfur không mùi.

⇒ 2 phát biểu sai.

Chọn B.

Câu 11: Dung dịch sulfuric acid đặc có thể làm khô khí ẩm nào trong số các khí sau: HCl, HBr, CO₂, SO₂, SO₃, O₂ và NH₃?

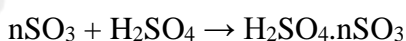
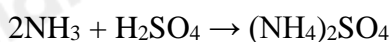
- A. HCl, HBr, SO₂, O₂. B. HCl, CO₂, SO₃, O₂. C. HCl, HBr, SO₃, O₂. D. HCl, CO₂, SO₂, O₂.

Phương pháp:

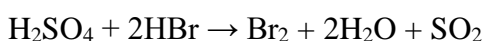
Kiến thức về tính hóa nước của sulfuric acid đặc và nguyên tắc làm khô khí.

Cách giải:

Do sulfuric acid đặc tác dụng được với những chất như: NH₃, SO₃, HBr.



oleum



Dung dịch sulfuric acid đặc được dùng làm khô khí: HCl, CO₂, SO₂, O₂.

Chọn D.

Câu 12: Khí nào dưới đây đóng vai trò là nguyên nhân chính gây ra mưa acid?

- A. Các oxide của sulfur. B. Sulfur dioxide và các oxide của nitrogen.
C. Hydrogen sulfide và các oxide của nitrogen. D. Carbon dioxide và sulfur dioxide.

Phương pháp:

Lý thuyết về mưa acid.

Cách giải:

Sulfur dioxide và các oxide của nitrogen là nguyên nhân chính gây ra mưa acid.

Chọn B.

Câu 13: Hình bên mô tả dụng cụ để tách hỗn hợp các chất. Phương pháp nào được sử dụng trong trường hợp này?

- A. Phương pháp kết tinh.
- B. Phương pháp chưng cất.
- C. Phương pháp bay hơi.
- D. Phương pháp chiết.

**Phương pháp:**

Lý thuyết về phương pháp chiết.

Cách giải:

Phương pháp chiết được sử dụng trong trường hợp này.

Chọn D.

Câu 14: Aniline được dùng để sản xuất metylendiamiline. Ngoài ra chúng còn được dùng để sản xuất thuốc nhuộm, chế biến cao su, sản xuất thuốc chữa bệnh,... Một trong những giai đoạn điều chế Aniline là nitrate hóa benzene. Do đó, aniline thu được thường lẫn benzene. Sử dụng phương pháp nào để tách riêng aniline ra khỏi hỗn hợp đó? Biết nhiệt độ sôi của benzene là $80,1^{\circ}\text{C}$, aniline là $184,1^{\circ}\text{C}$.

- A. Phương pháp chiết.
- B. Phương pháp chưng cất phân đoạn.
- C. Phương pháp chưng cất lôi cuốn hơi nước.
- D. Phương pháp sắc kí.

Phương pháp:

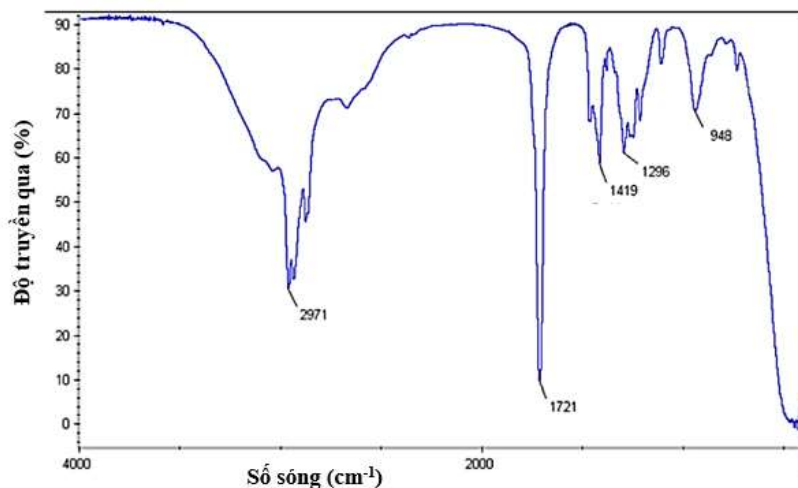
Ứng dụng phương pháp chưng cất phân đoạn.

Cách giải:

Do nhiệt độ sôi của benzene và aniline chênh lệch nhau lớn ($\approx 100^{\circ}\text{C}$) nên sử dụng phương pháp chưng cất phân đoạn để tách riêng aniline ra khỏi hỗn hợp.

Chọn B.

Câu 15: Chất X có công thức phân tử là $\text{C}_6\text{H}_{12}\text{O}_2$ và có phổ hồng ngoại (như hình) nhóm chức có trong phân tử chất X.



Nhóm chức có trong phân tử chất X là

- A. carboxylic acid. B. aldehyde. C. amine. D. alcohol.

Phương pháp:

Hợp chất	Liên kết	Số sóng (cm ⁻¹)
Alcohol	O-H	3600 – 3300
Aldehyde	C=O	1740 – 1720
	C-H	2900 – 2700
Carboxylic acid	C=O	1725 – 1700
	O-H	3300 – 2500
Ester	C=O	1750 – 1735
	C-O	1300 – 1000
Ketone	C=O	1725 – 1700
Amine	N-H	3500 – 3300

Cách giải:

Trên phổ IR của phân tử C₆H₁₂O₂ ở hình có tín hiệu đặc trưng của nhóm COOH.

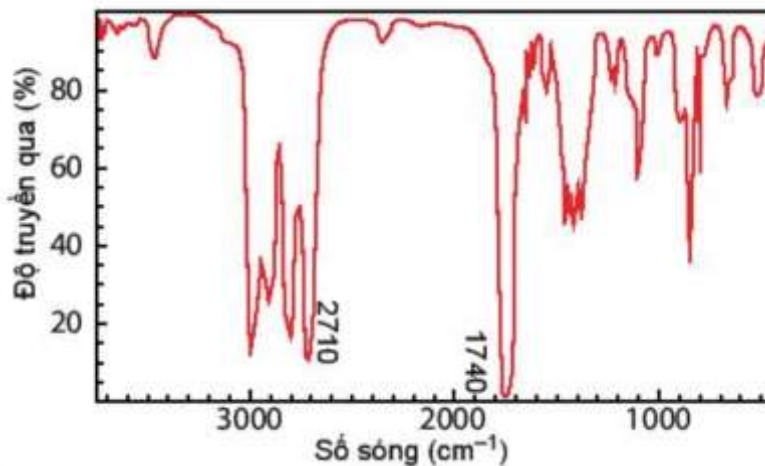
+ Tín hiệu ở 2971 cm⁻¹ là tín hiệu đặc trưng của liên kết O-H trong nhóm -COOH.

+ Tín hiệu ở 1721 cm⁻¹ là tín hiệu đặc trưng của liên kết C=O trong nhóm -COOH.

Chất X có công thức phân tử là C₆H₁₂O₂ có chứa nhóm chức -COOH của carboxylic acid.

Chọn A.

Câu 16: Hợp chất A có công thức phân tử C₃H₆O. Khi đo phổ hồng ngoại cho kết quả như hình dưới. Công thức cấu tạo của A là



- A. $\text{CH}_3\text{-C(=O)-CH}_3$. B. $\text{CH}_2=\text{CH-CH}_2\text{-OH}$. C. $\text{CH}_3\text{-O-CH=CH}_2$ D. $\text{CH}_3\text{-CH}_2\text{-CH=O}$

Phương pháp:

Hợp chất	Liên kết	Số sóng (cm^{-1})
Alcohol	O-H	3600 – 3300
Aldehyde	C=O	1740 – 1720
	C-H	2900 – 2700
Carboxylic acid	C=O	1725 – 1700
	O-H	3300 – 2500
Ester	C=O	1750 – 1735
	C-O	1300 – 1000
Ketone	C=O	1725 – 1700
Amine	N-H	3500 – 3300

Cách giải:

Quan sát phổ hồng ngoại của A thấy A có thể là hợp chất chứa nhóm chức aldehyde.

Công thức cấu tạo của A là: $\text{CH}_3\text{-CH}_2\text{-CHO}$.

Chọn D.

Câu 17: Chất nào dưới đây là dẫn xuất hydrocarbon?

- A. C_2H_4 . B. CaCO_3 . C. $\text{C}_2\text{H}_7\text{ON}$. D. C_6H_6 .

Phương pháp:

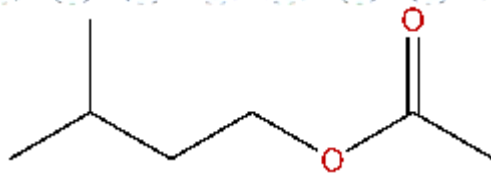
Dẫn xuất hydrocarbon là hợp chất hữu cơ của nguyên tố carbon với các nguyên tử nguyên tố khác như oxygen, nitrogen, sulfur,...

Cách giải:

Dẫn xuất hydrocarbon là $\text{C}_3\text{H}_7\text{ON}$.

Chọn C.

Câu 18: Isoamyl acetate còn gọi là dầu chuối, thường được dùng để tạo mùi chuối trong thực phẩm. Do có mùi tạo hưng phấn, có cường độ mạnh và ít độc, isoamyl acetate còn được dùng để kiểm tra hiệu quả của mặt nạ chống độc hoặc mặt nạ khí.



Công thức phân tử của isoamyl acetate là

- A. $C_6H_{14}O_2$. B. $C_7H_{12}O_2$. C. $C_7H_{14}O_2$. D. $C_6H_{12}O_2$.

Phương pháp:

Xác định công thức phân tử từ công thức cấu tạo thu gọn.

Cách giải:

Công thức phân tử của isoamyl acetate là $C_7H_{14}O_2$.

Chọn C.

Câu 19: Tính chất vật lí chung của các chất hữu cơ là

- A. có nhiệt độ nóng chảy và nhiệt độ sôi thấp, tan tốt trong dung môi hữu cơ.
 B. có nhiệt độ nóng chảy và nhiệt độ sôi cao, kém tan hoặc không tan trong nước.
 C. có nhiệt độ nóng chảy thấp và nhiệt độ sôi cao, tan tốt trong nước.
 D. có nhiệt độ nóng chảy cao và nhiệt độ sôi thấp, tan tốt trong nước.

Phương pháp:

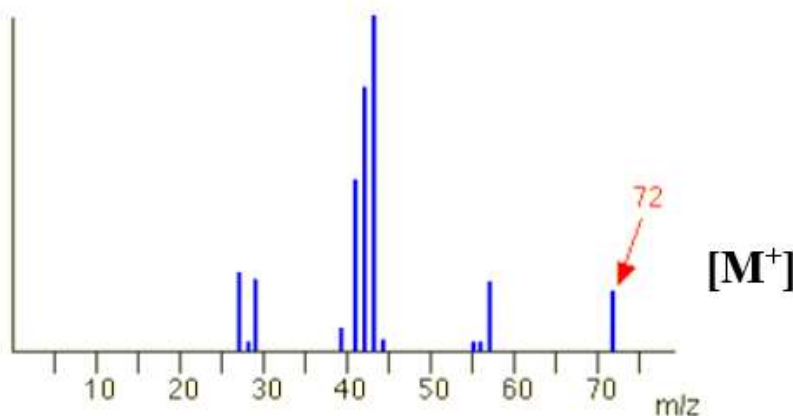
Dựa vào tính chất vật lí của chất hữu cơ

Cách giải:

Tính chất vật lí chung của các chất hữu cơ là có nhiệt độ nóng chảy và nhiệt độ sôi thấp, tan tốt trong dung môi hữu cơ.

Chọn A.

Câu 20: Kết quả phân tích nguyên tố cho thấy thành phần phần trăm về khối lượng của các nguyên tố carbon trong hydrocarbon X là 83,33%. Dựa trên thông tin đã cho và phổ khối lượng của X ở hình bên, lập được công thức phân tử của hydrocarbon X là



- A. C_4H_{10} . B. C_5H_{12} . C. C_3H_8 . D. C_6H_{14} .

Phương pháp:

$$C : H : O = \frac{\%C}{12} : \frac{\%H}{1} : \frac{\%O}{16}$$

Xác định CTPT từ CTĐGN và phân tử khối.

Cách giải:

$$C : H = \frac{\%C}{12} : \frac{\%H}{1} = \frac{83,33}{12} : \frac{16,67}{1} = 6,94 : 16,67 = 5 : 12$$

CTPT: $(C_5H_{12})_n$

$$M = 72n = 72 \Rightarrow n = 1$$

CTPT: C_5H_{12}

Chọn B.