

Họ và tên:

Lớp:

ĐỀ KIỂM TRA HỌC KÌ 1 – ĐỀ 11**Môn: Toán – Lớp 2****Bộ sách: Cánh diều**

Thời gian làm bài: 40 phút

I. TRẮC NGHIỆM (Khoanh vào chữ đặt trước câu trả lời đúng)**Câu 1.** Số liền sau của số tròn chục nhỏ nhất là:

- A. 9 B. 10 C. 11 D. 91

Câu 2. Số thích hợp điền vào chỗ chấm $6\text{dm } 3\text{cm} = \dots\dots\dots \text{cm}$ là:

- A. 36 B. 63 C. 60 D. 30

Câu 3. Kết quả của phép tính $36 + 28 - 14$ là:


- A. 54 B. 50 C. 40 D. 14

Câu 4. Lan hái được 24 bông hoa, Liên hái được nhiều hơn Lan 16 bông hoa. Liên hái được số bông hoa là:

- A. 8 bông hoa B. 39 bông hoa C. 40 bông hoa D. 18 bông hoa

Câu 5. Cô giáo chuẩn bị 7 chục món quà cho học sinh. Đến tiết sinh hoạt lớp cô phát quà cho cả lớp, mỗi bạn một món quà. Biết sĩ số lớp học là 45 bạn. Hỏi cô giáo còn lại bao nhiêu món quà?

- A. 70 món quà B. 45 món quà C. 25 món quà D. 35 món quà

Câu 6. Hình bên có bao nhiêu hình tứ giác:

- A. 5 B. 6 C. 7 D. 8

II. TỰ LUẬN**Câu 1.** Đặt tính rồi tính.

$63 + 18$

$19 + 35$

$61 - 24$

$100 - 82$

.....

.....

.....

.....

.....

.....

.....

.....

.....

.....

.....

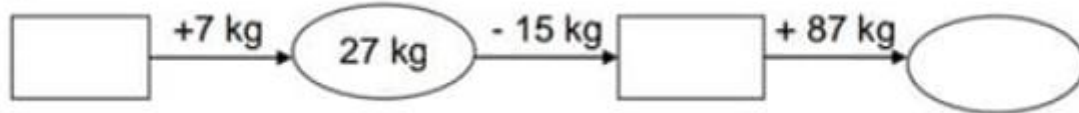
.....

Câu 2. Điền dấu $>$, $<$, $=$ thích hợp vào chỗ chấm.

$29 + 21 \dots\dots 45$

$53 - 19 \dots\dots 25 + 14$

Câu 3. Điền số đo thích hợp vào ô trống:



Câu 4. Một cửa hàng có 67 cái áo. Cửa hàng đã bán 29 cái áo. Hỏi cửa hàng đó còn lại bao nhiêu cái áo?

.....

.....

.....

Câu 5. Số thích hợp điền vào dấu ? là:

	+		=	10
	+		=	9
	+		=	6
	+		=	?

HƯỚNG DẪN GIẢI CHI TIẾT

I. TRẮC NGHIỆM

Câu 1. Số liền sau của số tròn chục nhỏ nhất là:

- A. 9 B. 10 C. 11 D. 91

Phương pháp

- Tìm số tròn chục nhỏ nhất
- Số liền sau của một số thì lớn hơn số đó 1 đơn vị

Lời giải

Số tròn chục nhỏ nhất là 10.

Vậy số liền sau của số tròn chục nhỏ nhất là: 11

Chọn C

Câu 2. Số thích hợp điền vào chỗ chấm $6\text{dm } 3\text{cm} = \dots\dots\dots$ cm là:

- A. 36 B. 63 C. 60 D. 30

Phương pháp

Áp dụng cách đổi: $1\text{ dm} = 10\text{ cm}$

Lời giải

Ta có: $6\text{dm } 3\text{cm} = 63\text{ cm}$

Chọn B

Câu 3. Kết quả của phép tính $36 + 28 - 14$ là:

- A. 54 B. 50 C. 40 D. 14

Phương pháp

Thực hiện tính lần lượt từ trái sang phải

Lời giải

$$36 + 28 - 14 = 64 - 14 = 50$$

Chọn B

Câu 4. Lan hái được 24 bông hoa, Liên hái được nhiều hơn Lan 16 bông hoa. Liên hái được số bông hoa là:

- A. 8 bông hoa B. 39 bông hoa C. 40 bông hoa D. 18 bông hoa

Phương pháp

Số bông hoa Liên hái = Số bông hoa Lan hái + 16 bông

Lời giải

Liên hái được số bông hoa là: $24 + 16 = 40$ (bông hoa)

Chọn C

Câu 5. Cô giáo chuẩn bị 7 chục món quà cho học sinh. Đến tiết sinh hoạt lớp cô phát quà cho cả lớp, mỗi bạn một món quà. Biết sĩ số lớp học là 45 bạn. Hỏi cô giáo còn lại bao nhiêu món quà?

- A. 70 món quà B. 45 món quà C. 25 món quà D. 35 món quà

Phương pháp


Số món quà còn lại = Số món quà chuẩn bị - Sĩ số lớp học

Lời giải

Cô giáo còn lại số món quà là: $70 - 45 = 25$ (món quà)

Chọn C

Câu 6. Hình bên có bao nhiêu hình tứ giác:



- A. 5 B. 6 C. 7 D. 8

Phương pháp

Quan sát hình vẽ để xác định số hình tứ giác có trong hình.

Lời giải

Hình bên có 8 hình tứ giác.

Chọn D

II. TỰ LUẬN

Câu 1. Đặt tính rồi tính.

$$63 + 18$$

$$19 + 35$$

$$61 - 24$$

$$100 - 82$$

Phương pháp

- Đặt tính sao cho các chữ số cùng hàng thẳng cột với nhau
- Cộng hoặc trừ lần lượt từ phải sang trái

Lời giải

$$\begin{array}{r} 63 \\ + 18 \\ \hline 81 \end{array}$$

$$\begin{array}{r} 19 \\ + 35 \\ \hline 54 \end{array}$$

$$\begin{array}{r} 61 \\ - 24 \\ \hline 37 \end{array}$$

$$\begin{array}{r} 100 \\ - 82 \\ \hline 18 \end{array}$$

Câu 2. Điền dấu $>$, $<$, $=$ thích hợp vào chỗ chấm.

$$29 + 21 \dots 45$$

$$53 - 19 \dots 25 + 14$$

Phương pháp

Tính kết quả các phép tính rồi so sánh hai vế

Lời giải

$29 + 21 > 45$

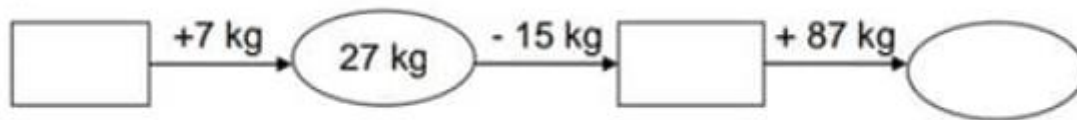
$53 - 19 < 25 + 14$

50

34

39

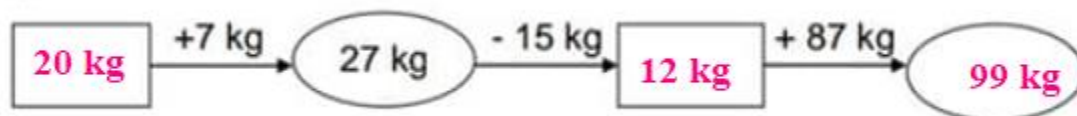
Câu 3. Điền số đo thích hợp vào ô trống:



Phương pháp

Thực hiện tính theo chiều mũi tên rồi điền số đo thích hợp vào ô trống.

Lời giải



Câu 4. Một cửa hàng có 67 cái áo. Cửa hàng đã bán 29 cái áo. Hỏi cửa hàng đó còn lại bao nhiêu cái áo?

Phương pháp

Số áo còn lại = Số cái áo cửa hàng có – số cái áo đã bán

Lời giải

Cửa hàng còn lại số cái áo là:

$67 - 29 = 38 \text{ (cái áo)}$

Đáp số: 38 cái áo

Câu 5. Số thích hợp điền vào dấu ? là:



Phương pháp

Xác định số mà mỗi con vật che từ đó xác định số điền vào dấu ?

Lời giải

Chú chuột che số 5

Chim cú che số 4

Chú vịt che số 2

Vậy số thích hợp điền vào dấu ? là $2 + 5 = 7$