

ĐỀ THI GIỮA HỌC KÌ II – ĐỀ SỐ 4

Môn: Hóa học - Lớp 10

Bộ sách Chân trời sáng tạo

BIÊN SOẠN: BAN CHUYÊN MÔN LOIGIAIHAY.COM



Mục tiêu

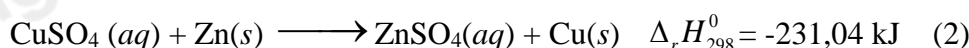
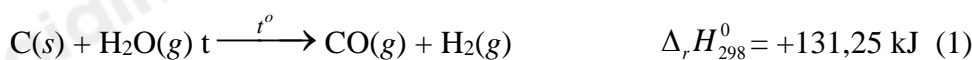
- Ôn tập lý thuyết toàn bộ giữa học kì II của chương trình sách giáo khoa Hóa học 10.
- Vận dụng linh hoạt lý thuyết đã học trong việc giải quyết các câu hỏi trắc nghiệm và tự luận Hóa học.
- Tổng hợp kiến thức dạng hệ thống, dần trải tất cả các chương của giữa học kì II – chương trình Hóa học 10.

I. Trắc nghiệm

Câu 1: Cho quá trình $\overset{0}{\text{Cu}} \longrightarrow \overset{+2}{\text{Cu}} + 2e$, đây là quá trình

- A. oxi hóa. B. khử. C. nhận proton. D. tự oxi hóa – khử.

Câu 2: Cho hai phương trình nhiệt hóa học sau:



Trong hai phản ứng trên, phản ứng nào là thu nhiệt, phản ứng nào là tỏa nhiệt?

- A. Phản ứng (1) tỏa nhiệt và phản ứng (2) thu nhiệt.
 B. Cả 2 phản ứng đều tỏa nhiệt.
 C. Cả 2 phản ứng đều thu nhiệt.
 D. Phản ứng (1) thu nhiệt và phản ứng (2) tỏa nhiệt.

Câu 3: Phản ứng nào sau đây không phải là phản ứng oxi hóa – khử?

- A. $\text{Cu} + 2\text{AgNO}_3 \rightarrow \text{Cu}(\text{NO}_3)_2 + 2\text{Ag}$ B. $\text{NaHCO}_3 \rightarrow \text{Na}_2\text{CO}_3 + \text{CO}_2 + \text{H}_2\text{O}$
 C. $4\text{Al} + 3\text{O}_2 \rightarrow 2\text{Al}_2\text{O}_3$ D. $\text{CH}_4 \rightarrow \text{C} + \text{H}_2$

Câu 4: Phản ứng (quá trình) nào sau đây là phản ứng (quá trình) thu nhiệt?

- A. Nước hoá rắn. B. Quá trình chạy của con người.
 C. Khi CH_4 đốt ở trong lò. D. Hoà tan KBr vào nước làm cho nước trở nên lạnh.

Câu 5: Nhiệt độ thường được chọn ở điều kiện chuẩn là ?

- A. 20°C . B. 25°C . C. 24°C . D. 22°C .

Câu 6: Trong phản ứng $\text{Cl}_2 + \text{Ca}(\text{OH})_2 \longrightarrow \text{CaOCl}_2 + \text{H}_2\text{O}$. Khẳng định nào sau đây về Chlorine là đúng

- A. Là chất khử B. Là chất oxi hóa
 C. Là chất oxi hóa – chất khử D. Không thể hiện tính oxi hóa - Khử

Câu 7: Enthalpy tạo thành chuẩn (nhiệt tạo thành chuẩn) có kí hiệu là :

- A. $\Delta_f H_{298}^0$. B. $\Delta_f H_{298}$. C. ΔS . D. ΔT .

Câu 8: Chất oxy hoá còn gọi là chất

- A. chất bị khử B. chất bị oxy hoá C. Chất có tính khử D. chất đi khử.

Câu 9: Trong phản ứng thu nhiệt, sự so sánh nào sau đây đúng về $\sum \Delta_f H_{298}^0(\text{cd})$ và $\sum \Delta_f H_{298}^0(\text{sp})$

- A. $\sum \Delta_f H_{298}^0(\text{cd}) = \sum \Delta_f H_{298}^0(\text{sp})$. B. $\sum \Delta_f H_{298}^0(\text{cd}) > \sum \Delta_f H_{298}^0(\text{sp})$.
 C. $\sum \Delta_f H_{298}^0(\text{cd}) \approx \sum \Delta_f H_{298}^0(\text{sp})$. D. $\sum \Delta_f H_{298}^0(\text{cd}) < \sum \Delta_f H_{298}^0(\text{sp})$.

Câu 10: Số oxi hóa của nguyên tử S trong hợp chất SO_2 là

- A. +2. B. +4. C. +6. D. -1.

Câu 11: Khi tham gia các phản ứng đốt cháy nhiên liệu, oxygen đóng vai trò là

A. chất khử.

B. chất oxi hóa.

C. acid.

D. base.

Câu 12: Nối mỗi nội dung ở cột A với nội dung ở cột B sao cho phù hợp:

Cột A	Cột B
a) Trong phản ứng thu nhiệt, dấu của ΔH dương vì	1. giải phóng năng lượng
b) Trong phản ứng tỏa nhiệt có sự	2. hấp thụ năng lượng.
c) Trong phản ứng tỏa nhiệt, ΔH có dấu âm vì	3. năng lượng của hệ chất phản ứng lớn hơn năng lượng của hệ chất sản phẩm.
d) Trong phản ứng thu nhiệt có sự	4. năng lượng của hệ chất phản ứng nhỏ hơn năng lượng của hệ chất sản phẩm.

A. a ghép với 4, b ghép với 4, c ghép với 1 và d ghép với 3.

B. a ghép với 4, b ghép với 1, c ghép với 3 và d ghép với 2.

C. a ghép với 4, b ghép với 3, c ghép với 1 và d ghép với 2.

D. a ghép với 1, b ghép với 4, c ghép với 2 và d ghép với 3.

Câu 13: Cho phản ứng hóa học: $\text{Fe} + \text{CuSO}_4 \rightarrow \text{FeSO}_4 + \text{Cu}$. Trong phản ứng trên xảy ra

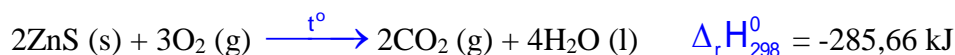
A. sự khử Fe^{2+} và sự oxi hóa Cu.

B. sự khử Fe^{2+} và sự khử Cu^{2+} .

C. sự oxi hóa Fe và sự oxi hóa Cu.

D. sự oxi hóa Fe và sự khử Cu^{2+} .

Câu 14: Cho phản ứng:



Xác định giá trị của $\Delta_r H_{298}^0$ khi lấy gấp 3 lần khối lượng của các chất phản ứng.

A. -571,32 kJ.

B. -856,98 kJ.

C. -285,66 kJ.

D. -1142,64 kJ.

Câu 15 : Cho các phát biểu sau :

(1) Phản ứng phân huỷ $\text{Fe}(\text{OH})_3(\text{s})$ không cần cung cấp nhiệt độ liên tục.

(2) Số oxi hóa của hydrogen trong các hydride kim loại bằng +1.

(3) Trộn potassium chloride (KCl) vào nước là quá trình thu nhiệt.

(4) Phản ứng của $\text{Fe}(\text{OH})_2$ với dung dịch HNO_3 loãng không có sự thay đổi số oxi hóa của Fe.

(5) Để giữ ẩm cơ thể, trước khi lặn, người ta thường uống nước mắm cốt.

Số phát biểu đúng là

A. 2.

B. 3.

C. 5.

D. 4.

Câu 16: Trong các chất sau, chất nào bền nhất về nhiệt ở điều kiện chuẩn ? Biết nhiệt tạo thành chuẩn của $\text{HCl}(\text{g})$ bằng $-92,31 \text{ kJ}\cdot\text{mol}^{-1}$.

A. $\text{O}_2(\text{g})$

B. $\text{N}_2(\text{g})$

C. $\text{Ca}(\text{s})$

D. $\text{HCl}(\text{g})$

II. Tự luận

Câu 1: Gas, nhiên liệu phổ biến hiện nay có thành phần chính là propane và butane. Nhiệt lượng giải phóng khi đốt cháy hoàn toàn 1 kg một loại gas là khoảng 50 400 kJ.

a) Biết để làm nóng 1 kg nước lên 1 độ thì cần cung cấp nhiệt lượng là 4 200 J. Để đun sôi 30 kg nước từ nhiệt độ 20°C cần cung cấp bao nhiêu kJ nhiệt?

b) Cần đốt cháy hoàn toàn bao nhiêu kg gas để cung cấp đủ nhiệt lượng trên, biết hiệu suất hấp thụ nhiệt đạt 80%.

Câu 2: Cho m gam Cu phản ứng hết với dung dịch HNO_3 , thu được 9,916 lít (đkc) hỗn hợp khí NO và NO_2 có tỉ khối đối với H_2 là 19. Giá trị của m là?

Loigiaihay.com

Loigiaihay.com

Loigiaihay.com

Loigiai

Loigiaihay.com

Loigiaihay.com

Loigiaiha

Loigiaihay.com