

Họ và tên:

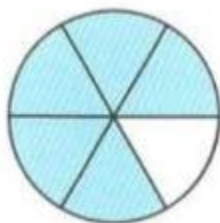
Lớp:

ĐỀ KIỂM TRA HỌC KÌ 2 – ĐỀ 1**Môn: Toán – Lớp 4****Bộ sách: Chân trời sáng tạo**

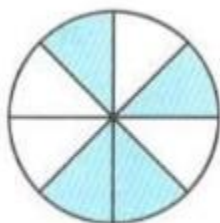
Thời gian làm bài: 40 phút

I. TRẮC NGHIỆM

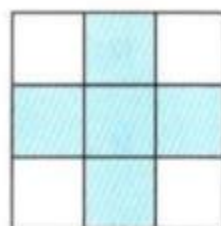
(Khoanh vào chữ đặt trước câu trả lời đúng)

Câu 1. Đã tô màu $\frac{5}{8}$ hình nào dưới đây?

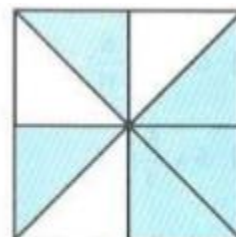
A



B




C



D

Câu 2. Giá trị của chữ số 5 trong số 159 823 964 là:

- A. 500 000 000 B. 50 000 000 C. 5 000 000 D. 500 000

Câu 3. Hình vẽ dưới đây có:

- A. 4 hình thoi B. 5 hình thoi C. 6 hình thoi D. 7 hình thoi

Câu 4. Trong một bài kiểm tra môn Tiếng Anh, Mai làm bài hết $\frac{2}{3}$ giờ, Lan làm hết $\frac{3}{5}$ giờ, Minh làm hết $\frac{11}{15}$ giờ. Hỏi bạn nào làm nhanh nhất?

- A. Mai B. Lan C. Minh D. Không xác định được

Câu 5. Một cửa hàng nhập về 8 tạ gạo. Hôm qua cửa hàng bán được $\frac{2}{5}$ số gạo nhập về. Hôm nay bán được $\frac{3}{10}$ số gạo nhập về. Vậy trung bình mỗi ngày cửa hàng bán được số ki-lô-gam gạo là:

- A. 240 kg B. 280 kg C. 160 kg D. 180 kg

Câu 6. Có hai xe chở $\frac{7}{4}$ tấn hoa quả đến các siêu thị. Xe thứ nhất chở nhiều hơn xe thứ hai $\frac{3}{8}$ tấn.

Vậy khối lượng hoa quả xe thứ hai chở là:

A. $\frac{11}{16}$ tấn

B. $\frac{17}{16}$ tấn

C. $\frac{11}{8}$ tấn

D. $\frac{5}{8}$ tấn

II. TỰ LUẬN

Câu 1. Đặt tính rồi tính.

7 102 x 19

23 625 : 75

.....

.....

.....

.....

.....

.....

Câu 2. Điền số thích hợp vào chỗ chấm.

3 tấn 18 yến = kg

3m² 5 cm² = cm²

6 623 mm² = cm² mm²

$\frac{5}{6}$ phút 17 giây = giây

Câu 3. Tính

$\frac{5}{24} + \frac{3}{4} =$

$4 - \frac{5}{8} =$

$\frac{7}{12} \times \frac{9}{14} =$ $\frac{4}{13} : \frac{5}{6} =$

Câu 4. Lớp 4A có 38 học sinh. Mỗi học sinh đóng 20 000 đồng tiền quỹ lớp. Cả lớp thống nhất dùng $\frac{5}{8}$ số tiền đó để mua sách vở giúp đỡ các bạn có hoàn cảnh khó khăn. Hỏi khi đó quỹ lớp 4A còn lại bao nhiêu tiền?

.....

Câu 5. Tính bằng cách thuận tiện.

125 x 17 x 5 x 16

$\frac{5}{9} \times \frac{8}{17} + \frac{4}{9} \times \frac{8}{17}$

.....

