

ĐỀ KIỂM TRA HỌC KÌ 1 – ĐỀ 16

Họ và tên:

Lớp:

Môn: Toán – Lớp 3

Bộ sách: Cánh diều

Thời gian làm bài: 40 phút

I. TRẮC NGHIỆM (Khoanh vào chữ cái đặt trước câu trả lời đúng)

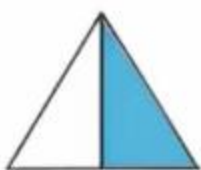
Câu 1. Điền vào chỗ chấm: $64 : 8 = \dots$

- A. 5 B. 6 C. 7 D. 8

Câu 2. Đã tô màu $\frac{1}{4}$ của hình nào dưới đây?



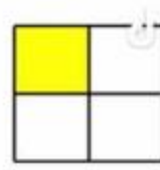
A



B



C



D

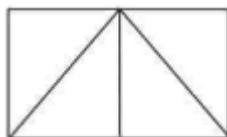
Câu 3. Giảm 108 đi 6 lần ta được số:

- A. 18 B. 102 C. 648 D. 114

Câu 4. Giá trị của biểu thức $(78 + 62) : 5$ là:

- A. 38 B. 48 C. 18 D. 28

Câu 5. Số hình tam giác có trong hình bên là:



- A. 3 B. 4 C. 5 D. 6

Câu 6. Một hình tứ giác có độ dài các cạnh lần lượt là $MN = 6$ cm, $NP = 13$ cm, $PQ = 11$ cm, $QM = 10$ cm. Chu vi hình tứ giác đó là:

- A. 30 cm B. 39 cm C. 40 cm D. 42 cm

II. TỰ LUẬN

Câu 1. Đặt tính rồi tính

- | | | | |
|----------------|----------------|-------------------|--------------|
| a) $428 + 357$ | b) $783 - 568$ | c) 253×3 | d) $572 : 4$ |
| | | | |
| | | | |
| | | | |

Câu 2. Điền số thích hợp vào chỗ chấm

a) Bạn An chia đều 84 hạt giống cho 4 tổ để trồng cây. Số hạt giống mỗi tổ nhận được là hạt.

b) Một hộp bánh có 12 cái bánh. 6 hộp bánh có..... cái bánh

c) Nam cùng mẹ chuẩn bị đặt bánh pizza cho buổi tiệc sinh nhật sắp đến của mình. Có 34 bạn đến dự tiệc sinh nhật Nam. Cứ 3 bạn thì ăn hết 1 cái bánh. Nam cần đặt ít nhất..... cái bánh cho buổi tiệc.

Câu 3. Một mảnh đất hình chữ nhật có chiều rộng 6 m, chiều dài gấp 3 lần chiều rộng. Tính chu vi của mảnh đất hình chữ nhật đó.

.....
.....
.....

Câu 4. Một giá sách có hai ngăn. Ngăn trên có 76 quyển sách, số sách ngăn dưới gấp 2 lần số sách ở ngăn trên. Hỏi cả hai ngăn có bao nhiêu quyển sách?

.....
.....
.....