

ĐỀ KIỂM TRA HỌC KÌ 1 – ĐỀ 16

Họ và tên:

Lớp:

Môn: Toán – Lớp 3

Bộ sách: Chân trời sáng tạo

Thời gian làm bài: 40 phút

I. TRẮC NGHIỆM (Khoanh vào chữ cái đặt trước câu trả lời đúng)

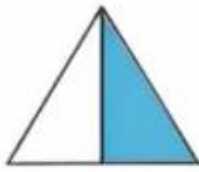
Câu 1. Số La Mã XIX là số nào?

- A. 20 B. 19 C. 18 D. 17

Câu 2. Đã tô màu $\frac{1}{4}$ của hình nào dưới đây?



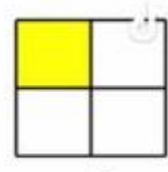
A



B



C



D

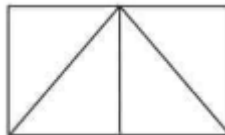
Câu 3. Giảm 108 đi 6 lần ta được số:

- A. 18 B. 102 C. 648 D. 114

Câu 4. Giá trị của biểu thức $(78 + 62) : 5$ là:

- A. 38 B. 48 C. 18 D. 28

Câu 5. Số hình tam giác có trong hình bên là:



- A. 3 B. 4 C. 5 D. 6

Câu 6. Số 456 được làm tròn đến hàng chục là:

- A. 450 B. 500 C. 400 D. 460

II. TỰ LUẬN

Câu 1. Đặt tính rồi tính

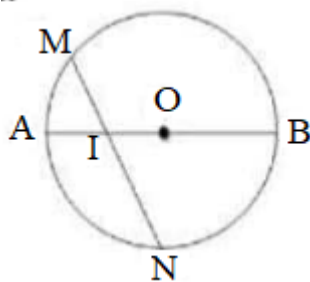
- | | | | |
|----------------|----------------|-------------------|--------------|
| a) $428 + 357$ | b) $783 - 568$ | c) 253×3 | d) $572 : 4$ |
| | | | |
| | | | |
| | | | |

Câu 2. Tìm thành phần chưa biết trong phép tính.

- a) $? \times 2 = 462$ b) $? : 5 = 15$

.....

Câu 3. Quan sát hình bên. Đúng ghi Đ, sai ghi S



- a) Hình tròn tâm O có bán kính là OA, OB
 b) Đường kính dài gấp 2 lần bán kính
 c) Hình tròn tâm O có đường kính là MN, AB
 d) I là trung điểm của đoạn thẳng MN

Câu 4. Điền số thích hợp vào chỗ chấm

- a) Bạn An chia đều 84 hạt giống cho 4 tổ để trồng cây. Số hạt giống mỗi tổ nhận được là hạt.
- b) Một hộp bánh có 12 cái bánh. 6 hộp bánh có..... cái bánh
- c) Nam cùng mẹ chuẩn bị đặt bánh pizza cho buổi tiệc sinh nhật sắp đến của mình. Có 34 bạn đến dự tiệc sinh nhật Nam. Cứ 3 bạn thì ăn hết 1 cái bánh. Nam cần đặt ít nhất..... cái bánh cho buổi tiệc.

Câu 5. Một giá sách có hai ngăn. Ngăn trên có 76 quyển sách, số sách ngăn dưới gấp 2 lần số sách ở ngăn trên. Hỏi cả hai ngăn có bao nhiêu quyển sách?

.....

