

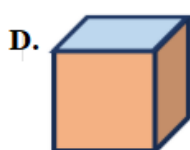
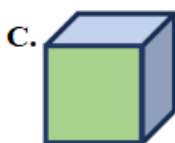
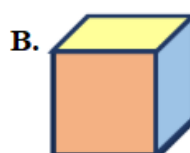
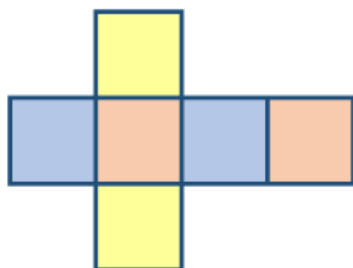
Họ và tên:

Lớp:

Môn: Toán – Lớp 5

Bộ sách: Cánh diều

Thời gian làm bài: 40 phút

I. TRẮC NGHIỆM (Khoanh vào chữ đặt trước câu trả lời đúng)**Câu 1.** Tấm bìa như hình bên có thể gấp được hình nào dưới đây?**Câu 2.** Số thích hợp điền vào chỗ chấm 6 phút 6 giây = phút là:

A. 6,6

B. 6,1

C. 6,06

D. 6,01

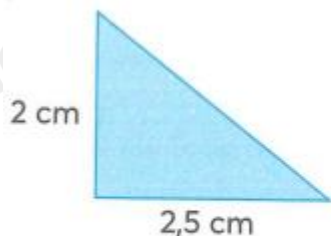
Câu 3. Số thích hợp để điền vào chỗ chấm $0,37 \text{ m}^3 = \dots\dots \text{ dm}^3$ là:

A. 3 700

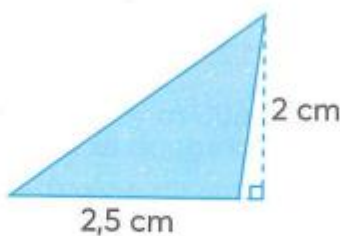
B. 370

C. 37

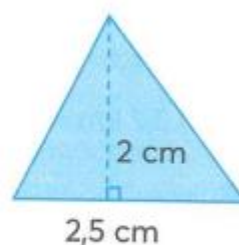
D. 3,7

Câu 4.

Hình 1



Hình 2



Hình 3

A. Hình 1 có diện tích lớn nhất

B. Hình 2 có diện tích lớn nhất

C. Hình 3 có diện tích lớn nhất

D. Ba hình có diện tích bằng nhau

Câu 5. Một mảnh đất dạng hình thang có độ dài hai đáy là 4,5 m và 5,4 m, chiều cao là 12m. Diện tích của mảnh đất đó là:

A. 291,6 m²B. 118,8 m²C. 59,4 m²D. 145,8 m²

Câu 6. Cuối năm 2005, số dân của huyện Đan Phượng là 62 500 người. Mức tăng dân số hàng năm là 1,2%. Hỏi cuối năm 2006 số dân của huyện Đan Phượng là bao nhiêu người?

A. 64 000 người

B. 63 350 người

C. 64 090 người

D. 63 250 người

II. TỰ LUẬN

Câu 1. Thực hiện phép tính

a) 7 giờ 12 phút + 6 giờ 48 phút

b) 12 năm 2 tháng – 8 năm 7 tháng

c) 3,5 tuần x 9

d) 134,4 giây : 6

Câu 2. Đúng ghi Đ, sai S

a) $0,22 \text{ m}^3 = 220 \text{ dm}^3$
b) $7 \text{ cm}^3 = 0,7 \text{ dm}^3$

Câu 3. Đường kính của một bánh xe đạp là 60 cm. Để người đi xe đạp đi được quãng đường 1884m thì mỗi bánh xe phải lăn bao nhiêu vòng?

.....

.....

.....

.....

Câu 4. Nam làm xúc xắc bằng khối gỗ có cạnh là 2,4 dm.

a. Một xăng-ti-mét khối gỗ nặng 0,75 gam. Tính xúc xắc đó nặng bao nhiêu ki-lô-gam?

b. Người ta cần sơn màu trắng tất cả các mặt của khối gỗ rồi lấy bút chấm những chấm tròn đen. Tính diện tích cần sơn màu trắng trên chiếc xúc xắc đó.

.....

.....

.....

.....

Truy cập <https://loigiaihay.com/> để xem lời giải SGK, SBT, VBT từ lớp 1 - lớp 12 tất cả các môn

2