

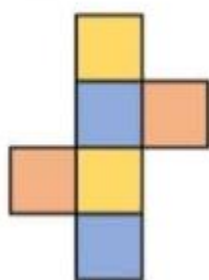
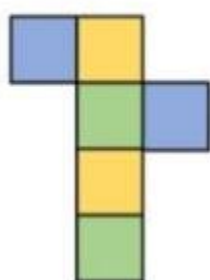
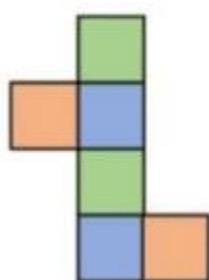
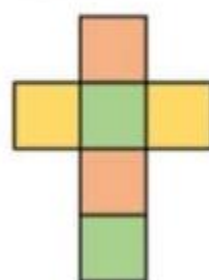
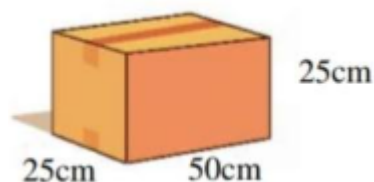
Họ và tên:

Lớp:

Môn: Toán – Lớp 5

Bộ sách: Chân trời sáng tạo

Thời gian làm bài: 40 phút

I. TRẮC NGHIỆM (Khoanh vào chữ đặt trước câu trả lời đúng)**Câu 1.** Hình khai triển của hình lập phương bên là:**A****B****C****D****Câu 2.** Tỷ số phần trăm của 12 và 60 là:**A.** 40 %**B.** 20 %**C.** 30 %**D.** 12 %**Câu 3.** Số thích hợp để điền vào chỗ chấm 3,4 giờ = phút.**A.** 200 phút**B.** 204 phút**C.** 190 phút**D.** 215 phút**Câu 4.** $7\,052\text{ cm}^3 = \dots\dots\text{ dm}^3$. Số thích hợp điền vào chỗ chấm là:**A.** 7,052**B.** 70,52**C.** 705,2**D.** 0,7052**Câu 5.** Một hình thang có độ dài hai đáy lần lượt là 26 cm và 64 cm, chiều cao là 7,2 dm. Diện tích hình thang là:**A.** 3240 cm^2 **B.** 3420 cm^2 **C.** 2430 cm^2 **D.** 2043 cm^2 **Câu 6.** Diện tích xung quanh của hình hộp chữ nhật bên là:**A.** $3\,750\text{ cm}^2$ **B.** $1\,250\text{ cm}^2$ **C.** $1\,870\text{ cm}^2$ **D.** $6\,250\text{ cm}^2$ **II. TỰ LUẬN****Câu 1.** Đặt tính rồi tính

a) 11 giờ 24 phút + 3 giờ 38 phút

b) 15 giờ 10 phút – 14 giờ 20 phút

.....

c) 1 giờ 15 phút x 4

.....

.....

d) 17 phút 4 giây : 2

.....

Câu 2. Điền dấu >, <, = vào chỗ chấm

$3\ 600\ \text{cm}^3$ $3,6\ \text{dm}^3$

$68\ 057\ \text{dm}^3$ $68,57\ \text{m}^3$

$2\ \text{dm}^3\ 3\ \text{cm}^3$ $2,03\ \text{dm}^3$

$4,5\ \text{m}^3$ $4\ \text{m}^3\ 98\ \text{dm}^3$

Câu 3. Một mảnh đất hình chữ nhật có chu vi là 70m, chiều dài gấp 4 lần chiều rộng. Người ta dành ra 15% để trồng cây cảnh và phần còn lại dùng để làm nhà. Tính diện tích đất để làm nhà?

.....

Câu 4. Một bể chứa nước dạng hình hộp chữ nhật có kích thước trong lòng bể là: chiều dài 3m, chiều rộng 1,5 m và chiều cao là 1,2 m.

a) Hỏi bể đó chứa được bao nhiêu lít nước. ($1\ \text{dm}^3 = 1\ \text{lít}$)

b) Tính chiều cao mực nước trong bể hiện tại biết lượng nước chiếm 60% thể tích bể.

.....

